



PREFEITURA MUNICIPAL
BOM JESUS
DO ITABAPOANA



SECRETARIA
MUNICIPAL DE
EDUCAÇÃO

Atividades Orientadoras

2º ANO
Ensino Fundamental 1





UNIDADE ESCOLAR:

PROFESSOR(A) ANO DE ESCOLARIDADE DATA

NOME:

HOJE É?

SEGUNDA TERÇA QUARTA QUINTA SEXTA

CÓDIGO BNCC

EF15LP14/EF15LP03/EF15LP12

LÍNGUA PORTUGUESA

LINGUAGEM ORAL, LEITURA E ESCRITA

1. TIRINHA.



2. ESTE TEXTO TEM A FUNÇÃO DE:

- A) INFORMAR.
- B) DIVERTIR.
- C) DAR INSTRUÇÕES.

3. UM DOS SINAIS UTILIZADOS NOS BALÕES DO SEGUNDO QUADRINHO É ? (SINAL DE INTERROGAÇÃO) O QUE ELE PODE SIGNIFICAR?

4. QUAL É O HUMOR DA TIRINHA?

5. QUAL É A MELHOR MANEIRA DE IR BEM EM UMA PROVA?

**COPA DO MUNDO 2026
É HORA DE TORCER PELO BRASIL!**

6. DESEMBARALHE AS LETRAS E ESCREVA O NOME DAS FIGURAS DO FUTEBOL.



danio dissembhr



7. ADIVINHE O NOME DOS PAÍSES:





UNIDADE ESCOLAR:

PROFESSOR(A) ANO DE ESCOLARIDADE DATA

NOME:

HOJE É?

SEGUNDA TERÇA QUARTA QUINTA SEXTA

CÓDIGO BNCC

EF02MA05/EF02MA06

MATEMÁTICA

1. USE OS RESULTADOS DAS ADIÇÕES PARA DESCOBRIR UMA CURIOSIDADE SOBRE A COPA DO MUNDO.

$\begin{array}{r} 739 \\ +154 \\ \hline \end{array}$	$\begin{array}{r} 815 \\ +185 \\ \hline \end{array}$	$\begin{array}{r} 640 \\ +387 \\ \hline \end{array}$	$\begin{array}{r} 457 \\ +161 \\ \hline \end{array}$	$\begin{array}{r} 328 \\ +190 \\ \hline \end{array}$
--	--	--	--	--

<input type="text" value="VENCEU"/>	<input type="text" value="o"/>	<input type="text" value="do"/>	<input type="text" value="CINCO"/>	<input type="text" value="JÁ"/>
-------------------------------------	--------------------------------	---------------------------------	------------------------------------	---------------------------------

$\begin{array}{r} 269 \\ +235 \\ \hline \end{array}$	$\begin{array}{r} 520 \\ +284 \\ \hline \end{array}$	$\begin{array}{r} 928 \\ +64 \\ \hline \end{array}$	$\begin{array}{r} 416 \\ +356 \\ \hline \end{array}$	$\begin{array}{r} 478 \\ +217 \\ \hline \end{array}$
--	--	---	--	--

<input type="text" value="MUNDO"/>	<input type="text" value="VEZES"/>	<input type="text" value="BRASIL"/>	<input type="text" value="A"/>	<input type="text" value="COPA"/>
------------------------------------	------------------------------------	-------------------------------------	--------------------------------	-----------------------------------

$\begin{array}{r} 1000 \\ \hline \end{array}$	$\begin{array}{r} 992 \\ \hline \end{array}$	$\begin{array}{r} 518 \\ \hline \end{array}$	$\begin{array}{r} 893 \\ \hline \end{array}$
---	--	--	--

$\begin{array}{r} 772 \\ \hline \end{array}$	$\begin{array}{r} 695 \\ \hline \end{array}$	$\begin{array}{r} 1027 \\ \hline \end{array}$	$\begin{array}{r} 504 \\ \hline \end{array}$
--	--	---	--

$\begin{array}{r} 618 \\ \hline \end{array}$
--

$\begin{array}{r} 804 \\ \hline \end{array}$
--

SITUAÇÕES PROBLEMA

1. NA COPA DO MUNDO, O BRASIL VENDEU 125 CAMISETAS EM UM DIA E 143 NO OUTRO. QUANTAS CAMISETAS FORAM VENDIDAS AO TODO?

R: _____

C	D	U

2. UMA LOJA VENDEU 218 BOLAS DE FUTEBOL PELA MANHÃ E 101 À TARDE. QUANTAS BOLAS FORAM VENDIDAS NO TOTAL?

R: _____

C	D	U

3. EM UM ESTÁDIO HAVIA 156 TORCEDORES. DEPOIS CHEGARAM MAIS 122 PESSOAS. QUANTAS PESSOAS FICARAM NO ESTÁDIO?

R: _____

C	D	U

6. LUCAS TINHA 275 FIGURINHAS DA COPA. ELE DEU 123 PARA SEU PRIMO. COM QUANTAS FIGURINHAS LUCAS FICOU?

R: _____

C	D	U

7. NO ESTÁDIO HAVIA 359 TORCEDORES. APÓS O JOGO, 145 FORAM EMBORA. QUANTOS TORCEDORES PERMANECERAM NO ESTÁDIO?

R: _____

C	D	U

8. UMA LOJA TINHA 298 BOLAS DE FUTEBOL. VENDEU 124 BOLAS. QUANTAS BOLAS RESTARAM?

R: _____

C	D	U

9. CADA TIME TROUXE 5 BOLAS PARA O TREINO. PARTICIPARAM 4 TIMES. QUANTAS BOLAS HAVIA AO TODO?

R: _____

10. EM CADA PACOTE HÁ 6 FIGURINHAS DA COPA. MARINA COMPROU 3 PACOTES. QUANTAS FIGURINHAS ELA COMPROU?

R: _____



PREFEITURA MUNICIPAL
BOM JESUS
DO ITABAPOANA



SECRETARIA
MUNICIPAL DE
EDUCAÇÃO

UNIDADE ESCOLAR:

PROFESSOR(A) ANO DE ESCOLARIDADE DATA

NOME:

HOJE É?



CÓDIGO BNCC

EF15LP02/EF15LP03/EF02LP28/EF15LP12

LÍNGUA PORTUGUESA

LINGUAGEM ORAL, LEITURA E ESCRITA

1. LEIA O TEXTO INFORMATIVO JUNTO DA PROFESSORA E RESPONDA.



A COPA DO MUNDO É O MAIOR TORNEIO DE FUTEBOL ENTRE SELEÇÕES NACIONAIS E ACONTECE A CADA QUATRO ANOS, SENDO ORGANIZADA PELA FIFA. DURANTE A COMPETIÇÃO, MILHÕES DE PESSOAS ACOMPANHAM OS JOGOS PELA TELEVISÃO, INTERNET E NOS ESTÁDIOS. TORCEDORES DE VÁRIOS PAÍSES SE REÚNEM PARA APOIAR SUAS SELEÇÕES, MOSTRANDO COMO O FUTEBOL CONSEGUE UNIR DIFERENTES CULTURAS E POVOS.

ALÉM DO ESPORTE, A COPA DO MUNDO TAMBÉM MOVIMENTA A ECONOMIA DOS PAÍSES-SEDE, ATRAINDO TURISTAS E GERANDO OPORTUNIDADES DE TRABALHO. DENTRO DE CAMPO, OS JOGADORES DEMONSTRAM DEDICAÇÃO, HABILIDADE E TRABALHO EM EQUIPE. O TORNEIO REPRESENTA AMIZADE, RESPEITO E ALEGRIA, SENDO ESPERADO COM ENTUSIASMO POR PESSOAS DE TODAS AS IDADES.

1.QUAL É O TÍTULO DO TEXTO?

_____.

2.QUAL É O ASSUNTO DO TEXTO?

_____.

3.NUMERE OS PARÁGRAFOS DO TEXTO.

4. QUEM ORGANIZA A COPA DO MUNDO? _____.

5.DE QUANTO EM QUANTO TEMPO ELA ACONTECE?

_____.

6.DE ACORDO COM O TEXTO, DE ONDE AS PESSOAS PODEM ACOMPANHAR OS JOGOS?

_____.

7.O QUE O TORNEIO REPRESENTA?

_____.

8.COMPLETE AS FRASES USANDO AS PALAVRAS CORRETAS.

TORCIDA – FIFA – TÉCNICO – GOL – ESTÁDIOS – SELEÇÃO – ÁRBITRO –
GOLEIRO - TROFÉU

A) A COPA DO MUNDO É ORGANIZADA PELA _____, ENTIDADE RESPONSÁVEL PELO FUTEBOL MUNDIAL.

B) O JOGADOR QUE USA AS MÃOS PARA DEFENDER O GOL DENTRO DA ÁREA É CHAMADO DE _____.

C) A SELEÇÃO CAMPEÃ DA COPA DO MUNDO RECEBE UM IMPORTANTE _____ COMO PRÊMIO.

D) OS JOGOS DA COPA DO MUNDO ACONTECEM EM GRANDES _____ PREPARADOS PARA RECEBER MILHARES DE TORCEDORES.

E) DURANTE A PARTIDA, O _____ É RESPONSÁVEL POR APLICAR AS REGRAS DO JOGO.

F) QUANDO A BOLA ULTRAPASSA COMPLETAMENTE A LINHA DO GOL, ACONTECE UM _____.

G) O _____ É O TREINADOR RESPONSÁVEL POR ORIENTAR E PREPARAR OS JOGADORES.

H) A _____ REPRESENTA O PAÍS QUE PARTICIPA DA COMPETIÇÃO.

I) O CONJUNTO DE PESSOAS QUE ASSISTEM E APOIAM O TIME DURANTE OS JOGOS É CHAMADO DE _____.



UNIDADE ESCOLAR:

PROFESSOR(A) ANO DE ESCOLARIDADE DATA

NOME:

HOJE É?

SEGUNDA TERÇA QUARTA QUINTA SEXTA

CÓDIGO BNCC

EF02MA01/EF02MA02

MATEMÁTICA

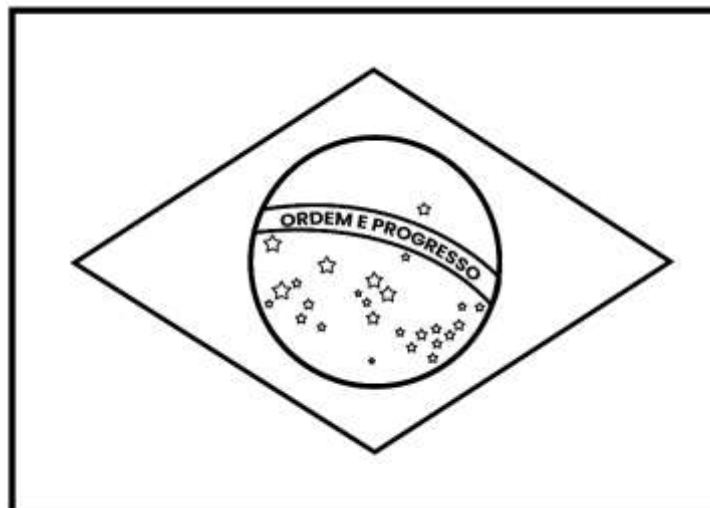
1. SABENDO QUE A COPA DO MUNDO ACONTECE A CADA 4 ANOS E QUE UMA EDIÇÃO SERÁ EM 2026, EM QUE ANO SERÁ A PRÓXIMA COPA? REGISTRE NO ÚLTIMO QUADRINHO,

2026				
------	--	--	--	--

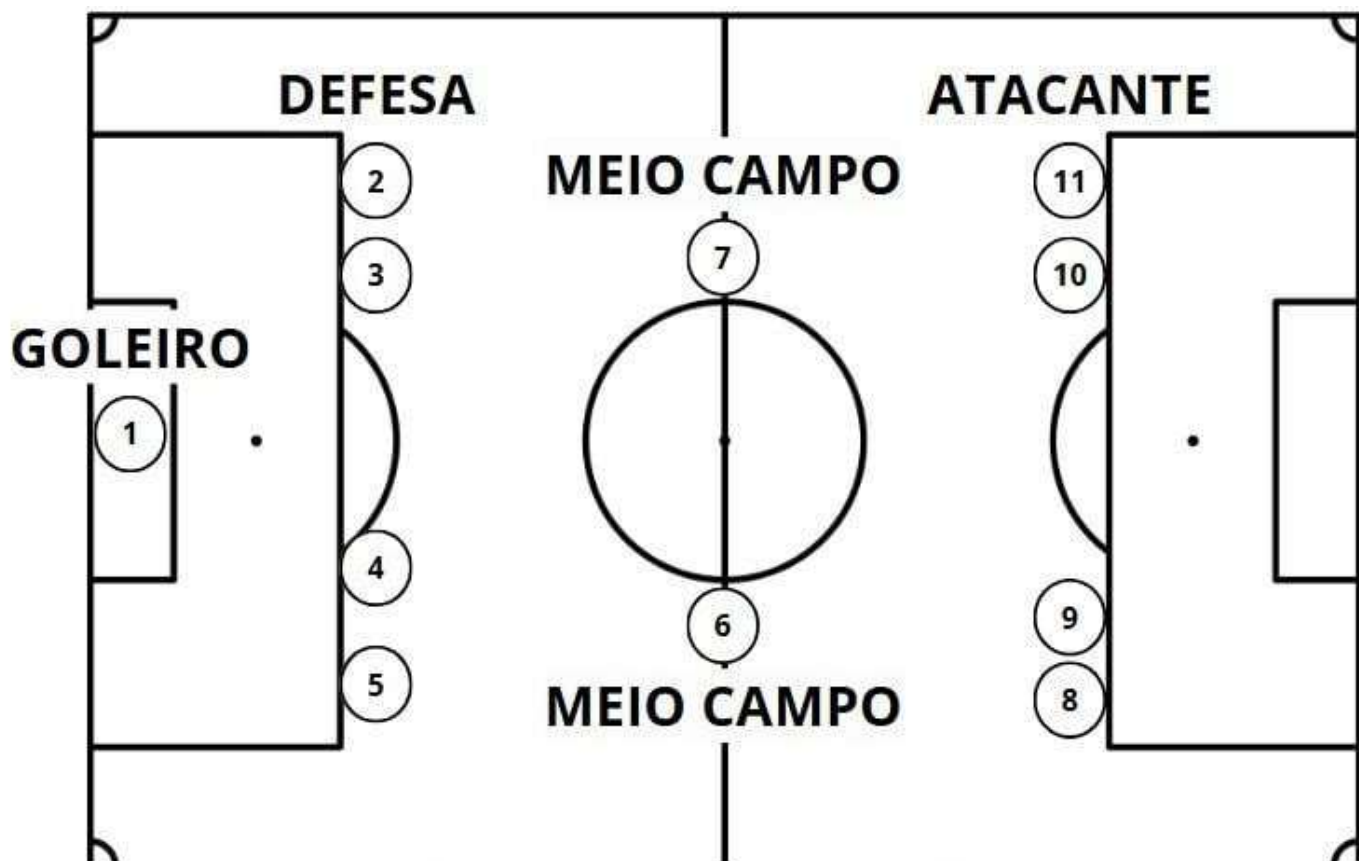
2. JUNTO DA PROFESSORA, PESQUISE E PINTE A QUANTIDADE DE TROFÉUS CORRESPONDENTE AO NÚMERO DE VEZES QUE O BRASIL FOI CAMPEÃO MUNDIAL.



3. VOCÊ CONHECE A BANDEIRA DO BRASIL? QUAIS CORES ELA POSSUI? ESCREVA E PINTE-A DE ACORDO COM A SUA RESPOSTA.



4. EM UM JOGO DE FUTEBOL, CADA JOGADOR TEM SUA DEVIDA POSIÇÃO. OBSERVE A IMAGEM.



A) QUEM ESTÁ OCUPANDO A POSIÇÃO 1?

B) QUEM ESTÁ OCUPANDO A POSIÇÃO 7?

C) QUANTOS JOGADORES ESTÃO NA DEFESA?

D) QUAIS OS NÚMEROS DOS ATACANTES?

E) QUANTOS JOGADORES ESTÃO EM CAMPO?





UNIDADE ESCOLAR:

PROFESSOR(A) ANO DE ESCOLARIDADE DATA

NOME:

HOJE É?

SEGUNDA TERÇA QUARTA QUINTA SEXTA

CÓDIGO BNCC

EF15LP12/EF15LP06

PRODUÇÃO DE TEXTO COLETIVO

O JOGO DA VIDA E A COPA DO MUNDO

NO FUTEBOL, OS JOGADORES RECEBEM CARTÃO AMARELO E VERMELHO QUANDO FAZEM ATITUDES ERRADAS. NA VIDA TAMBÉM PRECISAMOS APRENDER A RESPEITAR AS PESSOAS, AJUDAR OS AMIGOS E OUVIR QUEM NOS ORIENTA.


VAMOS CONVERSAR:

QUAIS ATITUDES SÃO BOAS?

QUAIS ATITUDES MERECEM CARTÃO AMARELO?

QUAIS ATITUDES MERECEM CARTÃO VERMELHO?

QUEM NOS AJUDA A VENCER O JOGO DA VIDA?



PRODUÇÃO DE TEXTO

ESCREVA UM PEQUENO TEXTO CONTANDO:

UMA ATITUDE BOA QUE AJUDA NO JOGO DA VIDA.

UMA ATITUDE RUIM QUE MERECE CARTÃO VERMELHO.

QUEM ENSINA VOCÊ A FAZER O BEM.

COMECE ASSIM: NO JOGO DA VIDA EU PRECISO SER...

BANCO DE PALAVRAS: AMIZADE – RESPEITO – AJUDA – PROFESSORA – FAMÍLIA – EDUCAÇÃO – CARINHO – UNIÃO – FUTEBOL – COPA
