



PREFEITURA MUNICIPAL  
**BOM JESUS**  
DO ITABAPOANA



SECRETARIA  
MUNICIPAL DE  
**EDUCAÇÃO**

# *Atividades Orientadoras*



**4º ANO**  
*Ensino Fundamental 1*



UNIDADE ESCOLAR:

PROFESSOR(A)  ANO DE ESCOLARIDADE  DATA

NOME:

HOJE É?

SEGUNDA  TERÇA  QUARTA  QUINTA  SEXTA

CÓDIGO BNCC

## LÍNGUA PORTUGUESA

1- Leia o texto.

### O Meio Ambiente é Nossa Casa

O meio ambiente é tudo o que existe ao nosso redor: as árvores, os rios, os animais, o solo, o ar e até as pessoas. Ele é muito importante para a vida no planeta, pois nos fornece água, alimento e ar puro para respirar.

Cada pessoa pode ajudar a cuidar do meio ambiente com pequenas atitudes no dia a dia. Jogar o lixo no lugar certo, economizar água, evitar desperdício de energia e cuidar das plantas são exemplos de ações que fazem a diferença.

As árvores ajudam a deixar o ar mais limpo e servem de casa para muitos animais. Os rios e mares precisam estar limpos para que os peixes e outros seres vivos possam sobreviver. Quando poluímos a natureza, todos sofrem as consequências.

Por isso, devemos respeitar e proteger a natureza. Cuidar do meio ambiente é cuidar da nossa própria vida e garantir um futuro melhor para as próximas gerações.

Comemoramos o Dia do Meio Ambiente no Dia 5 de junho.



a) O que é o meio ambiente?

---

---

2- Complete a frase.

O meio ambiente nos fornece \_\_\_\_\_, alimento e ar puro para respirar.

3- Marque com um X as atitudes que ajudam a cuidar do meio ambiente:

- ( ) Jogar lixo no chão.
- ( ) Economizar água.
- ( ) Cuidar das plantas.
- ( ) Desperdiçar energia.
- ( ) Jogar o lixo no lugar certo.



4- De acordo com o texto, por que as árvores são importantes?

---

---

5- Coloque V para verdadeiro ou F para falso.

- ( ) Os rios e mares precisam estar limpos.
- ( ) Nossa casa é também o meio ambiente.
- ( ) O meio ambiente não é importante para a vida.
- ( ) O Planeta Terra é a nossa casa.
- ( ) Pequenas atitudes podem ajudar a natureza.
- ( ) O Planeta Terra é só dos adultos.
- ( ) Poluir a natureza não causa problemas.
- ( ) Tudo ao nosso redor tem que ser cuidado.

6- Circule no texto três elementos da natureza citados pelo autor.

7- Escreva um pequeno texto dizendo como você pode ajudar a cuidar do meio ambiente. Não se esqueça do título.

---

---

---

---

---

---

---

---

---

---

8- O que se comemora na primeira semana do mês de junho:

- a) Dia da Árvore.
- b) Dia da Água.
- c) Dia Mundial do Meio Ambiente.
- d) Dia da Terra.





UNIDADE ESCOLAR:

PROFESSOR(A)  ANO DE ESCOLARIDADE  DATA

NOME:

HOJE É?

CÓDIGO BNCC

SEGUNDA

TERÇA

QUARTA

QUINTA

SEXTA

EF04MA16



## Localização e Movimento

**Localização** é o lugar onde uma pessoa, objeto ou elemento se encontra. Para descobrir a localização, usamos pontos de referência, como casas, ruas, árvores, praças e escolas. Exemplo: "A padaria fica ao lado da escola."

**Movimento** acontece quando uma pessoa, animal ou objeto muda de lugar. Exemplo: "O carro saiu da garagem e foi para a rua."

- **Localização** = onde está.
- **Movimento** = mudança de lugar.

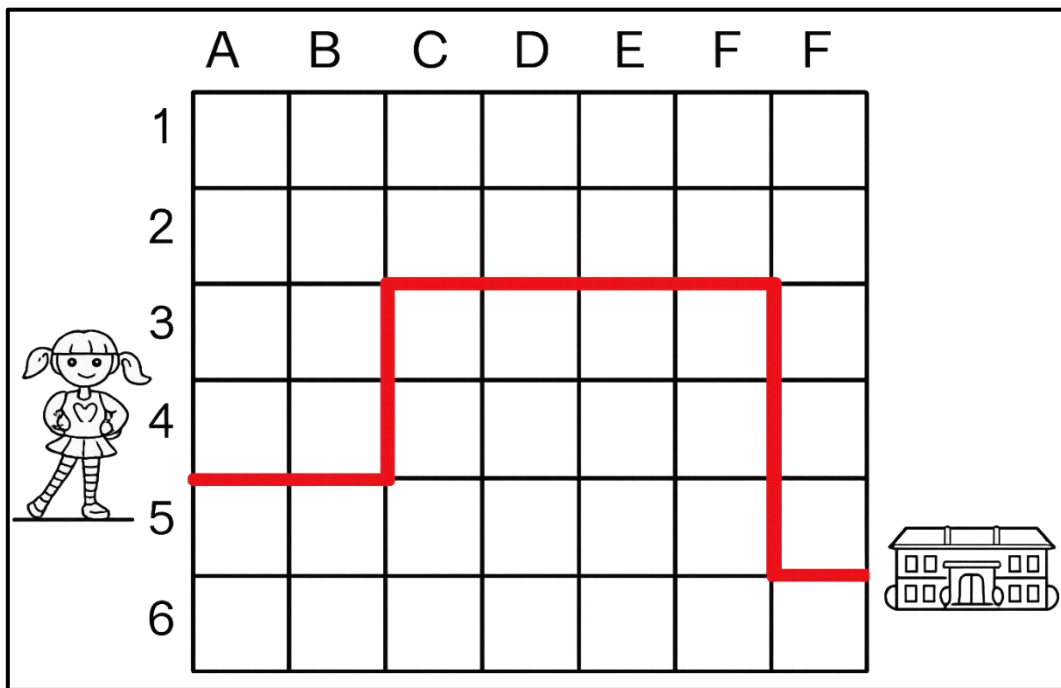
1- A professora do 4º ano está ensinando um jogo à turma. Nele é necessário ligar os números de acordo com as instruções abaixo.

1				5
				4
	2			
		3		

- Círculo, número 1: siga 4 quadradinhos para baixo e vire à direita.
- Círculo, número 2: vá três quadradinhos para cima e vire à direita.
- Círculo, número 3: suba três quadradinhos.
- Círculo, número 4: desça 3 quadradinhos e vire à esquerda.
- Círculo, número 5: vá um quadradinho para a esquerda e desça três.

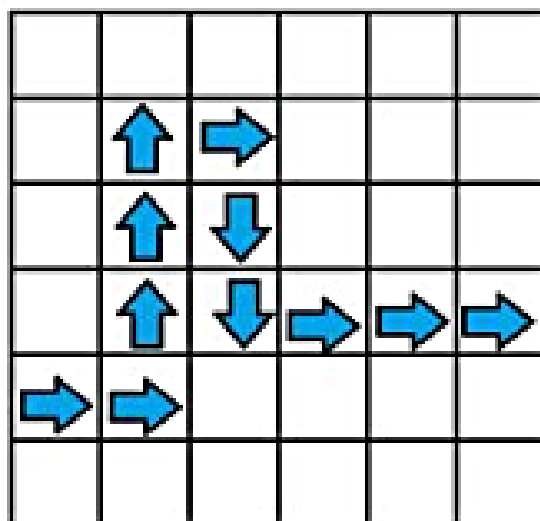
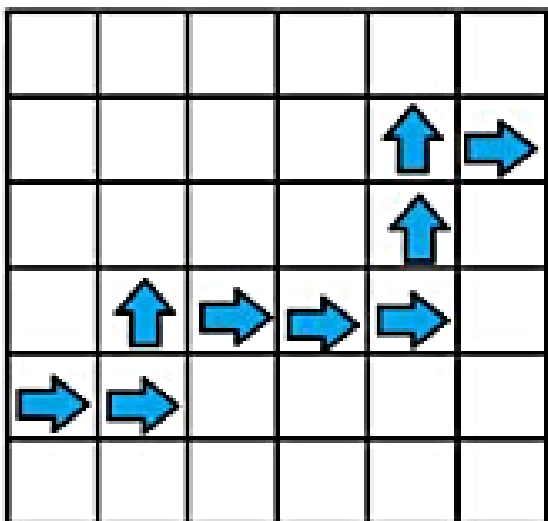

Completando todos os quadradinhos o aluno vence o jogo.

2- Veja o caminho que Aninha faz até a escola, na malha quadriculada e responda as questões a seguir.



- a) Em qual letra começa o caminho? \_\_\_\_\_
- b) Em qual número termina o caminho? \_\_\_\_\_
- c) A menina está indo para qual lugar? \_\_\_\_\_
- d) Quantos quadrinhos o caminho percorre na horizontal? \_\_\_\_\_
- e) Quantos quadrinhos o caminho percorre na vertical? \_\_\_\_\_

3- Qual dos trajetos abaixo corresponde às instruções dadas. Marque um x na malha quadriculada correta.





UNIDADE ESCOLAR:

PROFESSOR(A)  ANO DE ESCOLARIDADE  DATA

NOME:

HOJE É?

CÓDIGO BNCC

SEGUNDA

TERÇA

QUARTA

QUINTA

SEXTA

EF04LP07

## ABC LÍNGUA PORTUGUESA

### Substantivo Primitivo e Derivado

**Substantivo Primitivo** é a palavra que não se origina de outra palavra. Exemplos: pedra, flor, casa, pão...

**Substantivo Derivado** é a palavra que surge a partir de outra palavra. Exemplos: pedreira (vem de pedra), florista (vem de flor), caseiro (vem de casa), padaria (vem de pão)...

Observe o quadro abaixo com alguns exemplos.

Substantivo Primitivo	Substantivo Derivado
livro	livraria
leite	leiteiro
mar	marinheiro
sapato	sapataria

#### Outra dica importante!

- O substantivo **primitivo** é a palavra “principal”.
- O substantivo **derivado** nasce do substantivo **primitivo**.

1- Complete a tabela.

Substantivo Primitivo	Substantivo Derivado
flor	
pedra	
leite	
sapato	
livro	

2- Circule os substantivos primitivos.

- a) casa – caseiro – casinha
- b) flor – florista – floricultura
- c) pão – padaria – padeiro
- d) mar – marinheiro – maré



3- Ligue corretamente a primeira com a segunda coluna.

pedra

padaria

pão

livraria

livro

pedreira

sapato

Sapataria



4- Escreva um substantivo derivado.

a) chuva \_\_\_\_\_

f) casa \_\_\_\_\_

b) terra \_\_\_\_\_

g) leite \_\_\_\_\_

c) papel \_\_\_\_\_

h) pedra \_\_\_\_\_

d) fruta \_\_\_\_\_

i) fruta \_\_\_\_\_

e) tinta \_\_\_\_\_

j) panela \_\_\_\_\_

5- Complete as frases.

a) O homem que vende pão trabalha na \_\_\_\_\_.

b) Quem trabalha com flores é o \_\_\_\_\_.

c) O lugar onde se vende livros é a \_\_\_\_\_.

d) Quem trabalha no mar é o \_\_\_\_\_.

6- Escreva P para primitivo e D para derivado.

( ) caseiro

( ) pedreira

( ) casa

( ) pedra

( ) leiteiro

( ) sapataria

( ) leite

( ) sapato

7- Escreva o que se pede abaixo.

a) 3 substantivos primitivos. \_\_\_\_\_

b) 3 substantivos derivados. \_\_\_\_\_