



PREFEITURA MUNICIPAL  
**BOM JESUS**  
DO ITABAPOANA



SECRETARIA  
MUNICIPAL DE  
**EDUCAÇÃO**

*Atividades Orientadoras*

**1º ANO**  
*Ensino Fundamental 1*





UNIDADE ESCOLAR:

PROFESSOR(A)  ANO DE ESCOLARIDADE  DATA

NOME:

HOJE É?




CÓDIGO BNCC

EF15LP02/EF15LP18/EF01LP02/EF15LP10

## LÍNGUA PORTUGUESA

### 1. TEXTO "O GATO XADREX"

ERA UMA VEZ UM GATO XADREZ  
CAIU DA JANELA E FOI SÓ UMA VEZ.  
ERA UMA VEZ UM GATO AZUL  
LEVOU UM SUSTO E FUGIU PRO SUL.  
ERA UMA VEZ UM GATO VERMELHO  
ENTROU NO BANHEIRO E FEZ CARETA NO ESPELHO.  
ERA UMA VEZ UM GATO AMARELO  
ESQUECEU DE COMER E FICOU MEIO MAGRELO.  
ERRA UMA VEZ UM GATO VERDE  
ELE ERA PREGUIÇOSO E FOI DEITAR NA REDE.  
ERA UMA VEZ UM GATO COLORIDO  
BRINCAVA COM OS AMIGOS  
E ERA MUITO DIVERTIDO.  
ERA UMA VEZ UM GATO LARANJA  
FICOU DOENTE E SÓ QUERIA CANJA.  
ERA UMA VEZ UM GATO MARROM  
OLHOU PRA GATA E FEZ "ROM ROM".  
ERA UMA VEZ UM GATO ROSA  
COMEU UMA SARDINHA DELICIOSA.  
ERA UMA VEZ UM GATO PRETO  
ERA TEIMOSO E BRINCOU COM UM ESPETO.  
ERA UMA VEZ UM GATO BRANCO  
ERA TÃO SAPECA QUE PULOU DO BARRANCO.  
ERA UMA VEZ UM GATO XADREZ...QUER QUE EU TE CONTE OUTRA VEZ?



BIA VILELLA

2. NUMERE OS VERSOS DO POEMA. QUANTOS VERSOS ESSE POEMA TEM?

\_\_\_\_\_.

3. COMPLETE AS FRASES COM AS PALAVRAS QUE RIMAM NO POEMA:

ERA UMA VEZ EU GATO AZUL

LEVOU UM SUSTO E FUGIU PRO \_\_\_\_\_.

ERA UMA VEZ UM GATO VERMELHO

ENTROU NO BANHEIRO E FEZ CARETA NO \_\_\_\_\_.

ERA UMA VEZ UM GATO AMARELO

ESQUECEU DE COMER E FICOU MEIO \_\_\_\_\_.

ERRA UMA VEZ UM GATO VERDE

ELE ERA PREGUIÇOSO E FOI DEITAR NA \_\_\_\_\_.

4. CRIE UMA RIMA PARA O GATO ABAIXO.

ERA UMA VEZ UM GATO CURIOSO

CAIU DO TELHADO E FICOU \_\_\_\_\_

ERA UMA VEZ UM GATO LILÁS

QUE GOSTAVA DE COMER EM \_\_\_\_\_.

5. PINTE A QUANTIDADE DE CÍRCULOS QUE INDICA QUANTAS PALAVRAS HÁ NAS FRASES.

ERA UMA VEZ, UM GATO AMARELO



ERA TÃO SAPECA QUE PULOU O BARRANCO



ENTROU NO BANHEIRO E FEZ CARETA NO ESPELHO





UNIDADE ESCOLAR:

PROFESSOR(A)

ANO DE ESCOLARIDADE

DATA

NOME:

HOJE É?

SEGUNDA

TERÇA

QUARTA

QUINTA

SEXTA

CÓDIGO BNCC

EF01MA01/EF01MA02/EF01MA03

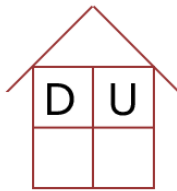
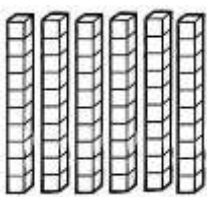
# MATEMÁTICA

6 DEZENAS = 60 UNIDADES

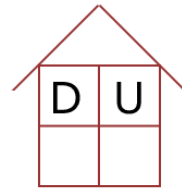
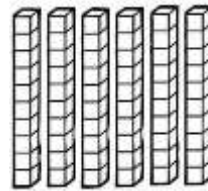
60



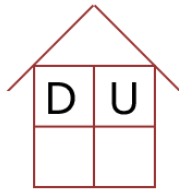
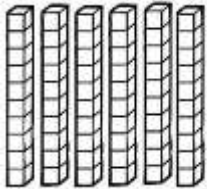
**SESSENTA**



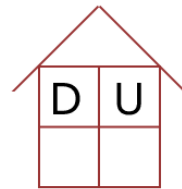
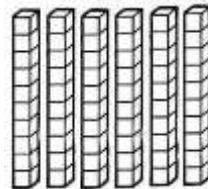
\_\_\_\_\_




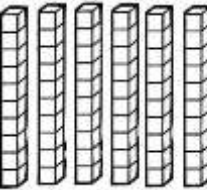
\_\_\_\_\_




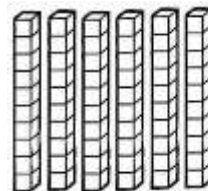
\_\_\_\_\_



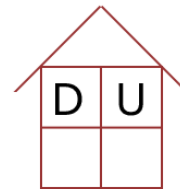
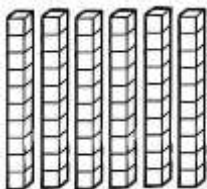
\_\_\_\_\_



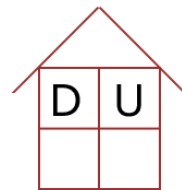
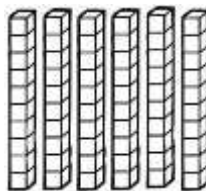
\_\_\_\_\_



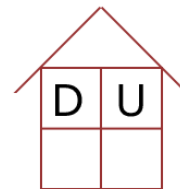
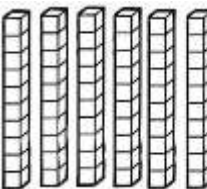
\_\_\_\_\_




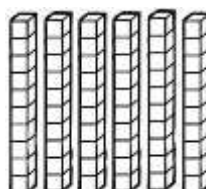
\_\_\_\_\_



\_\_\_\_\_



\_\_\_\_\_



\_\_\_\_\_

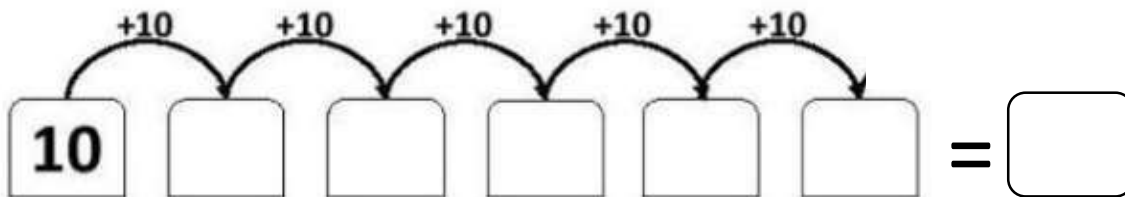
2. COMPLETE COM ANTECESSOR E SUCESSOR.

ANTES		DEPOIS	ANTES		DEPOIS
<input type="text"/>	60	<input type="text"/>	<input type="text"/>	69	<input type="text"/>
<input type="text"/>	63	<input type="text"/>	<input type="text"/>	67	<input type="text"/>
<input type="text"/>	66	<input type="text"/>	<input type="text"/>	62	<input type="text"/>

3. ESCREVA OS NÚMEROS POR EXTENSO.

- 60. \_\_\_\_\_
- 61. \_\_\_\_\_
- 62. \_\_\_\_\_
- 63. \_\_\_\_\_
- 64. \_\_\_\_\_
- 65. \_\_\_\_\_
- 66. \_\_\_\_\_
- 67. \_\_\_\_\_
- 68. \_\_\_\_\_
- 69. \_\_\_\_\_

4. COMPLETE A SEQUÊNCIA NUMÉRICA E REGISTRE O RESULTADO.



5. COMPLETE COM O FATOR AUSENTE NO CÁLCULO.

$$20 + \underline{\hspace{2cm}} = 60$$

$$30 + \underline{\hspace{2cm}} = 60$$

$$50 + \underline{\hspace{2cm}} = 60$$

$$20 + 20 + \underline{\hspace{2cm}} = 60$$



UNIDADE ESCOLAR:

PROFESSOR(A)  ANO DE ESCOLARIDADE  DATA

NOME:

HOJE É?

SEGUNDA  TERÇA  QUARTA  QUINTA  SEXTA

CÓDIGO BNCC

EF15LP02/EF15LP18/EF01LP02/EF15LP10

## LÍNGUA PORTUGUESA

1. VAMOS CANTAR ESTA CANTIGA DE VINÍCIUS DE MORAES.

### A CASA

ERA UMA CASA  
MUITO ENGRAÇADA  
NÃO TINHA TETO  
NÃO TINHA NADA

NINGUÉM PODIA  
ENTRAR NELA NÃO  
PORQUE NA CASA  
NÃO TINHA CHÃO

NINGUÉM PODIA  
DORMIR NA REDE  
PORQUE NA CASA  
NÃO TINHA PAREDE

NINGUÉM PODIA  
FAZER PIPI  
PORQUE PENICO  
NÃO TINHA ALI

MAS ERA FEITA  
COM MUITO ESMERO  
NA RUA DOS BOBOS  
NÚMERO ZERO



CASA

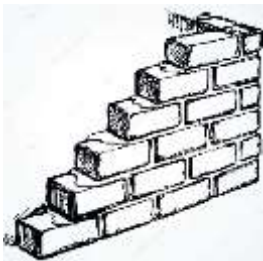
2. NUMERE AS LINHAS DA CANTIGA E CIRCULE EM CADA VERSO, AS PALAVRAS QUE A PROFESSORA INDICAR.

3. COMPLETE A FRASE ABAIXO DE ACORDO COM O TEXTO:

A CASA NÃO TINHA

\_\_\_\_\_ , \_\_\_\_\_  
\_\_\_\_\_  
\_\_\_\_\_.


4. SEPARE AS SÍLABAS DAS PALAVRAS ABAIXO.



□ □ □



□ □



□ □



□ □ □



□ □

5. REESCREVA AS FRASES RESPEITANDO OS ESPAÇOS ENTRE AS PALAVRAS.

MASERAFEITA

\_\_\_\_\_.

COMMUITOESMERO


\_\_\_\_\_.

NARUADOSBOBOS

\_\_\_\_\_.

NÚMEROZERO.

\_\_\_\_\_.





UNIDADE ESCOLAR:

PROFESSOR(A)  ANO DE ESCOLARIDADE  DATA

NOME:

HOJE É?


SEGUNDA  TERÇA  QUARTA  QUINTA  SEXTA

CÓDIGO BNCC

EF01MA09/EF01MA08

## MATEMÁTICA

1. VEJA A PLANTA QUE FOI DESENHADA A PARTIR DO DESENHO DE UM QUARTO.



ELEMENTOS QUE FORAM REPRESENTADOS NA PLANTA	FORMA GEOMÉTRICA UTILIZADA PARA REPRESENTAÇÃO
QUARTO	
CAMA	
MESA	
CADEIRA	
GUARDA-ROUPA	

2. QUAL A POSIÇÃO DA CAMA EM RELAÇÃO À JANELA?

\_\_\_\_\_.

3. QUAL A POSIÇÃO DO GUARDA-ROUPA EM RELAÇÃO À PORTA?

\_\_\_\_\_.

4. QUAL A POSIÇÃO DA MESA EM RELAÇÃO À PORTA?

\_\_\_\_\_.

5. QUAL A POSIÇÃO DA CADEIRA EM RELAÇÃO À MESA?

\_\_\_\_\_.

6.RESOLVA AS SUBTRAÇÕES.

$$\begin{array}{r} 38 \\ - 15 \\ \hline \end{array}$$

NÃO FIQUE TRISTE SE VOCÊ  
ERRAR ALGUMA CONTINHA!

$$\begin{array}{r} 95 \\ - 24 \\ \hline \end{array}$$

$$\begin{array}{r} 57 \\ - 42 \\ \hline \end{array}$$

$$\begin{array}{r} 64 \\ - 43 \\ \hline \end{array}$$

$$\begin{array}{r} 69 \\ - 52 \\ \hline \end{array}$$

$$\begin{array}{r} 86 \\ - 24 \\ \hline \end{array}$$



$$\begin{array}{r} 76 \\ - 34 \\ \hline \end{array}$$

$$\begin{array}{r} 98 \\ - 56 \\ \hline \end{array}$$

$$\begin{array}{r} 87 \\ - 65 \\ \hline \end{array}$$

$$\begin{array}{r} 76 \\ - 32 \\ \hline \end{array}$$

$$\begin{array}{r} 79 \\ - 53 \\ \hline \end{array}$$

$$\begin{array}{r} 89 \\ - 67 \\ \hline \end{array}$$

$$\begin{array}{r} 98 \\ - 46 \\ \hline \end{array}$$

$$\begin{array}{r} 59 \\ - 27 \\ \hline \end{array}$$



UNIDADE ESCOLAR:

PROFESSOR(A)  ANO DE ESCOLARIDADE  DATA

NOME:

HOJE É?



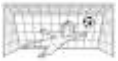







SEGUNDA  TERÇA  QUARTA  QUINTA  SEXTA

CÓDIGO BNCC

EF01LP02/EF01LP05/EF01LP09/EF01LP07/EF15LP10

## LÍNGUA PORTUGUESA

1. PINTE O CÍRCULO QUE INDICA A POSIÇÃO DA SÍLABA NA PALAVRA.

GA		<input type="radio"/>	<input type="radio"/>	<input type="radio"/>	<input type="radio"/>	GÃO		<input type="radio"/>	<input type="radio"/>	<input type="radio"/>	<input type="radio"/>
GO		<input type="radio"/>	<input type="radio"/>	<input type="radio"/>		GO		<input type="radio"/>	<input type="radio"/>	<input type="radio"/>	
GA		<input type="radio"/>	<input type="radio"/>	<input type="radio"/>	<input type="radio"/>	GAR		<input type="radio"/>	<input type="radio"/>	<input type="radio"/>	<input type="radio"/>
GAR		<input type="radio"/>	<input type="radio"/>	<input type="radio"/>		GO		<input type="radio"/>	<input type="radio"/>	<input type="radio"/>	
GO		<input type="radio"/>	<input type="radio"/>	<input type="radio"/>	<input type="radio"/>	GO		<input type="radio"/>	<input type="radio"/>	<input type="radio"/>	<input type="radio"/>

2. TROQUE AS LETRAS INICIAIS PELO G.

CORDA \_\_\_\_\_

CATO \_\_\_\_\_

COLA \_\_\_\_\_

COLEIRO \_\_\_\_\_

CALO \_\_\_\_\_

CAMELA \_\_\_\_\_

COMA \_\_\_\_\_

COSTA \_\_\_\_\_

CAMA \_\_\_\_\_

COTA \_\_\_\_\_

