



PREFEITURA MUNICIPAL  
**BOM JESUS**  
DO ITABAPOANA



SECRETARIA  
MUNICIPAL DE  
**EDUCAÇÃO**

*Atividades Orientadoras*

**1º ANO**  
*Ensino Fundamental 1*





UNIDADE ESCOLAR:

PROFESSOR(A)  ANO DE ESCOLARIDADE  DATA

NOME:

HOJE É?

SEGUNDA  TERÇA  QUARTA  QUINTA  SEXTA

CÓDIGO BNCC

EF01LP07/EF01LP09/EF01LP02/EF15LP10

**LÍNGUA PORTUGUESA**  
LINGUAGEM ORAL, LEITURA E ESCRITA

# T ou D?



\_\_\_ A \_\_\_ O

T  D



\_\_\_ E \_\_\_ O

T  D



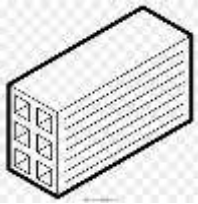
\_\_\_ OMADA

T  D



\_\_\_ ENTE

T  D



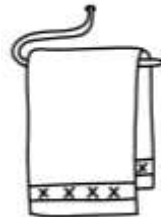
\_\_\_ IJOLO

T  D



\_\_\_ INHEIRO

T  D



\_\_\_ OALHA

T  D



\_\_\_ INOSSAURO

T  D



\_\_\_ OMA \_\_\_ E

T  D



\_\_\_ OCE

T  D



\_\_\_ ELEFONE

T  D



CANE \_\_\_ A

T  D

2.COMPARTILHE COM A PROFESSORA A LEITURA DO TRAVA-LÍNGUA.



- ALÔ, O TATU TAÍ?  
- NÃO, O TATU NÃO TÁ.  
MAS A MULHER DO TATU  
TANDO  
É O MESMO QUE O TATU TÁ!

3.PINTE OS ESPAÇOS ENTRE AS PALAVRAS.

4.QUANTAS PALAVRAS TEM ESSE TRAVA-LÍNGUA?

5.REESCREVA CORRETAMENTE AS FRASES ABAIXO, DANDO ESPAÇO ENTRE AS PALAVRAS.

ALÔOTATUTAAÍ?

NÃOOTATUNÃOOTÁ.

6.COMPLETE A FICHA DE LEITURA:

- O
- O TATU
- O TATU CAIU



---

---

---

---



UNIDADE ESCOLAR:

PROFESSOR(A)  ANO DE ESCOLARIDADE  DATA

NOME:

HOJE É?

SEGUNDA  TERÇA  QUARTA  QUINTA  SEXTA

CÓDIGO BNCC

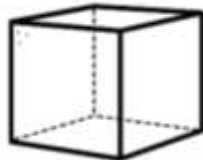
EF01MA13

## MATEMÁTICA

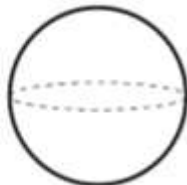
### SÓLIDOS GEOMÉTRICOS



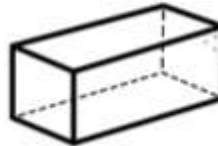
CILINDRO



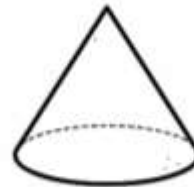
CUBO



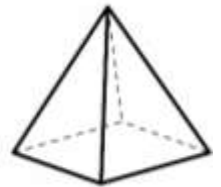
ESFERA



PARALELEPÍPEDO




CONE



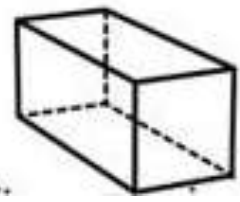
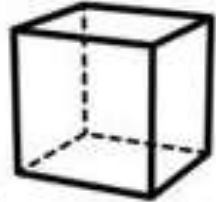
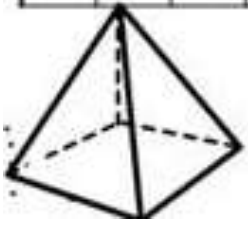
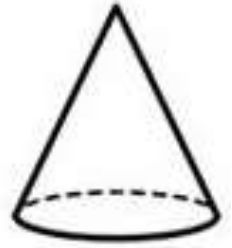
PIRÂMIDE

1. DIGA COM QUAL SÓLIDO GEOMÉTRICO AS FIGURAS ABAIXO SE PARECEM.



2. ENCONTRE E PINTE O NOME DOS SÓLIDOS GEOMÉTRICOS NO CAÇA-PALAVRAS.

C	N	D	A	B	J	O	P	Y	Z	C	O	N	E	Y
Í	A	Q	U	A	E	S	F	E	R	A	O	J	E	Z
P	A	R	A	L	E	L	E	P	Í	P	E	D	O	V
C	R	E	T	C	I	L	I	N	D	R	O	K	Q	A
U	W	A	U	I	G	U	Q	U	E	R	T	A	J	B
L	S	V	L	O	P	I	R	Â	M	I	D	E	P	M
O	V	N	A	I	G	H	R	S	D	A	S	G	E	U
V	R	E	T	C	U	B	O	F	O	R	H	Y	I	O



3. PREENCHA A CRUZADINHA COM OS NOMES QUE VOCÊ ENCONTROU NO CAÇA-PALAVRAS.

1

2

1

4

5

3

2

6

4

3



UNIDADE ESCOLAR:

PROFESSOR(A)  ANO DE ESCOLARIDADE  DATA

NOME:

HOJE É?

SEGUNDA  TERÇA  QUARTA  QUINTA  SEXTA

CÓDIGO BNCC


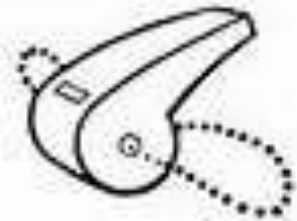
EF01LP07/EF01LP09/EF01LP02/EF15LP10

**LÍNGUA PORTUGUESA**  
LINGUAGEM ORAL, LEITURA E ESCRITA

1. COMPLETE AS PALAVRAS COM T OU D.

DEN__E 	CAN__AR 	__AMBOR 	GRAVA__A 
TAPE__E 	TOMA__A 	__ESOURA 	__ELEVISÃO 
__ELHADO 	PEN__E 	GRAVE__O 	GRAVA__OR 
ALMOFA__A 	CAPACE__E 	__ELEFONE 	PON__E 
DE__O 	PAN__A 	PLANE__A 	CANE__A 

2. PINTE SOMENTE OS DESENHOS QUE TENHAM A LETRA T, DEPOIS ESCREVA O NOME ABAIXO.



---

---

---

---

---

---

---

---

---

---

---

---

---

---

---

---



UNIDADE ESCOLAR:

PROFESSOR(A)  ANO DE ESCOLARIDADE  DATA

NOME:

HOJE É?

CÓDIGO BNCC

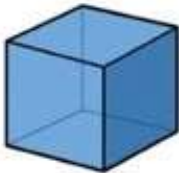



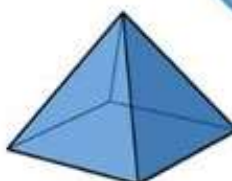

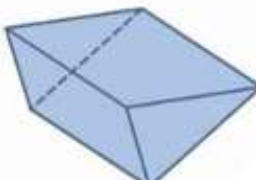
SEGUNDA  TERÇA  QUARTA  QUINTA  SEXTA

EF01MA13

## MATEMÁTICA

1. OBSERVE OS SÓLIDOS GEOMÉTRICOS E ESCREVA O NOME.

CUBO    PARALELEPÍPEDO    CILINDRO    CONE    ESFERA    PIRÂMIDE

2. PINTE O NOME DA FORMA GEOMÉTRICA QUE OS OBJETOS MAIS SE PARECEM.

	CONE		CILINDRO		ESFERA
	CUBO		ESFERA		CILINDRO
	ESFERA		CONE		CONE
	CILINDRO		CUBO		CONE
	ESFERA		CONE		CUBO
	CUBO		ESFERA		CILINDRO

3. PINTE AS FORMAS DE ACORDO COM A LEGENDA:



CONE



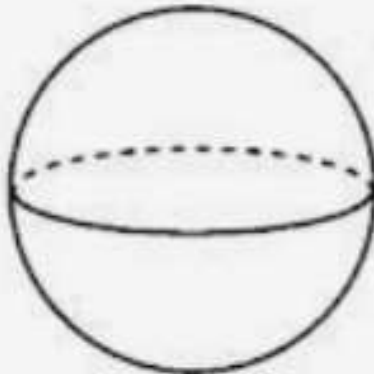
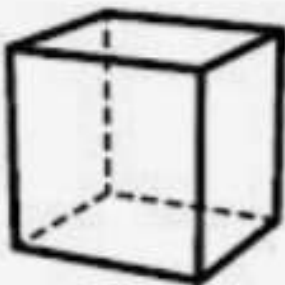
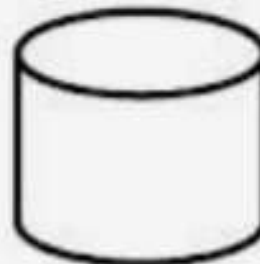
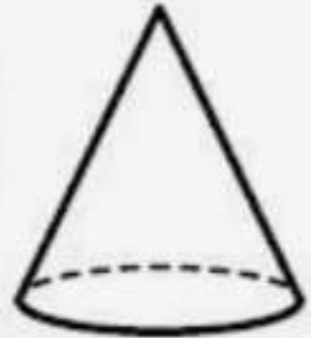

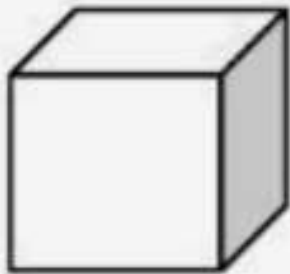
ESFERA



CUBO



CILINDRO





UNIDADE ESCOLAR:

PROFESSOR(A)  ANO DE ESCOLARIDADE  DATA

NOME:

HOJE É?

SEGUNDA  TERÇA  QUARTA  QUINTA  SEXTA

CÓDIGO BNCC

EF01LP02/EF15LP10/EF15LP05

**LÍNGUA PORTUGUESA**  
LINGUAGEM ORAL, LEITURA E ESCRITA

MAMÃE É LUZ DO MEU CAMINHO,  
CUIDA DE MIM COM CARINHO.  
COM UM ABRAÇO APERTADO,  
MEU CORAÇÃO FICA ALEGRAO.

AGORA É A SUA VEZ! REESCREVA A QUADRINHA NO QUADRO ABAIXO