



PREFEITURA MUNICIPAL
BOM JESUS
DO ITABAPOANA



SECRETARIA
MUNICIPAL DE
EDUCAÇÃO

Atividades Orientadoras



4º ANO
Ensino Fundamental 1



UNIDADE ESCOLAR:

PROFESSOR(A) ANO DE ESCOLARIDADE DATA
4º ANO

NOME:

HOJE É?

SEGUNDA TERÇA QUARTA QUINTA SEXTA

CÓDIGO BNCC

EF15LP01

LÍNGUA PORTUGUESA

1- Leia o texto.

A Semana Santa

A **Semana Santa** é um período muito importante para os cristãos. Ela acontece na semana que antecede a Páscoa e lembra os últimos acontecimentos da vida de Jesus Cristo.

A Semana Santa começa no **Domingo de Ramos**, que recorda o dia em que Jesus entrou na cidade de Jerusalém e foi recebido pelo povo com ramos nas mãos.

Durante essa semana, muitas pessoas participam de missas, celebrações e momentos de oração. É um tempo de reflexão sobre o amor, o perdão e a solidariedade.

Na **Sexta-feira Santa**, os cristãos lembram o dia em que Jesus morreu na cruz. Nesse dia, muitas pessoas fazem orações e demonstram respeito e silêncio.

A Semana Santa termina com o **Domingo de Páscoa**, que celebra a ressurreição de Jesus Cristo. Esse momento representa alegria, esperança e renovação da vida.



a) O que a Semana Santa lembra?

b) Em que dia começa a Semana Santa? _____

c) O que aconteceu no Domingo de Ramos?

d) O que os cristãos lembram na Sexta-feira Santa?

e) Como termina a Semana Santa?

2- Marque a alternativa correta.

A Semana Santa é um tempo de:

- () brincadeiras
- () reflexão e oração
- () festas barulhentas
- () férias



3- Escreva **V** para verdadeiro e **F** para falso.

- () A Páscoa é uma data comemorada pelos cristãos.
- () O coelho da Páscoa simboliza vida e renovação.
- () A Páscoa não tem nenhum significado religioso.
- () Muitas famílias não se reúnem para celebrar a Páscoa.

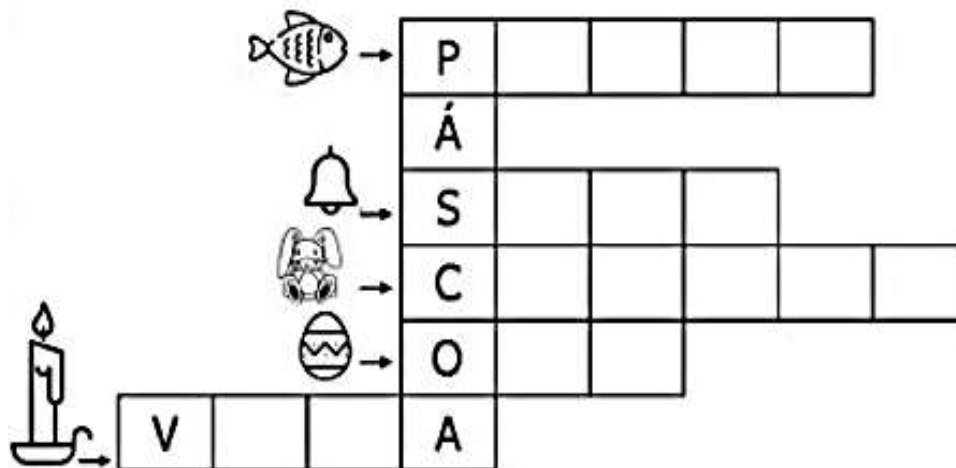


4- Complete as frases com as palavras abaixo.

Jesus Cristo – chocolate – coelho – amor – ovos

- a) Na Páscoa comemoramos a ressurreição de _____.
- b) Muitas pessoas trocam _____ de Páscoa.
- c) O _____ da Páscoa simboliza vida nova.
- d) Os ovos de Páscoa podem ser feitos de _____.
- e) A Páscoa também representa _____ e esperança.

5- Complete a cruzadinha com os símbolos da Páscoa.





UNIDADE ESCOLAR:

PROFESSOR(A) ANO DE ESCOLARIDADE DATA

NOME:

HOJE É?

CÓDIGO BNCC

SEGUNDA

TERÇA

QUARTA

QUINTA

SEXTA

EF04MA14/EF04MA15

123 MATEMÁTICA 123

Propriedades da igualdade e noção de equivalência

As propriedades da igualdade são regras da matemática que mostram como podemos manipular uma igualdade sem mudar seu valor. Elas são muito usadas na resolução de equações.

Por exemplo: Um número é sempre igual a ele mesmo.

$$55 = 50 + 5$$

Equivalência significa que duas expressões diferentes têm o mesmo valor. Mesmo sendo escritas de formas diferentes, o resultado é igual.

Exemplos:

$$14 + 4 = 18$$

$$16 + 2 = 18$$

Então podemos dizer:

$$14 + 4 = 16 + 2$$



1- Resolva os termos, e faça com que as igualdades se tornem verdadeira.

a) $18 + 23 = \bigcirc$

$23 + \bigcirc = \bigcirc$

d) $80 + 12 = \bigcirc$ $12 + \bigcirc =$

b) $56 + 19 = \bigcirc$

$9 + \bigcirc = \bigcirc$













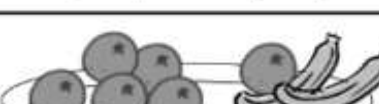


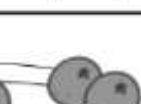
e) $92 + 24 = \bigcirc$ $24 \bigcirc =$

c) $112 + 68 = \bigcirc$

$68 + \bigcirc = \bigcirc$

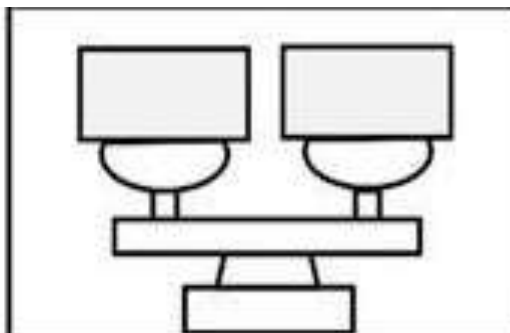
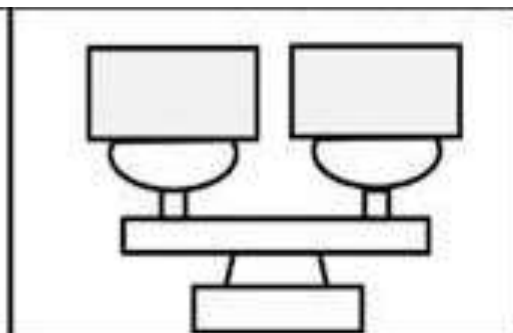
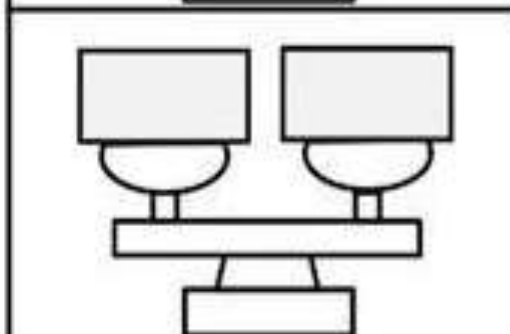
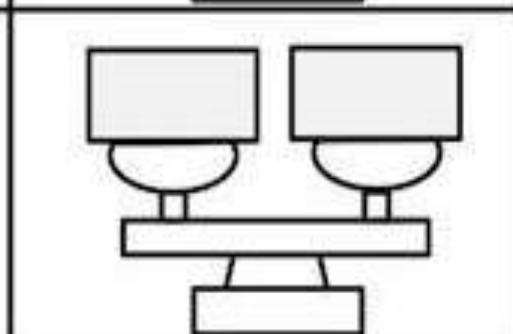
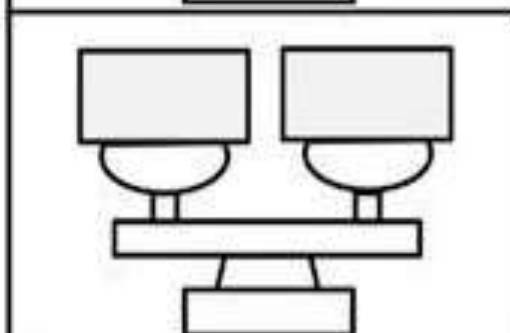
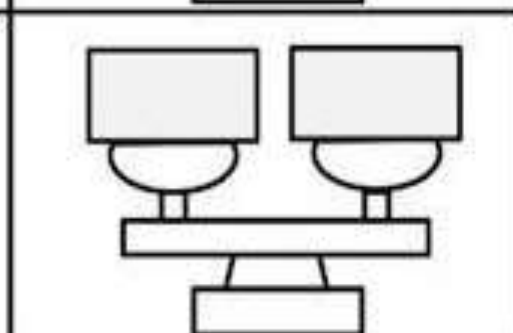
f) $55 + 14 = \bigcirc$ $14 \bigcirc =$

2- Coloque os números de acordo com as quantidades de frutas. Observe o exemplo.

		=				
<input type="text" value="3"/>	+	<input type="text" value="4"/>		<input type="text" value="2"/>	+	<input type="text" value="5"/>
						
<input type="text"/>	+	<input type="text"/>	<input type="text"/>	+	<input type="text"/>	
						
<input type="text"/>	+	<input type="text"/>	<input type="text"/>	+	<input type="text"/>	
						
<input type="text"/>	+	<input type="text"/>	<input type="text"/>	+	<input type="text"/>	



3- Desenhe bolinhas na balança para que ela fique equilibrada, os resultados das operações devem ser iguais.



UNIDADE ESCOLAR:

PROFESSOR(A) ANO DE ESCOLARIDADE DATA

NOME:

HOJE É?

SEGUNDA

TERÇA

QUARTA

QUINTA

SEXTA

CÓDIGO BNCC

EF15LP02/EF35LP03

LÍNGUA PORTUGUESA

1- Leia o texto abaixo

A Páscoa

A Páscoa é uma data muito especial comemorada em vários países do mundo. Para os cristãos, ela representa a **ressurreição de Jesus Cristo**, um momento de renovação, esperança e amor.

Nessa época, muitas famílias se reúnem para celebrar juntas. Algumas pessoas vão à igreja para agradecer e refletir sobre o significado da data.

Um dos símbolos mais conhecidos da Páscoa é o **coelho**, que representa a vida e a renovação. Os **ovos de Páscoa**, muitas vezes feitos de chocolate, simbolizam o nascimento de uma nova vida.

As crianças costumam gostar muito dessa comemoração. Em alguns lugares, acontece a **caça aos ovos**, uma brincadeira em que os ovos são escondidos e as crianças precisam encontrá-los.

Mais do que ganhar chocolates, a Páscoa é um momento de **compartilhar, amar e estar junto das pessoas que gostamos**.



a) O que a Páscoa representa para os cristãos?

b) O que as famílias costumam fazer nessa data?

c) Qual animal é um símbolo da Páscoa? _____

d) O que os ovos de Páscoa simbolizam?

e) Qual brincadeira algumas crianças fazem na Páscoa?

2- Marque as alternativas corretas.

a) A Páscoa é um momento de:

- () tristeza () briga
() renovação e esperança () solidão

b) Quantos parágrafos tem o texto:

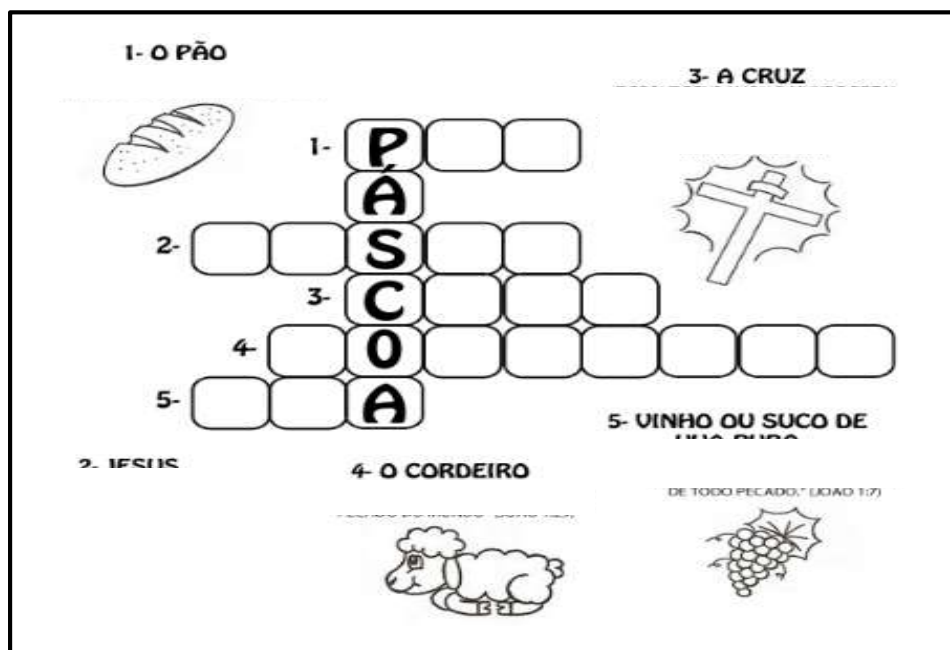
- () Dois () Três
() Quatro () Cinco

c) A Páscoa é um momento de:

- () Compartilhar. () Estar junto das pessoas que não gostamos.
() Amar e perdoar. () É um dia de briga e confusão.



3- Complete a cruzadinha com os símbolos da Páscoa.



4- Como você gostaria que fosse a sua Páscoa?
