



PREFEITURA MUNICIPAL
BOM JESUS
DO ITABAPOANA



SECRETARIA
MUNICIPAL DE
EDUCAÇÃO

Atividades Orientadoras



5º ANO
Ensino Fundamental 1



UNIDADE ESCOLAR:

PROFESSOR(A)

ANO DE ESCOLARIDADE

5º ANO

DATA

NOME:

HOJE É?

SEGUNDA

TERÇA

QUARTA

QUINTA

SEXTA

CÓDIGO BNCC

EF15LP01 EF15LP05 EF35LP05

ABC LÍNGUA PORTUGUESA

GÊNERO TEXTUAL: DIÁRIO

CARACTERÍSTICAS

- Gênero textual pessoal e íntimo;
- É escrito, geralmente, para si mesmo.
- Não há preocupação com regras gramaticais ou estilo formal.



DIÁRIO

O **Diário** é um gênero textual em que uma pessoa registra suas experiências, pensamentos e sentimentos do dia a dia. É como um caderno pessoal em que podemos expressar nossas emoções, reflexões e acontecimentos importantes que vivemos ao longo do tempo. No diário, escrevemos de forma livre e espontânea, sem nos preocupar com regras gramaticais ou estilo formal. É um espaço onde podemos ser nós mesmos e registrar momentos significativos da nossa vida, permitindo-nos refletir sobre eles e guardar memórias para o futuro.

PASSOS PARA ESCREVER UM DIÁRIO

1. Encontrar um momento e um lugar tranquilo para escrever, onde se sinta confortável e seguro para expressar seus pensamentos e sentimentos.
2. Definir um objetivo para o diário, como registrar experiências, desabafar emoções ou refletir sobre a vida.
3. Escrever de forma livre, sem se preocupar com regras de estrutura ou gramática.
4. Escrever regularmente, de preferência todos os dias ou com uma frequência que se sinta confortável.

ESTRUTURA DO DIÁRIO

Apesar de não se prender a regras gramaticais, o diário possui uma estrutura:

- **Vocativo:** Geralmente é iniciado com “Meu querido diário”, uma vez que não é escrito para uma pessoa específica.
- **Data:** A data é parte essencial de um diário.
- **Desenvolvimento:** É a parte na qual as informações serão detalhadamente registradas.
- **Assinatura:** Para finalizar, há a presença da assinatura, que serve para evidenciar o (a) autor (a) do texto.



Exemplo de uma página de diário:

“Domingo, 14 de junho de 1942

Vou começar a partir do momento em que ganhei você, quando o vi na mesa, no meio dos meus outros presentes de aniversário. (Eu estava junto quando você foi comprado, e com isso eu não contava.)

Na sexta-feira, 12 de junho, acordei às seis horas, o que não é de espantar; afinal, era meu aniversário. Mas não me deixam levantar a essa hora; por isso, tive de controlar minha curiosidade até quinze para as sete. Quando não dava mais para esperar, fui até a sala de jantar, onde Moortje (a gata) me deu as boas-vindas, esfregando-se em minhas pernas.”

(O Diário de Anne Frank)

Atividades

1. O que é um diário? Escreva com suas palavras:

2. Escreva duas características do gênero textual “Diário”:

3. Qual a estrutura de um diário?

- a) () Título, personagens, conflito e desfecho.
- b) () Vocativo, data, desenvolvimento e assinatura.
- c) () Introdução, argumentos, conclusão e referências.
- d) () Manchete, data, corpo do texto e fonte.

4. Leia o texto abaixo:

24 de outubro de 2025.

Meu querido diário,

Hoje levantei cedo e fui para a escola. Tomei café na escola, brinque bastante durante o recreio e procurei fazer tudo direitinho durante as aulas.

Quando cheguei em casa, tive uma surpresa: meus avós estavam lá. Foi uma alegria misturada com tristeza porque a vovó vai ser operada amanhã. Todos estão preocupados.

Depois que meus avós foram embora, fui brincar com meu cachorro na calçada. De repente, veio um carro desgovernado com toda velocidade e subiu em cima da calçada e atingiu o Justin. O carro passou por cima do rabo do meu cachorro. O motorista do carro foi embora. Os vizinhos apareceram para ajudar. Justin estava todo encolhido e sua aparência era de dor.

Minha mãe veio socorrer. Ela fez curativo e enfaixou o rabo do Justin. Fiquei o tempo todo ao lado dele. Os animais sofrem porque não sabem falar o que estão sentindo, por isso precisam muito da nossa atenção.

O susto passou, mas o medo ainda continua forte em mim. Medo que venha outro carro sem direção. Medo de perder o Justin, enfim, sei que esse momento triste vai passar.

Vou dormir. Hoje o dia foi muito cansativo. Amanhã prometi para minha mãe levantar cedo para fazer curativo no Justin.

Boa noite!

Lucas

Agora, responda:

a) Quem escreveu o texto acima?

b) O que aconteceu depois que os avós foram embora?

c) Qual é o gênero do texto?

a) Fábula.

b) Carta.

c) Conto.

d) Diário.



d) O que Lucas sentiu depois que o susto acabou?

e) Na frase: “Fiquei o tempo todo ao lado **dele**.”, a palavra grifada se refere:

- a) ao carro desgovernado.
- b) ao vizinho.
- c) ao Justin, o cachorro.
- d) ao avô.

g) Qual **vocativo** Lucas utilizou para escrever seu diário?

- a) 24 de outubro de 2025.
- b) Meu querido diário.
- c) Boa noite.
- d) Hoje levantei cedo...



Produção de Texto: Diário



Escreva um pequeno relato em seu diário, contando como foi o seu dia anterior, o que aconteceu, conte suas alegrias e desafios. Lembre-se que o diário é o seu amigo. Fique à vontade para escrever suas experiências.

The illustration shows a spiral-bound notebook with a metal spiral on the left side. The pages are lined and completely blank, providing space for the student to write their diary entry.



UNIDADE ESCOLAR:

PROFESSOR(A) ANO DE ESCOLARIDADE DATA

NOME:

HOJE É?

SEGUNDA TERÇA QUARTA QUINTA SEXTA

CÓDIGO BNCC

123 MATEMÁTICA 123

1. Resolva os problemas abaixo:

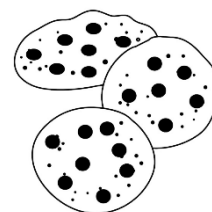
a) A padaria Princesa produz 7 fornadas de pães por dia. Sabendo que cada fornada produz 98 unidades, quantos pães são feitos em um dia?

- () 1080
- () 1000
- () 686
- () 1176



b) A doceira embalou 168 biscoitos em 4 pacotes iguais. Quantos biscoitos há em cada pacote?

- () 10
- () 42
- () 14
- () 35



d) A organização ambiental S.O.S Natureza, coletou 1500 garrafas plásticas em uma campanha de reciclagem e decidiu distribuí-las em 5 caixas de reciclagem. Quantas garrafas eles colocaram em cada caixa?

- () 300
- () 280
- () 320
- () 340




c) Clara comprou três ingressos para o circo e pagou um total de R\$ 27,00. Ela precisa cobrar o valor dos ingressos de duas amigas que irão com ela ao circo. Qual o valor que ela deve cobrar de cada uma?

- () R\$ 8,00
- () R\$ 9,00
- () R\$ 13,50
- () R\$ 18,00




d) Para comprar um modelo de TV, Ana Maria fez uma pesquisa de preço em 3 lojas de eletrodomésticos. Observe:

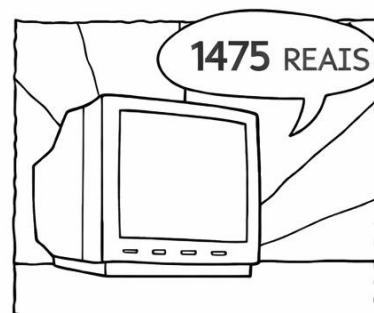
Loja A



Loja B



Loja C



Qual a diferença de preços entre a **Loja B** e a **Loja A**?

- a) 25 reais.
- b) 23 reais.
- c) 24 reais.
- d) 22 reais.

e) Numa fábrica havia 386 funcionários. Durante o ano de 2020, 15 trabalhadores se aposentaram, 4 foram demitidos e 20 pessoas foram contratadas. Marque a opção que apresenta o total de funcionários no final de 2020.

- a) $386 - 15 + 4 + 20 = 395$
- b) $386 - 15 - 4 + 20 = 387$
- c) $386 + 15 - 4 - 20 = 377$
- d) $386 - 15 - 4 - 20 = 347$

f) A turma do 5º ano participou de um passeio ao parque ecológico.

Leia as informações abaixo e responda às questões.

- ✓ A caminhada teve **2 km e 300 m** de percurso.
- ✓ Cada aluno levou uma garrafa com **1,5 L de água**.
- ✓ No lanche coletivo, foram utilizados **4 kg de frutas**.
- ✓ O passeio começou às **7h30** e terminou às **11h15**.
- ✓ A temperatura pela manhã era de **18°C** e, ao meio-dia, chegou a **26°C**.

1. Qual foi a distância total percorrida em **metros**? _____

2. Quantos **mililitros** de água cada aluno levou? _____

3. Quantos **gramas** de frutas foram utilizados no total? _____

4. Quanto tempo durou o passeio? _____

5. Quantos graus a temperatura aumentou durante a manhã? _____



UNIDADE ESCOLAR:

PROFESSOR(A)

ANO DE ESCOLARIDADE
5º ANO

DATA

NOME:

HOJE É?

SEGUNDA TERÇA QUARTA QUINTA SEXTA

CÓDIGO BNCC

EF15LP03 EF35LP12

LÍNGUA PORTUGUESA

Leia o texto abaixo e depois responda as questões:

MEU DIÁRIO

7 de julho

Meu querido diário

Pai é um negócio fogo, o meu, o do Toninho, do Mauro, do Joca, do Zé Luís e do Beto são mais ou menos. O meu deixa jogar na rua, mas nada de chegar perto da avenida. O Toninho está terminantemente proibido de ir ao bar do Seu Porfírio. O do Beto é bem bravo, só que nunca está em casa: por isso, o Beto é o maior folgado e faz o que quer. Também, quando o pai chega, mixou a brincadeira. O do Joca é que nem o meu.

O do Zé Luís deixa, mas é obrigatório voltar às seis em ponto e o do Mauro às vezes deixa tudo, outras dá bronca que Deus me livre, tudo na tal língua estrangeira que ele inventou.

Ricardo Azevedo

AZEVEDO, Ricardo. Nossa rua tem um problema. São Paulo: Paulinas, 1986.

1. Qual é o título do texto? _____
2. Quem é o autor do texto? _____
3. No texto “MEU DIÁRIO”, frases como: ‘**Pai é um negócio fogo...**’, ‘**...o Beto é o maior folgado...**’ e ‘**...mixou a brincadeira.**’ Indicam um tipo de linguagem utilizada mais por:
(A) idosos.
(B) professores.
(C) crianças.
(D) cientistas.
4. No trecho “...Também, quando o pai chega, mixou a brincadeira.”, a expressão destacada significa:
(A) começou a brincadeira.
(B) terminou a brincadeira.
(C) melhorou a brincadeira.
(D) organizou a brincadeira.

ORTOGRAFIA: R/RR

1. Complete as palavras abaixo com R ou RR:

diá_____io

fa_____ol

amo_____a

u_____ubu

ja_____a

se_____ote

co_____ida

ciga_____a

ca_____acol

fe_____o

ba_____ata

pe_____a

ba_____aca

pa_____ede

cadei_____a

ma_____eco


ca_____oça

mo_____o



2. Agora, reescreva as palavras da atividade anterior nas colunas correspondentes:

R	RR





UNIDADE ESCOLAR:

PROFESSOR(A)

ANO DE ESCOLARIDADE DATA

5º ANO

NOME:

HOJE É?

SEGUNDA

TERÇA

QUARTA

QUINTA

SEXTA

CÓDIGO BNCC

EF05MA01 EF05MA08

123 MATEMÁTICA 123

1. João Pedro foi a uma concessionária e comprou um carro novo por R\$ 48.990, à vista. Com base nesta informação responda as questões abaixo:

a) Quantas ordens possui este número? _____

b) E quantas classes? _____

c) Qual é o algarismo das unidades simples? _____

d) Qual é o algarismo das dezenas de milhar? _____

e) A que classe pertence o algarismo 8? _____

f) Decomponha o número 48.990



classe milhares			classe unidades		
C	D	U	C	D	U
	4	8	9	9	0

2. Escreva os números formados por:

a) Sete dezenas e seis unidades _____

b) Oito centenas, três dezenas e dois _____

c) Três unidades de milhar, duas centenas e seis unidades _____

d) Oito unidades de milhar, cinco centenas, três dezenas e uma unidade _____

e) Duas dezenas de milhar, cinco centenas, três dezenas e nove unidades _____

f) Uma centena de milhar, duas dezenas de milhar e sete centenas _____

3. Em qual dos números abaixo o 4 representa quatrocentos mil?

A) 52.489


B) 5.043

C) 4.896

D) 3.435.000

4. Qual é o maior número que podemos criar utilizando os algarismos 5, 8, 2, 0 e 1 sem repetir nenhum deles?

5. Pedro está colocando lajotas no piso da garagem de sua casa. A figura mostra o piso da garagem e, em tom mais escuro a área que já foi revestida.



Quantas lajotas ainda deverão ser colocadas para cobrir todo o piso da garagem?

- a) 12
- b) 13
- c) 25
- d) 34

6. Luana decompôs um número da seguinte forma: $3 \times 100 + 2 \times 10 + 6$.

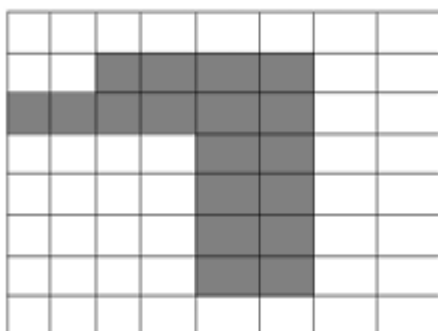
Qual é esse número?

- a) 302
- b) 326
- c) 362
- d) 623

7. Mariana comprou uma blusa por R\$ 34,25. Quais cédulas e moedas ela pode usar para pagar a blusa?

- a) 3 cédulas de 10 reais, 3 cédulas de 1 real e uma moeda de 25 centavos.
- b) 3 cédulas de 10 reais, 1 cédula de 2 reais e 5 moedas de 5 centavos.
- c) 3 cédulas de 10 reais, 2 cédulas de 2 reais e uma moeda de 25 centavos.
- d) 3 cédulas de 10 reais, 2 cédulas de 1 real e 1 moeda de 25 centavos.

8. A figura representa o percurso que Aline realizou de bicicleta em torno de uma praça que tem um piso composto por quadrados, cujos lados medem 1 metro.



Quantos metros Aline percorreu em torno da praça?

- a) 16
- b) 20
- c) 24
- d) 56

9. Marta foi ao banco e retirou 545 reais. Marque a alternativa que mostra a quantidade de notas que ela recebeu:

a) () $5 \times 100 + 40 \times 10 + 5 \times 1$

b) () $50 \times 100 + 4 \times 10 + 5 \times 1$

c) () $5 \times 100 + 4 \times 10 + 1 \times 5$

10. O resultado da equação a seguir é: $4 \times 1000 + 3 \times 10 + 5 \times 1$

a) () 4305

b) () 4350

c) () 4035

11. A decomposição correta do número **10314** é:

a) () 1 unidade de milhar, 3 centenas, 1 dezena e 4 unidades

b) () 1 dezena de milhar, 3 unidades de milhar 1 centena e 4 unidades

c) () 1 dezena de milhar, 3 centenas, 1 dezena e 4 unidades

12. O valor posicional do número 4, respectivamente, nos números 46 e 64 é:

a) () centena e unidade

b) () dezena e unidade


c) () centena e dezena

13. Quanto recebe em **um semestre** uma pessoa cujo salário mensal é de R\$ 1750,00?



Resposta: _____

14. Uma concessionária precisa transportar 246 carros num caminhão que pode levar 6 carros por vez. Quantas viagens o caminhão terá que fazer para transportar todos os carros?



Resposta: _____