



PREFEITURA MUNICIPAL
BOM JESUS
DO ITABAPOANA



SECRETARIA
MUNICIPAL DE
EDUCAÇÃO

Atividades Orientadoras

1º ANO
Ensino Fundamental 1





UNIDADE ESCOLAR:

PROFESSOR(A)

ANO DE ESCOLARIDADE DATA

1º ANO

NOME:

HOJE É?

SEGUNDA

TERÇA

QUARTA

QUINTA

SEXTA

CÓDIGO BNCC

EF15LP02/EF15LP18/EF01LP02/EF15LP09

ABC LÍNGUA PORTUGUESA

1. ACOMPANHE A LEITURA QUE A PROFESSORA VAI LER E RESPONDA JUNTO COM OS COLEGAS.

RAIANE A LETRA U DE JACARUVA

RAIANE QUERIA APRENDER A LER PARA VIAJAR NO MUNDO ENCANTADO DA LEITURA. A PROFESSORA ENSINAVA-LHE AS VOGAIS.

A – AVIÃO, ÁRVORE E AMOR

E – ESCOLA, ELEFANTE

I – IGREJA, ÍNDIO, ILHA

O – ÓCULOS, OVO E OVELHA

U – UVA, URUBU E URSO

RAIANE NÃO CONSEGUIA ASSOCIAR A VOGAL ESTUDADA COM O SEU SOM. E A PROFESSORA CANTAVA.

- A, A, A MINHA ABELHINHA

- E, E, E MINHA ESCOVINHA

- I, I, I O ÍNDIO JÁ CHEGOU

- O, O, O ÓCULOS DO VOVÔ

- U, U, U O SEU URUBU

A PROFESSORA JANE PERGUNTOU:

- RAYANE, AGORA VOCÊ APRENDEU?

RAIANE RESPONDEU:

- JÁ PROFESSORA!

A DE ABELHA

E DE ESCOLA

I DE INDIO

O DE OVO


U DE JACARUVA

- VEJA SÓ! JACARUVA TERMINA COM UVA E U É DE UVA!

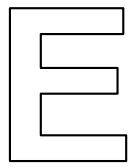
A PROFESSORA PERCEBEU QUE RAIANE HAVIA APRENDIDO. FICOU FELIZ DA VIDA!



2. PINTE AS LETRAS DE ACORDO COM A LEGENDA:



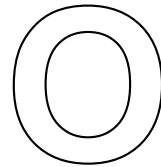
AZUL



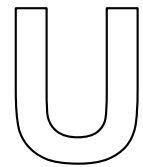
VERDE





VERMELHO



AMARELO



ROSA




3. ENCONTRE E PINTE A SEQUÊNCIA CORRETA DAS VOGAIS DE ACORDO COM A ORDEM DO ALFABETO.

U	E	A	O	I
O	A	U	I	E
A	E	I	O	U
U	I	E	A	O
I	U	O	E	A

3. FAÇA A LEITURA DAS VOGAIS DE ACORDO COM O COMANDO QUE A PROFESSORA DISSER E COPIE ABAIXO.

LEITURA DIVERTIDA

	A	B	C	D	E	F
1	OI	EI	AI	UI	AO	EU
2	AU	OU	IA	EIA	UAI	IOIO
3	AI	UI	EU	OI	AU	EI
4	OU	IA	EIA	UAU	AO	UAI
5	OI	AU	EI	AI	UI	EU
6	IA	OU	UAU	EIA	UAI	AO

_____	_____
_____	_____
_____	_____
_____	_____
_____	_____





UNIDADE ESCOLAR:

PROFESSOR(A)

ANO DE ESCOLARIDADE

1º ANO

DATA

NOME:

HOJE É?

SEGUNDA

TERÇA

QUARTA

QUINTA

SEXTA

CÓDIGO BNCC





EF01MA01/EF01MA09/EF01MA10

123 MATEMÁTICA 123

LOCALIZAÇÃO

LOCALIZAÇÃO SIGNIFICA SABER DIZER ONDE UMA PESSOA OU UM OBJETO ESTÁ, USANDO COMO REFERÊNCIA O NOSSO PRÓPRIO CORPO.





1. OBSERVE A IMAGEM A SEGUIR:

4				
3				
2				
1				
	A	B	C	D

QUAL OBJETO ESTÁ LOCALIZADO NO **D2**?






- () BOLA
() PATO
() DADO
() CARRO

2. QUE FIGURA ESTÁ LOCALIZADA NA MARCAÇÃO **D3** DA MALHA QUADRICULADA ABAIXO?

	A	B	C	D
1				
2				
3				
4				

- () ESTRELA
() CORAÇÃO
() FOGO
() FLOR

3. BIA ORGANIZOU EM UMA MALHA QUADRICULADA AS FRUTAS QUE DEVE CONSUMIR DURANTE UMA SEMANA E SUAS QUANTIDADES.

	S	T	Q	Q	S
1					
2					
3					
4					
5					

QUE FRUTA BIA DEVE CONSUMIR NA TERÇA-FEIRA?




- () MANGA.
- () MAÇÃ.
- () LARANJA.
- () MORANGO.

QUE FRUTA BIA DEVE CONSUMIR COM MAIS QUANTIDADE?

- () MANGA
- () MORANGO
- () PERA
- () LARANJA
- () MAÇÃ

3. COMPLETE A MALHA QUADRICULADA CONFORME AS INDICAÇÕES.

- ✓ DESENHE UM CORAÇÃO NA **COLUNA A, LINHA 4.**
- ✓ DESENHE UMA FLOR NA LOCALIZAÇÃO **E5.**
- ✓ DESENHE UMA LUA **ABAIXO** DA NUVEM.

	A	B	C	D	E
1					
2					
3					
4					
5					



UNIDADE ESCOLAR:

PROFESSOR(A)

ANO DE ESCOLARIDADE
1º ANO

DATA

NOME:

HOJE É?

SEGUNDA TERÇA QUARTA QUINTA SEXTA


CÓDIGO BNCC

EF15LP02/EF01LP02/EF01LP04/EF01LP05/EF15LP09

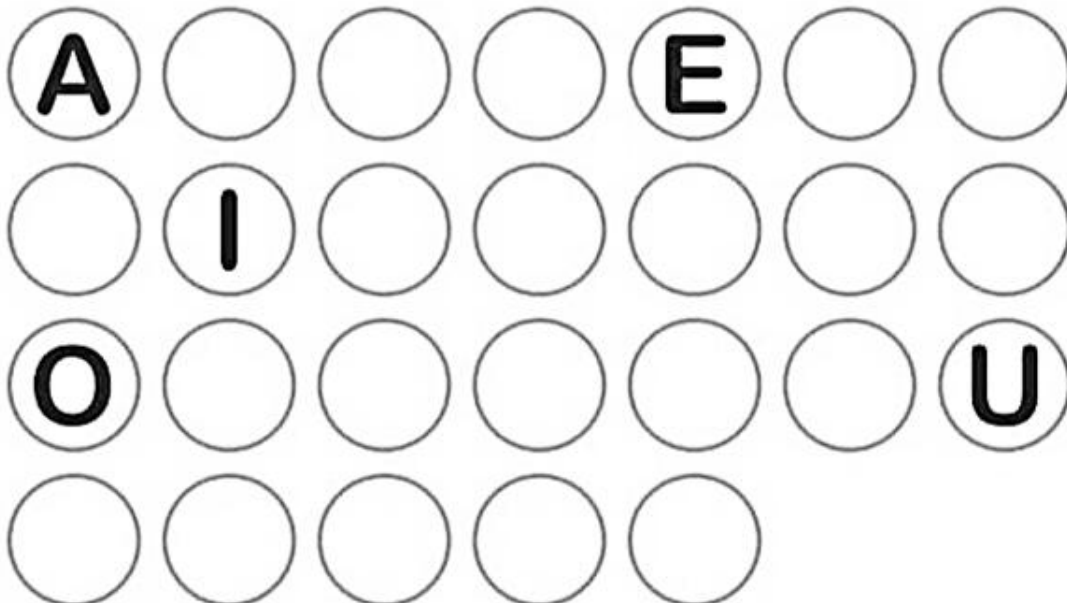
ABC LÍNGUA PORTUGUESA

1. APRENDENDO CANTANDO O ALFABETO (RITMO: CIRANDA CIRANDINHA).

26 LETRINHAS TEM O NOSSO ALFABETO
EM BINCADEIRA DE RODINHA
O APRENDO POR COMPLETO
CADA UMA TEM UM NOME,
CADA UMA TEM UM SOM
VOU BRINCANDO A APRENDENDO
E MOSTRANDO QUE EU SOU BOM.



2. COMPLETE A SEQUÊNCIA ALFABÉTICA:



3. MARQUE COM X A SEQUÊNCIA QUE A PROFESSORA DITAR:

- () ABC
- () DFG
- () HIJ
- () KLM

4. MARQUE A ALTERNATIVA QUE SÓ TEM LETRAS:









- () M-Z-3-?-4-\$
- () @-J-T-C-6-!
- () L-D-P-Q-W-X
- () +-R-#-H-9-&-A



5. MARQUE A ALTERNATIVA ONDE ESTÁ A SEQUÊNCIA CORRETA DE ACORDO COM O ALFABETO:

- () B-C-A
- () G-I-H
- () E-F-G
- () X-D-O

6. MARQUE A LETRA INICIAL DO NOME DA IMAGEM:

			
() G () T () P _____ATO	() V () T () F _____OCA	() B () P () D _____ATO	() M () N () L _____ACACO
			
() M () N () L _____EÃO	() F () G () V _____ACA	() B () P () D _____OI	() D () T () F _____ATU



UNIDADE ESCOLAR:

PROFESSOR(A)

ANO DE ESCOLARIDADE
1º ANO

DATA

NOME:

HOJE É?







SEGUNDA TERÇA QUARTA QUINTA SEXTA



CÓDIGO BNCC


EF01MA01/EF01MA09/EF01MA10


123 MATEMÁTICA 123


1. MARQUE UM X NA POSIÇÃO DE CADA DESENHO NA MALHA QUADRICULADA.


		
		


					


2. OBSERVE OS ALUNOS EM SALA DE AULA:



❖ **MARA** ESTÁ SENTADA:

- (A) ATRÁS DE JOSÉ.
- (B) NA FRENTE DE SARAH.
- (C) ATRÁS DE PEDRO.
- (D) NA FRENTE DE JOSÉ.

3. VEJA ABAIXO A FAZENDA ONDE BENTO TRABALHA:



❖ QUE ANIMAL ESTÁ MAIS PERTO DE BENTO?

- A) PORCO.
- B) GALINHA.
- C) CAVALO.
- D) PINTINHOS.





UNIDADE ESCOLAR:

PROFESSOR(A)

ANO DE ESCOLARIDADE

DATA

NOME:

HOJE É?

SEGUNDA TERÇA QUARTA QUINTA SEXTA

CÓDIGO BNCC

ABC LÍNGUA PORTUGUESA

A	H	E	I	X	F
ROXO	LARANJA	AZUL	AMARELO	VERMELHO	VERDE

X	A	H	E	F	I	A	E
E	F	I	X	A	E	H	F
A	X	F	H	I	E	X	A
X	E	I	X	A	H	E	A
F	A	H	X	E	I	X	I
E	X	A	H	E	X	F	A
A	E	I	X	A	E	I	E
I	X	A	F	H	A	X	F