



PREFEITURA MUNICIPAL
BOM JESUS
DO ITABAPOANA



SECRETARIA
MUNICIPAL DE
EDUCAÇÃO

Atividades Orientadoras

3º ANO
Ensino Fundamental 1





UNIDADE ESCOLAR:

PROFESSOR(A)

ANO DE ESCOLARIDADE
3º ANO

DATA

NOME:

HOJE É?

SEGUNDA TERÇA QUARTA QUINTA SEXTA

CÓDIGO BNCC

EF02LP06

ABC LÍNGUA PORTUGUESA

ATIVIDADES DE SONDAGEM



1. Leia e copie o alfabeto:

Aa	Bb	Cc	Dd	Ee	Ff
Gg	Hh	Ii	Jj	Kk	Ll
Mm	Nn	Oo	Pp	Qq	Rr
Ss	Tt	Uu	Vv	Ww	Xx
Yy	Zz				



a) Maiúsculo cursivo:

b) Minúsculo cursivo:

2. Reescreva somente as vogais:

□ □ □ □ □



3. Reescreva somente as consoantes:

□ □ □ □ □ □ □ □ □ □ □

□ □ □ □ □ □ □ □ □ □

4. Escreva as palavras em ordem alfabética:

pato	foca	kiwi	água	zebra	
rato	mala	sapo	hora	dado	
casa	bola	queijo	lápis	xarope	
ovo	uva	yoga	jogo	web	
elefante	gato	nuvem	vela	teto	ilha

A	_____	J	_____	S	_____
B	_____	K	_____	T	_____
C	_____	L	_____	U	_____
D	_____	M	_____	V	_____
E	_____	N	_____	W	_____
F	_____	O	_____	X	_____
G	_____	P	_____	Y	_____
H	_____	Q	_____	Z	_____
I	_____	R	_____		



UNIDADE ESCOLAR:

PROFESSOR(A)

ANO DE ESCOLARIDADE
3º ANO

DATA

NOME:

HOJE É?

SEGUNDA TERÇA QUARTA QUINTA SEXTA

CÓDIGO BNCC

EF02MA01

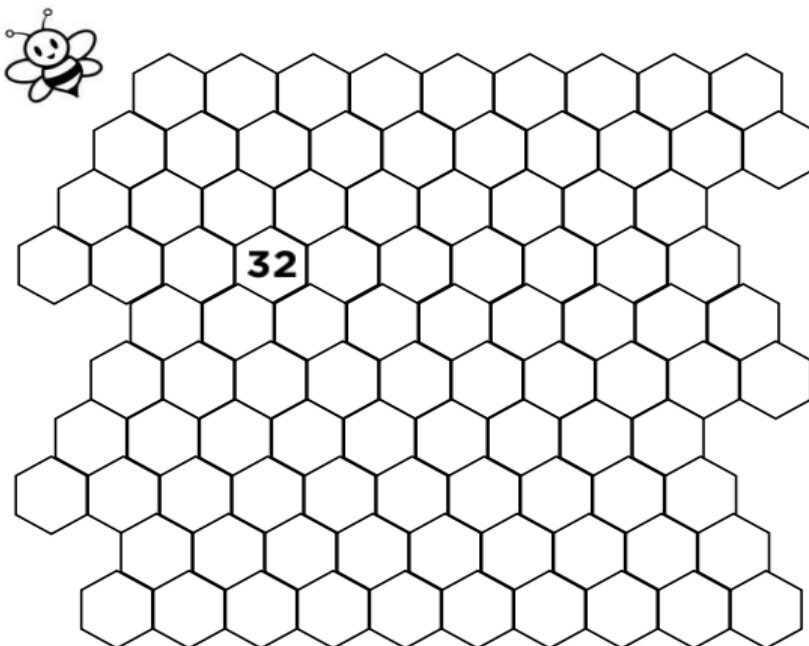
123 MATEMÁTICA 123

1. Escreva o nome dos numerais por extenso. Consulte o quadro abaixo.

dez – sete – seis – oito – três – dois – um – quatro – cinco – nove

1		6	
2		7	
3		8	
4		9	
5		10	

2. Ajude a abelhinha a encontrar sua colmeia, completando a sequência dos números:



3. Escreva o número que falta:

ANTES	
	12
	25
	32
	30
	39
	15
	8

ENTRE		
8		10
5		7
11		13
18		20
33		35
22		24
14		13

DEPOIS	
13	
26	
33	
31	
43	
28	
18	

4. Escreva os números do conjunto em ordem crescente:

a) $9 - 5 - 3 - 6 - 2$

b) $14 - 12 - 7 - 2 - 9$

c) $5 - 7 - 4 - 2 - 19$

d) $32 - 15 - 14 - 20 - 10$



5. Resolva as adições abaixo:

$1 + 2 = 3$ $1 + 3 = \bigcirc$

$2 + 2 = \bigcirc$ $2 + 3 = \bigcirc$

$3 + 2 = \bigcirc$ $3 + 3 = 6$

$4 + 2 = \bigcirc$ $4 + 3 = \bigcirc$

$5 + 2 = \bigcirc$ $5 + 3 = \bigcirc$

$6 + 2 = \bigcirc$ $6 + 3 = \bigcirc$

$7 + 2 = \bigcirc$ $7 + 3 = \bigcirc$





UNIDADE ESCOLAR:

PROFESSOR(A) ANO DE ESCOLARIDADE DATA

3º ANO

NOME:

HOJE É?

CÓDIGO BNCC

SEGUNDA

TERÇA

QUARTA

QUINTA

SEXTA

EF35LP03

ABC LÍNGUA PORTUGUESA

1. Leia o texto e responda as questões a seguir:

A FLAUTA ENCANTADA

O jovem músico Miguel encontrou uma flauta mágica em uma floresta encantada. Quando ele tocava, a flauta emitia sons que faziam as árvores dançarem e os animais falarem.

Miguel usou sua habilidade para resolver problemas no reino e trazer alegria a todos.

No entanto, ele também atraiu a atenção de uma bruxa invejosa que tentou roubar a flauta.

Com ajuda de seus amigos, Miguel enfrentou a bruxa e protegeu a flauta mágica.



Autor desconhecido

a) Quem é o personagem principal da história?

b) Onde Miguel encontrou a flauta mágica?

c) Como a flauta mágica funcionava quando Miguel a tocava?

d) Que impacto as habilidades de Miguel tiveram no reino?

e) Quem é o autor do texto?

2. Marque um x na resposta correta:

a) Quem tentou prejudicar?

() A rainha

() A bruxa

() A fada


b) Como Miguel conseguiu se livrar da bruxa?

() Com ajuda de seus amigos.

() Com ajuda de seus pais.

() Com ajuda de seus irmãos.

3. Escreva o nome das figuras:



4. Descubra duas palavras com CE e CI:

a) dulcetim _____

b) Dircegonha _____

c) cidade _____

d) cincoceira _____

5. Escreva três palavras para cada sílaba:

a) ba _____

b) ca _____

c) da _____

d) fa _____

6. Escreva uma frase com a palavra abaixo:

a) escola: _____



UNIDADE ESCOLAR:

PROFESSOR(A)

ANO DE ESCOLARIDADE
3º ANO

DATA

NOME:

HOJE É?


SEGUNDA TERÇA QUARTA QUINTA SEXTA

CÓDIGO BNCC

EF02MA03 / EF02MA09



123 MATEMÁTICA 123



Maior ou menor?
> (maior) < (menor)

1. Em cada quadro, compare os números com os sinais matemáticos de > (maior) ou < (menor) e depois reescreva os números do quadro em ordem decrescente.

36 ___ 42	55 ___ 19	90 ___ 89	27 ___ 76


45 ___ 54	65 ___ 79	30 ___ 40	37 ___ 25


83 ___ 18	27 ___ 61	49 ___ 77	42 ___ 52


50 ___ 55	85 ___ 23	12 ___ 74	52 ___ 57





2. Registre em cada tabela o número que vem antes e o que vem depois em cada caso:


		
-1		+1
	41	
	53	


		
-1		+1
	28	
	15	


		
-1		+1
	67	
	85	


		
-1		+1
	11	
	94	

		
-1		+1
	25	
	66	

		
-1		+1
	44	
	70	

		
-1		+1
	8	
	99	

		
-1		+1
	49	
	22	

		
-1		+1
	51	
	45	

3. Resolva os problemas:

a) Davi tem 12 anos. Daqui a quantos anos ele terá 26?

Resposta: _____

b) Joana ganhou 8 reais de seu pai. Ela está juntando dinheiro, pois quer comprar uma boneca que custa 78 reais. Quanto ela ainda tem que juntar?

Resposta: _____



UNIDADE ESCOLAR:

PROFESSOR(A)

ANO DE ESCOLARIDADE
3º ANO

DATA

NOME:

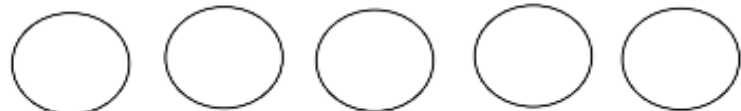
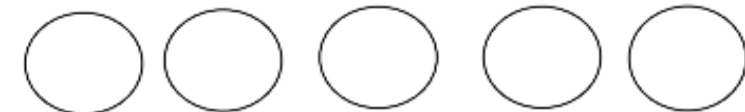
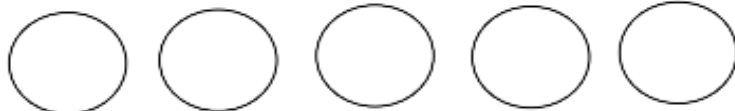
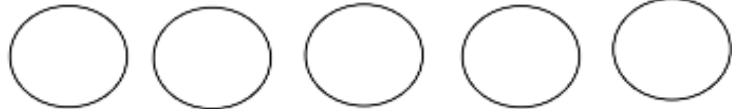
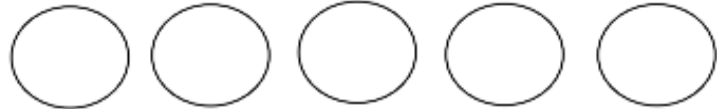
HOJE É?

SEGUNDA TERÇA QUARTA QUINTA SEXTA

CÓDIGO BNCC

ABC LÍNGUA PORTUGUESA

1. Observe as figuras e pinte uma bolinha para cada sílaba:



2. Ordene as frases:

ACABARAM. FÉRIAS AS

OS AMIGOS. PREPARE REVER PARA

A BONITA. MINHA É ESCOLA

PARA HORA VOLTAR A ESCOLA. É DE

COMEÇAR. AS IRÃO AULAS

MOCHILA. SUA A ORGANIZE



3. Escreva o nome das figuras abaixo:

