



PREFEITURA MUNICIPAL
BOM JESUS
DO ITABAPOANA



SECRETARIA
MUNICIPAL DE
EDUCAÇÃO

Atividades Orientadoras



5º ANO
Ensino Fundamental 1



UNIDADE ESCOLAR:

PROFESSOR(A)

ANO DE ESCOLARIDADE

5º ANO

DATA

NOME:

HOJE É?

SEGUNDA

TERÇA

QUARTA

QUINTA

SEXTA

CÓDIGO BNCC

EF05LP05/ EF35LP05/ EF35LP27

Revisando!

ABC LÍNGUA PORTUGUESA

Leia o texto abaixo e responda as questões a seguir.

Canção do exílio

"Minha terra tem
palmeiras, Onde canta
o Sabiá;

As aves, que aqui
gorjeiam,
Não gorjeiam como lá.

Nosso céu tem mais
estrelas, Nossas várzeas
têm mais flores, Nossos
bosques têm mais vida,
Nossa vida mais
amores.

Em cismar, sozinho, à
noite, Mais prazer
encontro eu lá; Minha
terra tem palmeiras,
Onde canta o Sabiá.

Minha terra tem primores,
Que tais não encontro eu cá;

Em cismar — sozinho, à noite —
Mais prazer encontro eu lá;
Minha terra tem palmeiras,
Onde canta o Sabiá.

Não permita Deus que eu morra,
Sem que eu volte para lá;

Sem que desfrute os primores
Que não encontro por cá;

Sem qu'inda aviste as palmeiras,
Onde canta o Sabiá."

Gonçalves Dias

1. O texto "Canção do exílio" é:

- a) uma notícia.
- b) um poema.
- c) uma receita.
- d) uma carta.

2. Uma característica desse tipo de texto é:

- a) ser escrito em versos e estrofes.
- b) ter instruções de preparo.
- c) relatar acontecimentos reais.
- d) dar uma ordem direta.



3. Qual é o tema principal do poema?

- a) A descrição de uma cidade grande.
- b) O preparo de um prato típico.
- c) Um passeio pelo campo.
- d) A saudade da pátria (Brasil).

4. Quantos versos e quantas estrofes tem o texto? **Versos:** _____ **Estrofes:** _____

5. Conjugue o verbo **cantar** nos tempos pedidos do modo indicativo:

PRESENTE	PRETÉRITO PERFEITO	FUTURO DO PRESENTE
Eu		
Tu		
Ele		
Nós		
Vós		
Eles		

Leia com atenção.

➤ **Exílio:**

- 1. Expulsão ou mudança forçada de uma pessoa de seu país, por decreto de autoridade, como pena ou castigo.
- 2. Abandono de seu próprio país voluntariamente, por inconformismo político; ausência auto imposta de seu próprio país.

➤ **Gorjeiam:** Som agradável, emitido por passarinhos.

➤ **Várzeas:** 1 Campina cultivada. 2 Planície de grande fertilidade.

➤ **Cismar:** Pensar fixamente (em alguma coisa), imaginar.

➤ **Primores:** Beleza, esplendor.

➤ **Desfrute:** aproveitar com prazer.

6. Esse texto é um exemplo de:


- a) um relatório.
- b) um verbete.
- c) uma biografia.
- d) uma notícia.

7. A palavra “exílio”, significa:

- a) Brincadeira entre amigos.
- b) Expulsão ou afastamento da própria terra.
- c) Festa em família.
- d) Descanso merecido.

8. Qual a finalidade desse texto?

- a) Emocionar o leitor.
- b) Dar informações claras e objetivas sobre uma palavra.
- c) Fazer rir com histórias engraçadas.
- d) Ensinar como preparar um alimento.





UNIDADE ESCOLAR:

PROFESSOR(A)

ANO DE ESCOLARIDADE

5º ANO

DATA

NOME:

HOJE É?

SEGUNDA

TERÇA

QUARTA

QUINTA

SEXTA

CÓDIGO BNCC

EF05MA01/ EF05MA07/ EF05MA08

123 **MATEMÁTICA** 123

Revisando!

1. Observe o número representado abaixo e faça o que se pede.

918 543



- a) Esse número tem _____ ordens e _____ classes.
- b) O número _____ ocupa a ordem das centenas de milhar.
- c) O número _____ ocupa a ordem das unidades de milhar.
- d) Qual o valor posicional do algarismo 8? _____
- e) Esse número é par ou ímpar? _____
- f) Qual o antecessor desse número? _____ E o sucessor? _____
- g) Faça a decomposição desse número. _____
- g) Escreva o número por extenso: _____

2. Observe a decomposição representada abaixo.

$(2 \times 1000) + (5 \times 100) + (7 \times 10) + (9 \times 1)$

Qual a composição correta dessa decomposição?

- a) 25.707
- b) 25.079
- c) 20.579
- d) 2.579



3. Resolva as situações abaixo:

a) Juliana colocou 345 lápis em 25 caixas. Quantos lápis há no total?

Resposta: _____

b) Fernanda está organizando uma festa. Ela tem 276 docinhos para dividir em 6 bandejas. Quantos docinhos ela colocará em cada bandeja?

Resposta: _____

c) Uma fábrica funciona em três turnos. Trabalham no 1º turno, 3 027 funcionários; no 2º turno, 2317 funcionários e no 3º turno, 1 203 funcionários. Quantos funcionários trabalham nessa fábrica?

a) 5 557 funcionários.

b) 5 867 funcionários.

c) 6 547 funcionários.

d) 6 867 funcionários.

➡ Calcule a diferença de funcionários entre o 1º turno e 2º turno. _____

4. Resolva as operações a seguir:

a) $54 + 99 =$ _____

e) $5.812 - 4.815 =$ _____

b) $1544 + 199 =$ _____

f) $416 - 209 =$ _____

c) $1\ 432\ 765 + 65\ 875 =$ _____

g) $206 - 48 =$ _____

d) $87 + 34 + 876 =$ _____

h) $900 - 489 =$ _____



UNIDADE ESCOLAR:

PROFESSOR(A)

ANO DE ESCOLARIDADE

5º ANO

DATA

NOME:

HOJE É?

SEGUNDA

TERÇA

QUARTA

QUINTA

SEXTA

CÓDIGO BNCC

EF05LP01/ EF05LP05/ EF35LP01

LÍNGUA PORTUGUESA

Leia o texto abaixo e responda as questões a seguir:

Gonçalves Dias (1823-1864) nasceu no Caxias (MA), no dia 10 de agosto de 1823.

Foi estudar na Europa, em Portugal em 1838 onde terminou os estudos secundários e ingressou na Faculdade de Direito da Universidade de Coimbra (1840), retornando em 1845, após bacharelar-se. Atravessando graves problemas financeiros, Gonçalves Dias é sustentado por amigos até se graduar bacharel em 1844.

Ainda em Portugal, escreveu seu famoso poema “Canção do exílio”, o qual mostra o saudosismo do autor em regressar ao Brasil. De volta ao país de origem, tem alguns casos amorosos e vive uma paixão por Ana Amélia. No entanto, a mão da jovem é recusada pelo fato de Gonçalves Dias ser mestiço. Acometido por doenças regressa à Europa em busca de tratamento. Na volta ao Brasil, o poeta morre nas costas do Maranhão, no naufrágio do Ville de Boulogne, navio no qual estava no dia 3 de novembro de 1864.



1. Que tipo de texto é esse?

- a) Reportagem.
- b) Biografia.
- c) Poema.
- d) Notícia.

2. Qual a finalidade do texto?

- a) Explicar o significado de palavras.
- b) Relatar fatos importantes da vida de uma pessoa.
- c) Dar uma opinião sobre um assunto.
- d) Ensinar como fazer algo.

3. Em qual data **Gonçalves Dias** faleceu? _____



4. Retire do texto um verbo no:

- a) infinitivo _____
- b) gerúndio _____
- c) particípio _____

Leia com atenção!



5. Qual é o gênero textual da imagem acima?

- a) Notícia.
- b) Tirinha.
- c) Poema.
- d) Verbete.

6. Qual poema famoso é lembrado nas falas dos personagens?

- a) O Guarani.
- b) Canção do exílio.
- c) Os Lusíadas.
- d) Iracema.

ATENÇÃO!

Palavras polissêmicas são aquelas que possuem mais de um significado, sendo que o sentido exato de cada palavra depende do contexto em que é usada.

Exemplos: "**banco**" (assento ou instituição financeira), "**manga**" (fruta ou parte da roupa).

7. Retire do texto:

- a) uma palavra polissêmica. _____
- b) um verbo da 1ª conjugação. _____

8. Reescreva a frase abaixo para o tempo verbal futuro.

→ **Minha terra tem palmeiras.**



UNIDADE ESCOLAR:

PROFESSOR(A)

ANO DE ESCOLARIDADE

5º ANO

DATA

NOME:

HOJE É?

SEGUNDA

TERÇA

QUARTA

QUINTA

SEXTA

CÓDIGO BNCC

EF05MA03/EF05MA07/EF05MA08/EF05MA16

123 MATEMÁTICA 123

Revisando!

1. Observe o anúncio com atenção e responda as questões abaixo.



a) Se uma pessoa comprar 8 cadeiras como a do anúncio, quanto ela pagará?




b) Quanto essa pessoa pagará se comprar todos os produtos do anúncio?

c) Se ela comprar o tablet em 2 vezes, qual será o valor de cada prestação?

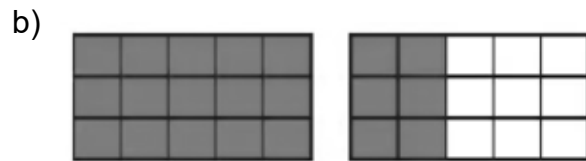
d) Qual a diferença de preço do tablet e da mesa?

Espaço para cálculos:

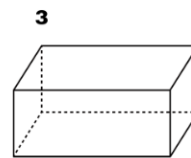
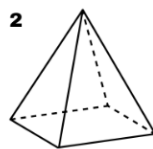
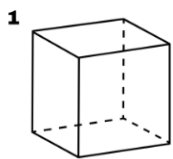
2. Escreva a fração que representa a parte pintada em cada figura e como se lê essa fração.



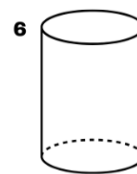
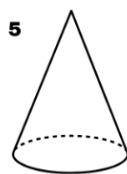
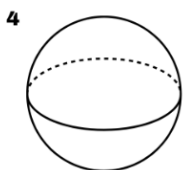
3. Represente as frações impróprias.



4. Nomeie os sólidos geométricos abaixo. Em seguida pinte os corpos redondos de vermelho e os poliedros de azul.



1 _____ 2 _____ 3 _____



4 _____ 5 _____ 6 _____