



PREFEITURA MUNICIPAL
BOM JESUS
DO ITABAPOANA



SECRETARIA
MUNICIPAL DE
EDUCAÇÃO

Atividades Orientadoras

3º ANO
Ensino Fundamental 1





UNIDADE ESCOLAR:

PROFESSOR(A)

ANO DE ESCOLARIDADE

3º ANO

DATA

NOME:

HOJE É?

SEGUNDA

TERÇA

QUARTA

QUINTA

SEXTA

CÓDIGO BNCC

EF15LP01

ABC LÍNGUA PORTUGUESA

1. Leia o texto abaixo:

NATAL

Você sabe o que significa a palavra Natal?

Natal se refere a nascimento ou ao local onde alguma pessoa nasceu. Por isso, no dia 25 de dezembro, comemoramos o **Nascimento de Jesus**. Neste dia reunimos nossas famílias, elevamos nosso pensamento a Deus, agradecemos o dom da vida, e fazemos um propósito de melhorarmos quanto pessoa.

É uma data também onde as famílias trocam presentes. Enfim, é um dia feliz!



a) O que significa a palavra Natal?

b) O que comemoramos no dia 25 de dezembro?

c) O que fazemos neste dia?

2. Marque um x nas respostas corretas:

a) () No Natal comemoramos o nascimento do menino Jesus.

b) () O Natal é comemorado no dia 25 de dezembro.

c) () O Natal é só para as famílias trocarem presentes.

3. Leia o texto abaixo e complete as frases.

Um dia especial

Era dia de enfeitar a árvore de Natal. Vitor levantou cedo e começou enfeitá-la.

Na árvore, ele colocou bolas coloridas, laços dourados, estrelas e outros enfeites. Vitor trabalhou o dia inteiro e sua árvore ficou linda!

Ao final do dia, toda a família se juntou ao redor da árvore para fazer uma prece de agradecimento a Deus por mais um Natal que estava chegando.

Parece que até a árvore agradeceu, pois suas estrelas brilhavam e piscavam como as estrelas do céu.



Isabel Cristina Silveira Soares

- a) Vitor levantou _____ e começou enfeitar a árvore de Natal.
- b) Na árvore, ele colocou bolas _____, laços dourados, estrelas e outros enfeites.
- c) Vitor trabalhou o dia inteiro e sua árvore ficou _____!
- d) Ao final do dia, toda a família se juntou ao redor da árvore para fazer uma prece de _____

4. Pinte os desenhos que fazem parte do Natal.



5. Circule os pronomes que aparecem nas frases abaixo.

- a) Eu gosto do Natal.
- b) Seu presente é de chocolate?
- c) Nós vamos à missa no Natal e André e sua família irão ao culto.
- d) Quero lhe apresentar minha avó.
- e) Essa bicicleta é nossa!
- f) Minha mãe é bondosa e trabalhadeira.





UNIDADE ESCOLAR:

PROFESSOR(A)

ANO DE ESCOLARIDADE

3º ANO

DATA

NOME:

HOJE É?

SEGUNDA

TERÇA

QUARTA

QUINTA



SEXTA

CÓDIGO BNCC

EF03MA05.RJ/EF03MA20

123 MATEMÁTICA 123

1. Resolva as adições:

$\begin{array}{r} 532 \\ + 425 \\ \hline \end{array}$	$\begin{array}{r} 326 \\ + 587 \\ \hline \end{array}$	$\begin{array}{r} 483 \\ + 269 \\ \hline \end{array}$	$\begin{array}{r} 675 \\ + 198 \\ \hline \end{array}$		$\begin{array}{r} 1.234 \\ + 2.725 \\ \hline \end{array}$	$\begin{array}{r} 2.456 \\ + 2.325 \\ \hline \end{array}$	$\begin{array}{r} 3.525 \\ + 2.897 \\ \hline \end{array}$
$\begin{array}{r} 478 \\ + 364 \\ \hline \end{array}$	$\begin{array}{r} 558 \\ + 244 \\ \hline \end{array}$	$\begin{array}{r} 397 \\ + 275 \\ \hline \end{array}$	$\begin{array}{r} 685 \\ + 238 \\ \hline \end{array}$	$\begin{array}{r} 4.327 \\ + 1.838 \\ \hline \end{array}$	$\begin{array}{r} 2.986 \\ + 3.437 \\ \hline \end{array}$	$\begin{array}{r} 5.346 \\ + 2.498 \\ \hline \end{array}$	

2. Resolva os problemas:

a) Davi quer comprar uma bicicleta de 1.834 reais, mas só tem 725 reais. De quanto Davi ainda precisa para comprar a bicicleta?

Cálculo

Resposta: _____

b) Juca comprou para sua loja 1.745 latas de tinta. Vendeu 537. Quantas latas de tinta restaram?

Cálculo

Resposta: _____

c) Esmeralda fez 57 pastéis, 60 quibes e 81 coxinhas para vender em um determinado dia em sua lanchonete. Vendeu 125. Quantos salgados sobraram neste dia?

Cálculo

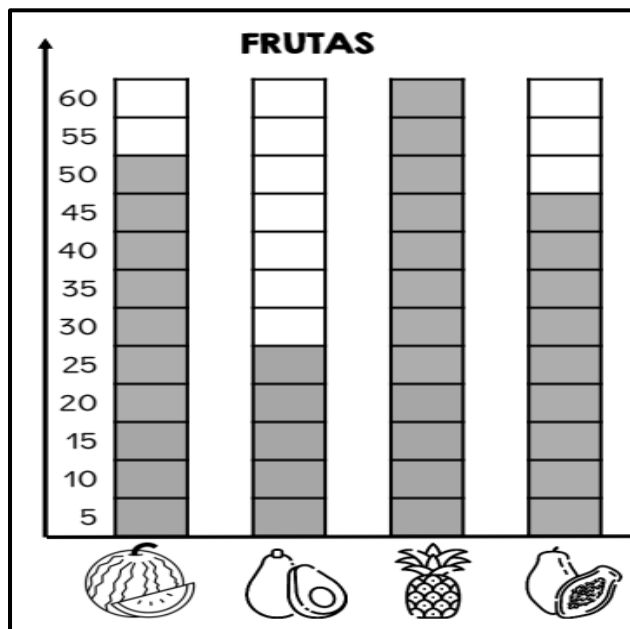
Resposta: _____

d) Para enfeitar a árvore de Natal, mamãe comprou 725 bolas e presenteou titia com 225. Com quantas bolas mamãe ficou?

Cálculo

Resposta: _____

3. Uma frutaria fez um levantamento da quantidade de frutas vendidas durante uma semana. Observe os dados do gráfico e responda as questões.




a) Qual fruta foi a mais vendida?

b) Qual fruta foi menos vendida?

c) Quantas melancias foram vendidas?

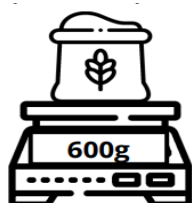
d) Qual foi o total de vendas do abacaxi e do abacate juntos?

4. Sabendo que a melancia pesa treze quilos, quanto pesa o abacaxi?



Resposta: _____

5. Para fazer um bolo, Julia pesou 600 gramas de trigo. Quantos quilos ela precisa para fazer 3 bolos?



Resposta: _____



UNIDADE ESCOLAR:

PROFESSOR(A) ANO DE ESCOLARIDADE DATA

NOME:

HOJE É?

CÓDIGO BNCC

SEGUNDA TERÇA QUARTA QUINTA SEXTA

LÍNGUA PORTUGUESA

1. Leia o texto abaixo:

A Margarida Rosa

Margarida Rosa dormia na sua casa, embaixo da terra em um jardim. Um dia, bateram à sua porta:

– Toc... toc... Margarida, sou a Chuva! Quero entrar na sua casa! – Não, não, Dona Chuva. Vou ficar toda molhada. A Chuva foi-se embora.

A Margarida continuou dormindo. Passou um tempo e bateram outra vez à sua porta:

– Chu... chu... Margarida, sou o Vento! Quero entrar na sua casa! – Não, não Senhor Vento. Vou ficar despenteada! O Vento foi-se embora.

A margarida continuou dormindo até ouvir outro barulho.

– Flap... flap... Margarida, sou o Sol! Quero entrar na sua casa. – Não, não, Senhor Sol. Vou ficar toda queimada. O Sol foi-se embora.

A Margarida continuou o seu sono. Mas, um dia, ela escutou três vozes alegres:

– Toc... toc... chu... chu... flap... flap... Margarida somos a Chuva, o Vento e o Sol! Viemos buscar você para ver a primavera!

A Chuva pegou na mão direita da Margarida, o Sol pegou na mão esquerda, o Vento soprou de mansinho e...

Ó maravilha! Margarida estava em um jardim cheio de flores. A primavera havia chegado.

Rita Domingues

a) Qual é o título do texto?


b) Onde é a casa da Margarida Rosa? _____

c) O que a chuva queria?

d) O que Margarida gostava de fazer?

e) Quem buscou a Margarida para ver a chegada da primavera?

2. Observe as figuras e escreva os nomes em ordem alfabética.



3. Leia a lista de palavras abaixo:

esperança notícia cinco cansaço terceiro cabeça celular açougue
cédula paçoca trança alface palhaço melancia acerola força

• Agora, copie as palavras nas colunas correspondentes.

Palavras escritas com c	Palavras escritas com ç



UNIDADE ESCOLAR:

PROFESSOR(A) ANO DE ESCOLARIDADE DATA

NOME:

HOJE É?

CÓDIGO BNCC

SEGUNDA

TERÇA

QUARTA

QUINTA

SEXTA

123 MATEMÁTICA 123


MULTIPLICAÇÃO E DIVISÃO

1. Resolva as multiplicações:

$\begin{array}{r} 228 \\ \times 5 \\ \hline \end{array}$	$\begin{array}{r} 209 \\ \times 6 \\ \hline \end{array}$	$\begin{array}{r} 254 \\ \times 3 \\ \hline \end{array}$	$\begin{array}{r} 226 \\ \times 3 \\ \hline \end{array}$
<hr/>	<hr/>	<hr/>	<hr/>

$\begin{array}{r} 112 \\ \times 9 \\ \hline \end{array}$	$\begin{array}{r} 253 \\ \times 3 \\ \hline \end{array}$	$\begin{array}{r} 285 \\ \times 2 \\ \hline \end{array}$	$\begin{array}{r} 239 \\ \times 4 \\ \hline \end{array}$
<hr/>	<hr/>	<hr/>	<hr/>

$\begin{array}{r} 264 \\ \times 3 \\ \hline \end{array}$	$\begin{array}{r} 237 \\ \times 4 \\ \hline \end{array}$	$\begin{array}{r} 183 \\ \times 5 \\ \hline \end{array}$	$\begin{array}{r} 348 \\ \times 2 \\ \hline \end{array}$
<hr/>	<hr/>	<hr/>	<hr/>



2. Faça a correspondência:

- | | |
|------------|------|
| → 45 : 5 • | • 6 |
| → 8 x 9 • | • 49 |
| → 36 : 6 • | • 9 |
| → 12 : 3 • | • 72 |
| → 7 x 7 • | • 3 |

3. Resolva os problemas:

a) Caio encomendou 345 salgados que serão entregues em 5 bandejas. Quantos salgados deverão ser colocados em cada bandeja?

Cálculo

Resposta: _____



b) Roberto realizou a colheita de 584 laranjas, que deverão ser colocadas em 4 caixas. Quantas laranjas ele deverá colocar em cada caixa?

Cálculo

Resposta: _____



c) Uma escola ganhou 448 livros e separou entre oito salas de aula. Quantos livros haverá em cada sala de aula?

Cálculo

Resposta: _____



d) Para festa de aniversário de Carla foram comprados 578 balões. A metade deles estourou. Quantos balões sobraram?

Cálculo

Resposta: _____



4. Escreva os resultados por extenso:

a) $56 : 7 =$ _____ f) $24 : 4 =$ _____

b) $63 : 6 =$ _____ g) $49 : 7 =$ _____

c) $32 : 8 =$ _____ h) $36 : 4 =$ _____

d) $90 : 9 =$ _____ i) $28 : 7 =$ _____

e) $27 : 3 =$ _____ j) $18 : 3 =$ _____



UNIDADE ESCOLAR:

PROFESSOR(A)

ANO DE ESCOLARIDADE
3º ANO

DATA

NOME:

HOJE É?

SEGUNDA TERÇA QUARTA QUINTA SEXTA

CÓDIGO BNCC

EF35LP07

ABC LÍNGUA PORTUGUESA

ORTOGRAFIA - QU

1. Observe as palavras com QU do quadro abaixo e encaixe-as na cruzadinha.

qualquer – quilômetro – quadrado
quinzena – porquinho – esquina

1.

2.


3.


4.

5.

6.

2. Escreva o nome das figuras:









3. Ligue a sílaba que completa cada palavra e escreva-a ao lado.

quei	
que	mado _____
quem	

quei	
quan	drinho _____
qua	

quei	
quin	zena _____
qui	

que	
qui	abo _____
quem	

4. Leia as palavras e coloque-as nas colunas corretas.

aquário – pinóquio – raquete – caqui – coqueiro – leque – queijo – quati – esquilo – buquê
 quinze – quieto – quintal – quatro – quente – quibe – quaresma – quadrado – quarto – querido
 queda – quadro – quase – quitute – quindim – quadra – queixo

qua	que	qui

5. Complete as frases com as sílabas que faltam.

- | | |
|--|---|
| a) Eu _____ se quebrei meu braço no tombo. | e) O _____ ijo de seu José é muito bom. |
| b) O E_____ dor é um país interessante. | f) O _____ dro foi pintado por Portinari. |
| c) Os mos_____ tos pertubaram a noite inteira. | g) O _____ lo do café está caro. |
| d) _____ tro galinhas fugiram do galinheiro. | h) O chefe da tribo é o caci_____. |

6. Escreva o nome dos desenhos:

