



PREFEITURA MUNICIPAL  
**BOM JESUS**  
DO ITABAPOANA



SECRETARIA  
MUNICIPAL DE  
**EDUCAÇÃO**

*Atividades Orientadoras*

**1º ANO**  
*Ensino Fundamental 1*





UNIDADE ESCOLAR:

PROFESSOR(A)  ANO DE ESCOLARIDADE  DATA

NOME:

HOJE É?

SEGUNDA  TERÇA  QUARTA  QUINTA  SEXTA

CÓDIGO BNCC

EF15LP02/EF15LP03/EF15LP13

## LÍNGUA PORTUGUESA

1. LEIA O TEXTO JUNTO COM A PROFESSORA A RESPONDA:

ZIRALDO ALVES PINTO NASCEU NO DIA 24 DE OUTUBRO DE 1932, NA CIDADE DE CARATINGA, EM MINAS GERAIS. DESDE PEQUENO, ELE GOSTAVA MUITO DE DESENHAR E, COM APENAS SEIS ANOS, TEVE SEU PRIMEIRO DESENHO PUBLICADO EM UM JORNAL. ZIRALDO FOI DESENHISTA, ESCRITOR, CARTUNISTA E JORNALISTA, DEDICANDO SUA VIDA A CRIAR HISTÓRIAS DIVERTIDAS E CHEIAS DE IMAGINAÇÃO. ELE ACREDITAVA QUE LER E BRINCAR ERAM FORMAS IMPORTANTES DE APRENDER E DE SER FELIZ.



ENTRE SUAS CRIAÇÕES MAIS CONHECIDAS ESTÃO OS LIVROS “O MENINO MALUQUINHO” E “FLICTS”, QUE ENCANTAM GERAÇÕES DE CRIANÇAS COM MENSAGENS SOBRE AMIZADE, CRIATIVIDADE E RESPEITO ÀS DIFERENÇAS. SEUS PERSONAGENS TÊM MUITO DA CULTURA E DA ALEGRIA DO POVO BRASILEIRO. POR TUDO ISSO, ZIRALDO É CONSIDERADO UM DOS MAIORES AUTORES DA LITERATURA INFANTIL DO BRASIL, DEIXANDO UMA LINDA HERANÇA DE ARTE, COR E IMAGINAÇÃO.

1. QUEM FOI ZIRALDO?

2. EM QUE CIDADE E ESTADO ZIRALDO NASCEU?

- A) SÃO PAULO – SP
- B) CARATINGA – MG
- C) RIO DE JANEIRO – RJ
- D) SALVADOR – BA

3. COMPLETE:

- ZIRALDO NASCEU NO DIA \_\_\_\_\_ DE \_\_\_\_\_ DE \_\_\_\_\_.

4. O QUE ZIRALDO GOSTAVA DE FAZER DESDE PEQUENO?

5. COM QUANTOS ANOS ELE TEVE SEU PRIMEIRO DESENHO PUBLICADO? \_\_\_\_\_

6. RELACIONE AS COLUNAS:

- |                           |                                    |
|---------------------------|------------------------------------|
| (1) "O MENINO MALUQUINHO" | ( ) O QUE ELE FAZIA DESDE CRIANÇA. |
| (2) CARATINGA             | ( ) CIDADE ONDE ELE NASCEU.        |
| (3) DESENHAR              | ( ) LIVRO FAMOSO DE ZIRALDO.       |

7. O MENINO MALUQUINHO É UM PERSONAGEM QUE:

- A) USA UM CHAPÉU DE PALHA.
- B) USA UMA PANELA NA CABEÇA.
- C) É MUITO SÉRIO E QUIETO.
- D) VIVE NO MAR.



8. COMPLETE A FRASE:

- ZIRALDO ESCREVEU HISTÓRIAS CHEIAS DE \_\_\_\_\_ E \_\_\_\_\_.

9. O QUE O LIVRO "O MENINO MALUQUINHO" ENSINA ÀS CRIANÇAS?

10. ESCREVA O NOME DE **UM LIVRO FAMOSO** CRIADO POR ZIRALDO.

11. POR QUE ZIRALDO É IMPORTANTE PARA A LITERATURA INFANTIL BRASILEIRA?

12. O QUE VOCÊ MAIS GOSTA DE FAZER: LER, DESENHAR OU BRINCAR? POR QUÊ?

13. ESCREVA UMA PALAVRA QUE DESCREVA ZIRALDO:



UNIDADE ESCOLAR:

PROFESSOR(A)

ANO DE ESCOLARIDADE  
1º ANO

DATA

NOME:

HOJE É?

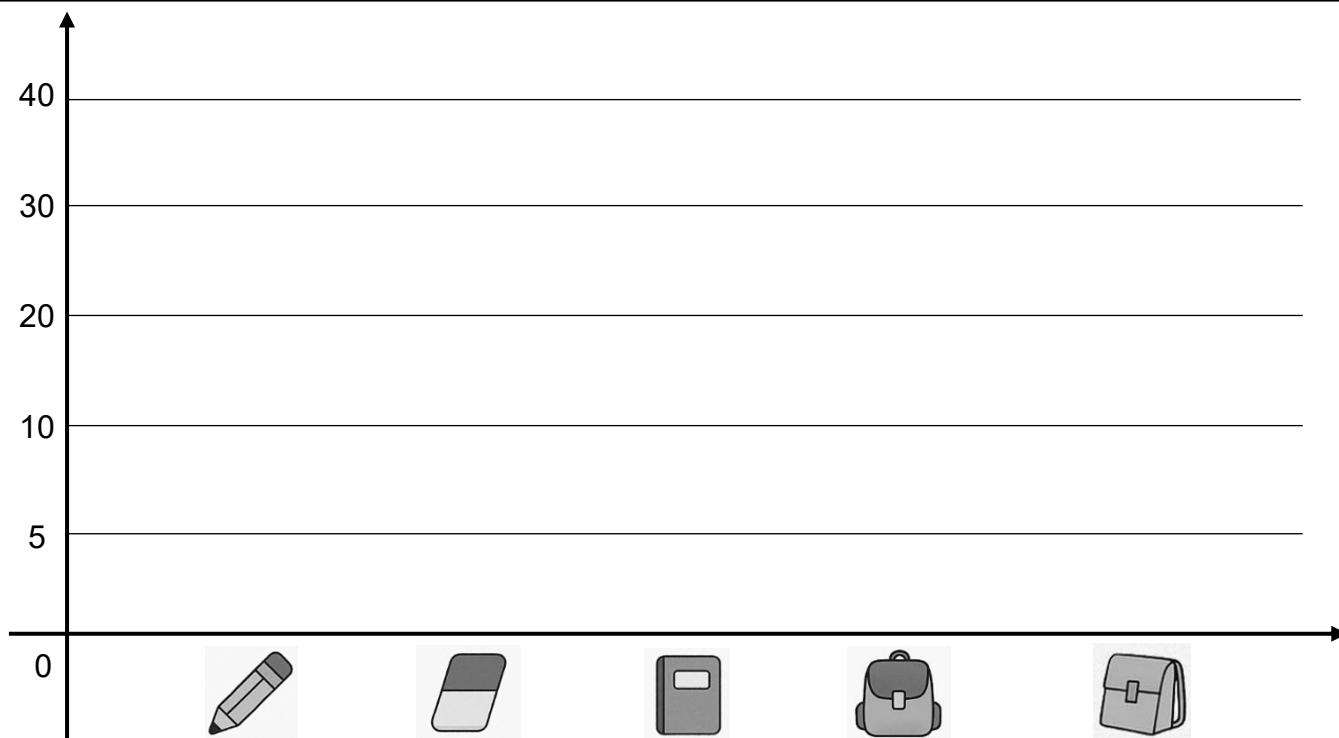

SEGUNDA  TERÇA  QUARTA  QUINTA  SEXTA

CÓDIGO BNCC

EF01MA15/EF01MA22

# 123 MATEMÁTICA 123

1. CONTE E REGISTRE NO GRÁFICO A QUANTIDADE DE CADA OBJETO. USE A RÉGUA.



RESPONDA DE ACORDO COM O GRÁFICO:

1. QUANTOS LÁPIS HÁ NO QUADRO? \_\_\_\_\_

2. HÁ QUANTAS BORRACHAS? \_\_\_\_\_

3. QUAL OBJETO APARECE EM MAIOR QUANTIDADE? \_\_\_\_\_

4. QUAL APARECE EM MENOR QUANTIDADE? \_\_\_\_\_

5. SE JUNTARMOS O NÚMERO DE LÁPIS E CADERNOS, QUANTOS OBJETOS TEREMOS AO TODO? CALCULE.

R.: \_\_\_\_\_

6. QUANTOS OBJETOS HÁ NO TOTAL, SOMANDO BORRACHAS E MOCHILAS? CALCULE.

R.: \_\_\_\_\_

7. SE A PROFESSORA TROUXER MAIS 3 LÁPIS, QUAL SERÁ A NOVA QUANTIDADE DE LÁPIS? CALCULE.

R.: \_\_\_\_\_

8. A TURMA USOU 4 CADERNOS PARA A ATIVIDADE. QUANTOS CADERNOS FICARAM?

R.: \_\_\_\_\_

9. QUANTOS LÁPIS HÁ A MAIS QUE MOCHILAS?

R.: \_\_\_\_\_

10. QUANTAS BORRACHAS HÁ A MENOS QUE CADERNOS?

R.: \_\_\_\_\_

11. SE JUNTARMOS TODOS OS OBJETOS, QUANTOS EXISTEM NO TOTAL?

R.: \_\_\_\_\_



UNIDADE ESCOLAR:

PROFESSOR(A)  ANO DE ESCOLARIDADE  DATA

NOME:

HOJE É?


SEGUNDA  TERÇA  QUARTA  QUINTA  SEXTA

CÓDIGO BNCC

EF01LP06/EF15LP13/EF01LP03

## ABC LÍNGUA PORTUGUESA

1. ESCREVA CORRETAMENTE O NOME DAS FIGURAS E DEPOIS SEPRE AS SÍLABAS.


  
  
  
  
  

AVESTRUZ – AZEITE  
PIZZA – CHAFARIZ –  
NARIZ

2. REESCREVA AS FRASES SUBSTITUINDO A IMAGEM PELO NOME DE CADA UMA DELAS.

A)  É LISTRADA.

\_\_\_\_\_

B) MEU CASACO TEM 

\_\_\_\_\_

C)  PARECE UM TAMBOR.

\_\_\_\_\_





UNIDADE ESCOLAR:

PROFESSOR(A)

ANO DE ESCOLARIDADE  
1º ANO

DATA

NOME:

HOJE É?

SEGUNDA  TERÇA  QUARTA  QUINTA  SEXTA

CÓDIGO BNCC

EF01MA01/EF01MA08/EF01MA10

# 123 MATEMÁTICA 123

1. COMPLETE A SEQUÊNCIA NUMÉRICA COERSIVA.

6  $\xrightarrow{+4}$    $\xrightarrow{+8}$    $\xrightarrow{-2}$    $\xrightarrow{-3}$    $\xrightarrow{-4}$


9  $\xrightarrow{+4}$    $\xrightarrow{+2}$    $\xrightarrow{+5}$    $\xrightarrow{-10}$    $\xrightarrow{-4}$

3  $\xrightarrow{+10}$    $\xrightarrow{+3}$    $\xrightarrow{-6}$    $\xrightarrow{-4}$    $\xrightarrow{+8}$

5  $\xrightarrow{+4}$    $\xrightarrow{+3}$    $\xrightarrow{+1}$    $\xrightarrow{-5}$    $\xrightarrow{+3}$

4  $\xrightarrow{+6}$    $\xrightarrow{+2}$    $\xrightarrow{-7}$    $\xrightarrow{+5}$    $\xrightarrow{+3}$

2. LIGUE OS PONTOS DE 0 A 99 E FORME O DESENHO. DEPOIS ESCREVA O NOME DO DESENHO QUE VOCÊ FORMOU.





UNIDADE ESCOLAR:

PROFESSOR(A)

ANO DE ESCOLARIDADE  
1º ANO

DATA

NOME:

HOJE É?

SEGUNDA  TERÇA  QUARTA  QUINTA  SEXTA



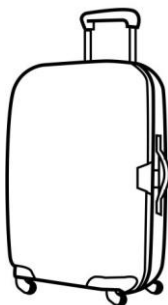

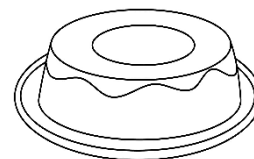
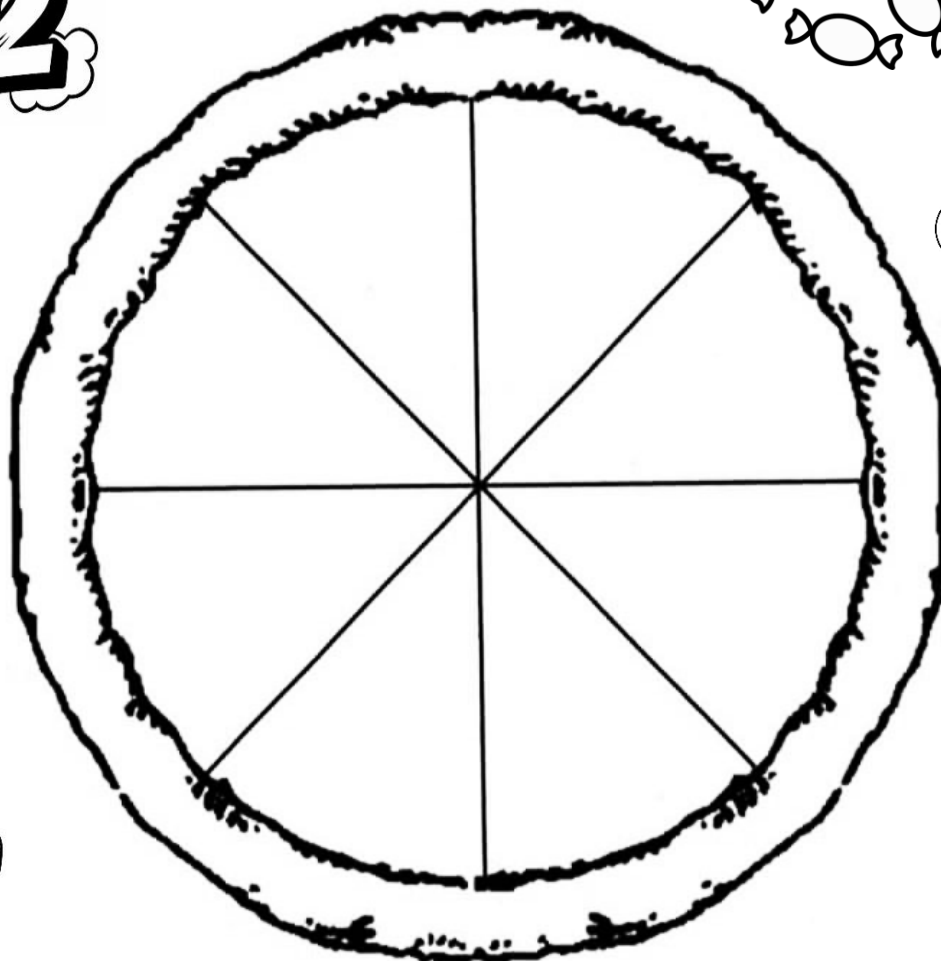
CÓDIGO BNCC

EF15LP13/EF15LP05

# ABC LÍNGUA PORTUGUESA

1. O COZINHEIRO FEZ UMA PIZZA DELICIOSA, MAS PARA COMÊ-LA, VOCÊ DEVERÁ ESCREVER SOMENTE O NOME DOS DESENHOS QUE TÊM A LETRA Z.

12



10

