



PREFEITURA MUNICIPAL
BOM JESUS
DO ITABAPOANA



SECRETARIA
MUNICIPAL DE
EDUCAÇÃO

Atividades Orientadoras



4º ANO
Ensino Fundamental 1



UNIDADE ESCOLAR:

PROFESSOR(A)

ANO DE ESCOLARIDADE

4º ANO

DATA

NOME:

HOJE É?

SEGUNDA

TERÇA

QUARTA

QUINTA

SEXTA

CÓDIGO BNCC

EF04LP02. RJ/ EF35LP01/EF35LP03

ABC LÍNGUA PORTUGUESA

TEXTO 1:

TEXTO 2:

Proximidade fictícia

Vivemos temos difíceis
E os momentos simples
Não valem de nada,
Se não publicar.

O ego na hora se infla,
E um elogio idiota já é o
Combustível pra se deslumbrar.

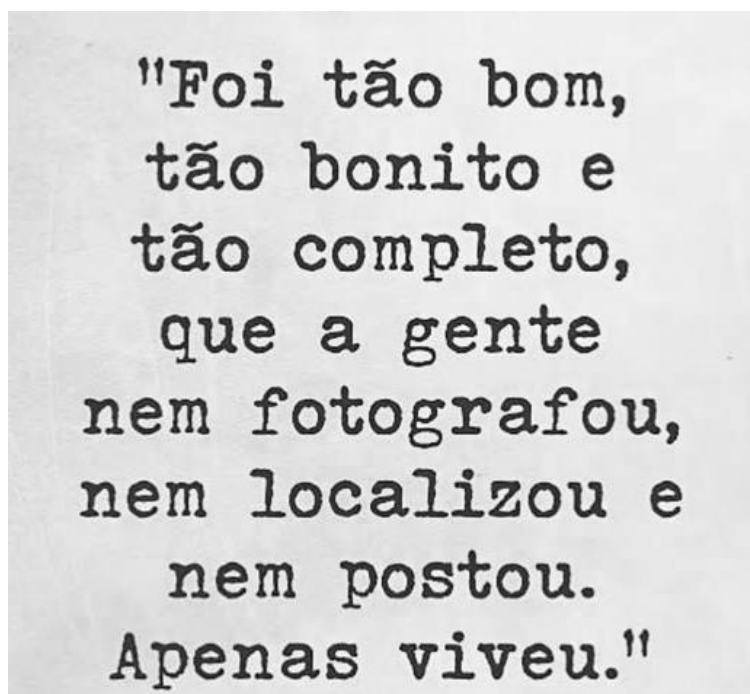
Quantas curtidas merecem o
Primeiro passo de um filho?
O almoço em família domingo,
Quando vamos dar valor pra isso?

E olha que ironia:
Ficar sem amor tudo bem,
Se o celular tem bateria.

Saudade virou coisa antiga,
Nessa proximidade fictícia.

Eu tô com saudade de um abraço
Que não se digita.

Hugo Henrique de Paula, Juliano Soares, Luan Santana e Rafael Galdino. Disponível em: < <https://www.letras.mus.br/hugo-henrique/proximidade-ficticia/> > Acesso em 25 de ago. 2025



Disponível em:

<https://www.facebook.com/psipamela/posts/raros-s%C3%A3o-esses-momentos-hoje-em-dia-que-de-t%C3%A3o-intensos-completos-e-fartos-que-/2363631093863630/>

1. No **texto 1**, o que os autores querem mostrar quando falam de "**proximidade fictícia**"?

- a) Que as pessoas estão mais felizes nas redes sociais.
- b) Que a amizade de verdade só existe no celular.
- c) Que muitas vezes as pessoas parecem próximas na internet, mas estão distantes na vida real.
- d) Que todos gostam de postar fotos.

2. A ideia central do **texto 1** é a de que:

- (A) só vale a pena viver se houver publicações nas redes sociais.
- (B) a busca por curtidas pode prejudicar momentos simples e o contato humano.
- (C) o abraço de verdade pode ser substituído por uma mensagem digitada.
- (D) a tecnologia não influencia em nada as relações entre as pessoas.

3. O que o **texto 2** valoriza?

- a) Curtir muitas fotos na internet.
- b) Postar todos os momentos nas redes sociais.
- c) Viver momentos sem precisar fotografar ou postar.
- d) Usar sempre o celular para guardar lembranças.

4. No **texto 1**, o que acontece com o ego quando alguém recebe elogios na internet?

- a) Fica triste.
- b) Se enche de alegria e cresce.
- c) Não muda nada.
- d) Fica bravo.

5. De acordo com o **texto 1**, o que virou "**coisa antiga**"?

- a) O uso do celular.
- b) A saudade.
- c) A internet.
- d) O almoço em família.

6. A função do **texto 2** é:

- (A) informar um fato ao leitor.
- (B) causar entretenimento ao leitor.
- (C) promover uma reflexão no leitor.
- (D) instruir o leitor a realizar um procedimento.

7. Qual é a mensagem principal dos dois textos juntos?

- a) É melhor postar tudo na internet.
- b) O mais importante é viver os momentos de verdade, e não apenas postar.
- c) As redes sociais deixam as pessoas mais próximas.
- d) O celular nunca deve ficar sem bateria.





UNIDADE ESCOLAR:

PROFESSOR(A)

ANO DE ESCOLARIDADE
4º ANO

DATA

NOME:

HOJE É?


SEGUNDA TERÇA QUARTA QUINTA SEXTA

CÓDIGO BNCC

EF04MA27

123 MATEMÁTICA 123

Uma professora de Matemática realizou uma pesquisa com seus estudantes sobre qual a forma geométrica preferida. Cada aluno só poderia escolher uma única forma. Os resultados estão no gráfico abaixo. Observe e depois responda às questões 1 e 2:



1. Quantos alunos participaram desta pesquisa?

- a) 26 alunos.
- b) 27 alunos.
- c) 28 alunos.
- d) 29 alunos.

2. Qual a forma geométrica preferida dos estudantes?

- a) Triângulo.
- b) Círculo.
- c) Cilindro.
- d) Cubo.

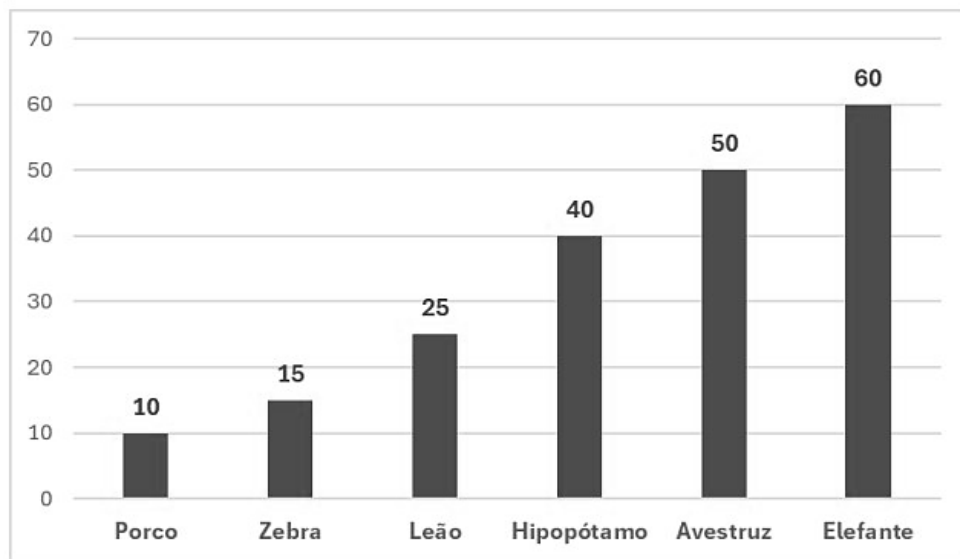
Observe o gráfico comparativo abaixo em metros que mostra as diferenças de tamanhos de três elementos e depois responda à questão:



3. Quantos metros medem cada elemento?

- a) O prédio: _____
- b) O poste: _____
- c) A girafa: _____

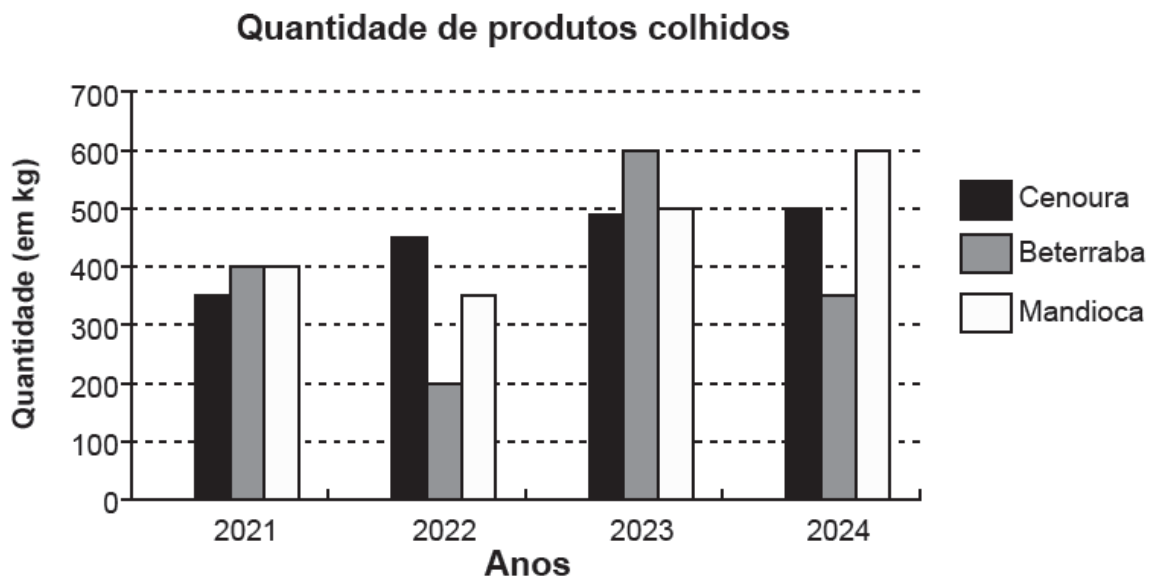
Um professor de matemática fez um gráfico mostrando o tempo médio de vida de alguns animais. Observe o gráfico abaixo e depois responda à questão:



4. Quantos anos o leão vive a mais que o porco?

- a) 10 anos
- b) 15 anos.
- c) 25 anos.
- d) 40 anos.

Antônio registra a quantidade de todos os produtos colhidos em seu sítio. Observe, no gráfico abaixo, a quantidade de cenouras, beterrabas e mandiocas colhidas nesse sítio nos últimos quatro anos.



5. De acordo com esse gráfico, em qual ano a quantidade de beterraba colhida, em quilograma, foi maior que a quantidade de cenoura e maior que a quantidade de mandioca?

- A) 2021.
- B) 2022.
- C) 2023.
- D) 2024.



UNIDADE ESCOLAR:

PROFESSOR(A)

ANO DE ESCOLARIDADE

4º ANO

DATA

NOME:

HOJE É?

SEGUNDA

TERÇA

QUARTA

QUINTA

SEXTA

CÓDIGO BNCC

EF04LP01

ABC LÍNGUA PORTUGUESA

Vamos lembrar?

Observe:

a) Os verbos **comprar**, **andar**, **completar**...pertencem à 1ª conjugação, porque terminam em **ar**.

b) Os verbos **vender**, **escrever**, **beber**...pertencem à 2ª conjugação, porque terminam em **er**.

c) Os verbos **subir**, **cair**, **dividir**...pertencem à 3ª conjugação, porque terminam em **ir**.

→ Os verbos **por**, **recompôr**, **dispor** e outros, embora não terminem em er, são considerados da 2ª conjugação.

1. A qual conjugação pertence o verbo:

a) pintar? _____ d) partir? _____

b) comer? _____ e) compor? _____

c) repor? _____ f) sair? _____

2. Conjuge o verbo **PULAR** nos tempos pedidos do modo Indicativo.

PRESENTE	PRETÉRITO PERFEITO	FUTURO DO PRESENTE
Eu		
Tu		
Ele		
Nós		
Vós		
Eles		

3. Reescreva as frases nos tempos pedidos do modo indicativo.

a) Tu acordas cedo.

→ pretérito perfeito.

→ futuro do presente.

b) Eu falei sobre os peixes.

→ presente.

→ futuro do presente.

c) Eles viajaram para São Paulo.

→ presente.

→ futuro do presente.

4. Escreva as frases, usando no futuro o verbo sublinhado. Veja o exemplo:

Exemplo: Eu vou **brincar** amanhã. Eu brincarei.

a) Eu vou nadar amanhã. _____

b) Ele vai estudar mais tarde. _____

c) Ela vai dançar amanhã. _____

d) Nós vamos viajar nas férias. _____

e) Elas vão limpar a sala amanhã. _____

5. Coloque, no quadro abaixo, os verbos nos lugares certos:

vestir andar receber amar partir prender pedir contar trazer comer estudar subir falar esconder ouvir
--

Lembrando: 1ª conjugação termina em **AR** / 2ª conjugação termina em **ER** / 3ª conjugação termina em **IR**.

1ª CONJUGAÇÃO	2ª CONJUGAÇÃO	3ª CONJUGAÇÃO



UNIDADE ESCOLAR:

PROFESSOR(A) ANO DE ESCOLARIDADE DATA

NOME:

HOJE É?

SEGUNDA TERÇA QUARTA QUINTA SEXTA

CÓDIGO BNCC

EF04MA02.RJ

123 MATEMÁTICA 123



1. Resolva as expressões numéricas abaixo:

a) $36 + 45 + (81 : 9) =$	b) $48 + 14 + (35 \times 2) =$
c) $59 + 32 + (24 \times 4) =$	d) $345 - 254 - (45 + 1) =$
e) $498 - 342 + (35 : 5) =$	f) $438 - 438 + (50 : 10) =$
g) $60 + (34 \times 5) =$	h) $100 - (50 : 5) =$
i) $25 + (25 : 5) =$	d) $46 - 23 + (43 \times 2) =$