



PREFEITURA MUNICIPAL
BOM JESUS
DO ITABAPOANA



SECRETARIA
MUNICIPAL DE
EDUCAÇÃO

Atividades Orientadoras

3º ANO
Ensino Fundamental 1





UNIDADE ESCOLAR:

PROFESSOR(A)

ANO DE ESCOLARIDADE

3º ANO

DATA

NOME:

HOJE É?

SEGUNDA

TERÇA

QUARTA

QUINTA

SEXTA

CÓDIGO BNCC


EF15LP02/EF35LP21

ABC LÍNGUA PORTUGUESA

RELEMBRANDO O GÊNERO TEXTUAL: Ficha Técnica

A **Ficha Técnica** é um gênero textual que apresenta informações detalhadas e organizadas sobre um objeto, ser vivo ou de um lugar, geralmente em formato de tópicos ou tabela.

1. Leia a ficha técnica do porco espinho e responda:

FICHA TÉCNICA	
	Nome: Porco espinho ou ouriço.
	Nome: Científico: <i>hystrix cristata</i> .
	Comprimento: 40 e 70 cm.
	Onde se encontram: África, Ásia e em todas as Américas.
	Habitat: Cavernas, solos ou troncos ocos.
	Alimentação: Vegetais.

a) Qual é o nome científico do porco espinho? _____

b) Além de porco espinho, que outro nome ele recebe? _____

c) Onde é encontrado o porco espinho? _____

2. Complete a ficha técnica, pesquisando as palavras abaixo.

Orcas, tubarões maiores, tubarão branco – Escamas – Ovos ou do útero da mãe – Respiração branquial – Não – Oceanos e mares – Peixes, tartarugas, focas, golfinhos e tubarões menores.

FICHA TÉCNICA

TUBARÃO

a) Onde vive? _____

b) O que come? _____

c) Como nasce? _____


d) De que é coberto a sua pele? _____

e) Quem são seus predadores? _____

f) Possui pata? _____

g) Como respira? _____

h) Escreva uma curiosidade sobre esse animal.



3. Identifique o **erro** e reescreva a frase corretamente.

a) Um dos alimentos do tubarão é a tartarruga.

b) Oseano é a extensão de água salgada que cobre a maior parte do planeta.

c) O mar também tem água salgada, pode ser ou não cercado por terra.

d) O tubarão viive nos mares e oceanos.



UNIDADE ESCOLAR:

PROFESSOR(A)

ANO DE ESCOLARIDADE
3º ANO

DATA

NOME:

HOJE É?

CÓDIGO BNCC

SEGUNDA

TERÇA

QUARTA

QUINTA


SEXTA

EF03MA06.RJ/ EF03MA07

123 MATEMÁTICA 123

MULTIPLICAÇÃO DOS NÚMEROS NATURAIS

1. Assinale o resultado da operação:



3 X 8	54	24	30
3 X 9	27	18	21
3 X 5	18	30	15
5 X 6	11	36	30
5 X 8	15	40	50
4 X 7	28	36	32
4 X 9	28	38	36
4 X 6	24	32	36
2 X 8	18	20	16
3 X 10	30	42	40
5 X 9	45	15	35
6 X 7	40	42	36
5 X 7	35	15	24

PROBLEMINHAS

2. Resolva os problemas abaixo:

a) Sandra colocou 6 flores em cada um dos 4 jarros do jardim. No total, quantas flores Sandra colocou nos vasos?



b) Um cachorro tem 4 patas. Quantas patas têm 9 cachorros juntos?



c) Em um álbum há 24 fotos. Quantas fotos há em 2 álbuns?



d) Júlio organizou sua coleção de selos em caixas. Ele colocou 3 dúzias de selos em uma caixa. Quantos selos ele colocou na caixa?



e) Patrícia comprou 3 ingressos para o teatro. Cada ingresso custou R\$ 15,00. Quanto Patrícia gastou com os ingressos?



3. Resolva:

a) $2 \times 7 =$ _____ d) $4 \times 8 =$ _____ g) $7 \times 4 =$ _____ j) $2 \times 5 =$ _____

b) $3 \times 7 =$ _____ e) $5 \times 8 =$ _____ h) $8 \times 4 =$ _____ k) $3 \times 5 =$ _____

c) $4 \times 7 =$ _____ f) $6 \times 8 =$ _____ i) $9 \times 4 =$ _____ l) $4 \times 5 =$ _____



UNIDADE ESCOLAR:

PROFESSOR(A)

ANO DE ESCOLARIDADE

3º ANO

DATA

NOME:

HOJE É?

SEGUNDA

TERÇA

QUARTA

QUINTA

SEXTA

CÓDIGO BNCC

EF35LP01

LÍNGUA PORTUGUESA

1. Leia o texto abaixo, depois responda às questões:

O cachorrinho de Davi

Lilo era o cachorrinho de Davi, um animalzinho alegre e cheio de energia, Ele gostava muito de correr pelos campos verdes, ao redor da casa. Tinha o pelo macio e de cor marrom, brilhava ao sol, e seus olhos, curiosos, acompanhavam cada movimento do dono. Davi, um menino de cabelos pretos e sorriso largo, adorava passar todos os dias com seu fiel amigo, brincando de esconde-esconde e dando longos passeios à beira do rio.

A pesar de pequeno, o Lilo era corajoso e sempre estava ao lado de Davi, seja nas brincadeiras ou nas aventuras pela natureza. Eles eram inseparáveis, com Davi cuidando dele com amor e dedicação. Com o tempo, a amizade entre eles se fortalecia.

À medida que envelhecia, Lilo começou a mostrar sinais de cansaço, mas o vínculo entre ele e Davi se manteve inalterado. O amor entre os dois era profundo, e o cachorrinho sempre teria um lugar especial no coração de Davi.



tudosaladeaula.com

1. Responda:

a) Qual é o título do texto?

b) Quem é Lilo?

c) O que Lilo gostava de fazer?

d) Como é o Davi?

2. Marque as respostas corretas:

- () Lilo era medroso e sempre estava ao lado de Davi.
- () Lilo era corajoso e sempre estava ao lado de Davi.
- () Davi e Lilo eram amigos inseparáveis.
- () Davi cuidava de Lilo com amor e dedicação.
- () Davi não cuidava de Lilo.



3. Complete as frases:

- a) À medida que _____, Lilo começou a mostrar sinais de cansaço.
- b) O vínculo entre Lilo e _____ se manteve inalterado.
- c) O _____ entre os dois era profundo.
- d) O _____ sempre teria um lugar especial no coração de Davi.

4. Quantos parágrafos tem o texto?

- () cinco () três () quatro () seis

5. De onde foi tirado esse texto?

6. Retire do texto cinco verbos.

7. Escreva uma frase para cada palavra.

a) Lilo

b) Davi

c) brincadeiras

d) dono

8. Separe as sílabas das palavras abaixo:

a) cachorrinho _____ d) aventuras _____

b) animalzinho _____ e) dedicação _____

c) sorriso _____ f) especial _____



UNIDADE ESCOLAR:

PROFESSOR(A) ANO DE ESCOLARIDADE DATA

NOME:

HOJE É?

CÓDIGO BNCC

SEGUNDA TERÇA QUARTA QUINTA SEXTA

EF03MA06.RJ

123 MATEMÁTICA 123

DIVISÃO E SEUS TERMOS

Observe os termos da divisão:

dividendo **divisor**

$$\begin{array}{r} \uparrow \\ 12 \quad | \quad 4 \\ 0 \quad 3 \quad \rightarrow \text{quociente} \\ \downarrow \\ \text{resto} \end{array}$$

1. Observe a divisão, nomeie corretamente os algarismos demarcados e complete as sentenças com os algarismos corretos:

$$\begin{array}{r} 48 \quad | \quad 4 \\ 0 \quad 12 \\ \hline \end{array}$$

a) $40 : 8 = 5$
 O número _____ é o dividendo, o _____
 é o divisor e o número _____ é o _____.

b) $30 : 5 = 7$
 O número _____ é o dividendo, o _____
 é o divisor e o número _____ é o _____.

c) $16 : 2 = 8$

O número _____ é o dividendo, o _____
é o divisor e o número _____ é o _____.

d) $28 : 4 = 7$

O número _____ é o dividendo, o _____
é o divisor e o número _____ é o _____.

e) $18 : 3 = 6$

O número _____ é o dividendo, o _____
é o divisor e o número _____ é o _____.

f) $15 : 3 = 5$

O número _____ é o dividendo, o _____
é o divisor e o número _____ é o _____.

2. Pratique a divisão efetuando os cálculos abaixo:

$88 \overline{) 4}$

$42 \overline{) 2}$

$91 \overline{) 7}$

$84 \overline{) 6}$

$50 \overline{) 2}$

$100 \overline{) 4}$

$91 \overline{) 7}$

$32 \overline{) 8}$

$96 \overline{) 8}$

$144 \overline{) 6}$

$84 \overline{) 7}$

$83 \overline{) 8}$



PROBLEMINHAS

3. Resolva os problemas a seguir:

a) Maria tem 24 maçãs e quer dividir igualmente entre 4 amigos. Quantas maçãs cada amigo receberá?


Cálculo



Resposta: _____

b) Um pacote tem 32 balas e será dividido entre 8 crianças. Quantas balas cada um receberá?

Cálculo



Resposta: _____

c) Em uma sala de aula há 56 livros, para serem distribuídos igualmente entre 7 prateleiras. Quantos livros cada prateleira terá?

Cálculo



Resposta: _____

d) Um fazendeiro recolheu 40 ovos e deseja colocá-los em caixas de 5 ovos cada. Quantas caixas ele pode encher?

Cálculo



Resposta: _____

e) Uma granja tem 582 galinhas. Seu dono vendeu para 6 fornecedores. Com quantas galinhas cada um ficou?


Cálculo



Resposta: _____

f) Um padeiro repartiu igualmente 81 pães entre 9 fregueses. Quantos pães recebeu cada freguês?

Cálculo



Resposta: _____



UNIDADE ESCOLAR:

PROFESSOR(A)

ANO DE ESCOLARIDADE

3º ANO

DATA

NOME:

HOJE É?

SEGUNDA

TERÇA

QUARTA

QUINTA

SEXTA

CÓDIGO BNCC

EF35LP08

ABC LÍNGUA PORTUGUESA

PRONOME POSSESSIVO

Os **pronomes possessivos** são aqueles que indicam a posse de algo. Eles variam em gênero e número, conforme as pessoas que detêm algo e o número de coisas que elas possuem.

Veja os pronomes possessivos abaixo:

PRONOMES POSSESSIVOS				
	Um objeto	Vários objetos	Um objeto	Vários objetos
1ª pessoa masculino	meu	meus	nosso	nossos
1ª pessoa feminino	minha	minhas	nossa	nossas
2ª pessoa masculino	teu	teus	vosso	vossos
2ª pessoa feminino	tua	tuas	vossa	vossas
3ª pessoa masculino	seu	seus	seu	seus
3ª pessoa feminino	sua	suas	sua	suas

1. Preencha a lacuna usando o pronome possessivo.

Eu vendi **minhas** joias.

- Nós reformamos _____ casa.
- Ela arrumou _____ mala.
- Eu explique aos funcionários o _____ projeto.
- Nós ouvimos _____ discos preferidos.
- Elas pediram _____ prêmios.
- Aquela bolsa é _____ ?
- _____ carro é lindíssimo!



2. Pinte a frase que explica o que é um pronome possessivo.

- É o tipo de pronome que substitui o substantivo.
- É o tipo de pronome que indica a posição de algum elemento.
- É um tipo de pronome que indica a posse de algo.
- É o tipo de pronome que se refere à qualidade de um substantivo.

3. Qual das alternativas contém apenas pronomes possessivos.

- Teu, tua, seu, sua.
- Cujo, cuja, cujos, cujas.
- Meu, minha, comigo, contigo.
- Este, esta, esse, essa.



4. Relacione:

- | | |
|--|--------------------------------------|
| (1) Pronomes Pessoais do Caso Reto. | () Mim, nos, se, lhe, consigo, vos. |
| (2) Pronomes Pessoais do Caso Oblíquo. | () Nós, tu, ela, eu, vós, eles. |
| (3) Pronomes de Tratamento | () Nossa, sua, tua, meu, vossas. |
| (4) Pronomes Possessivos. | () Alteza, Senhor, Vossa Santidade. |

5. Observe a ilustração e escreva três frases com pronomes possessivos.