



PREFEITURA MUNICIPAL
BOM JESUS
DO ITABAPOANA



SECRETARIA
MUNICIPAL DE
EDUCAÇÃO

Atividades Orientadoras

1º ANO
Ensino Fundamental 1





UNIDADE ESCOLAR:

PROFESSOR(A)

ANO DE ESCOLARIDADE

1º ANO

DATA

NOME:

HOJE É?

SEGUNDA

TERÇA

QUARTA

QUINTA

SEXTA

CÓDIGO BNCC

EF15LP02/EF15LP03/EF01LP05/EF15LP13

ABC LÍNGUA PORTUGUESA

LEIA E RESPONDA:

ERA UMA VEZ UM GATO AZUL.
LEVOU UM SUSTO E FUGIU PRO SUL.

ERA UMA VEZ UM GATO VERMELHO.
ENTROU NO BANHEIRO E FEZ CARETA NO ESPELHO.

ERA UMA VEZ UM GATO AMARELO.
ESQUECEU DE COMER E FICOU MAGRELO.

ERA UMA VEZ UM GATO VERDE.
ELE ERA PREGUIÇOSO E FOI DEITAR NA REDE.

ERA UMA VEZ UM GATO COLORIDO.
BRINCAVA COM OS AMIGOS E ERA MUITO DIVERTIDO.

ERA UMA VEZ UM GATO LARANJA.
FICOU DOENTE E SÓ QUERIA CANJA.




ERA UMA VEZ UM GATO MARROM.
OLHOU PRA GATA E FEZ "ROM ROM".

ERA UMA VEZ UM GATO ROSA.
COMEU UMA SARDINHA DELICIOSA.

ERA UMA VEZ UM GATO PRETO.
ERA TEIMOSO E BRINCOU COM UM ESPETO.

ERA UMA VEZ UM GATO BRANCO.
ERA TÃO SAPECA QUE PULOU DO BARRANCO.

ERA UMA VEZ UM GATO XADREZ.
QUEM GOSTOU DESTA HISTÓRIA QUE CONTE OUTRA VEZ...



1. SOBRE QUEM FALA A HISTÓRIA? _____.

2. O QUE CADA GATO TINHA DE DIFERENTE? _____.

3. O QUE ACONTECEU COM O GATO AZUL?

_____.

4. COMO ERA O GATO VERDE?

_____.

5. QUAL GATO FICOU DOENTE E SÓ QUERIA CANJA? _____.

6. O QUE O GATO ROSA COMEU? _____.

7. O QUE O GATO BRANCO FEZ? _____.


8. NO FINAL DA HISTÓRIA, QUAL GATO APARECEU?

_____.

9. PINTE, NO POEMA, AS PALAVRAS QUE RIMAM.

10. NA HISTÓRIA, VIMOS GATOS DE VÁRIAS CORES E O QUE CADA UM FAZIA. AGORA É A SUA VEZ DE CRIAR! INVENTE UMA NOVA COR DE GATO E ESCREVA O QUE ELE FARIA. DEPOIS, FAÇA UM DESENHO DO SEU GATO ESPECIAL.

EXEMPLO: *ERA UMA VEZ UM GATO LILÁS, QUE DANÇAVA NO QUINTAL E CORRIA MUITO VELOZ.*





UNIDADE ESCOLAR:

PROFESSOR(A)

ANO DE ESCOLARIDADE

1º ANO

DATA

NOME:

HOJE É?

SEGUNDA

TERÇA

QUARTA

QUINTA

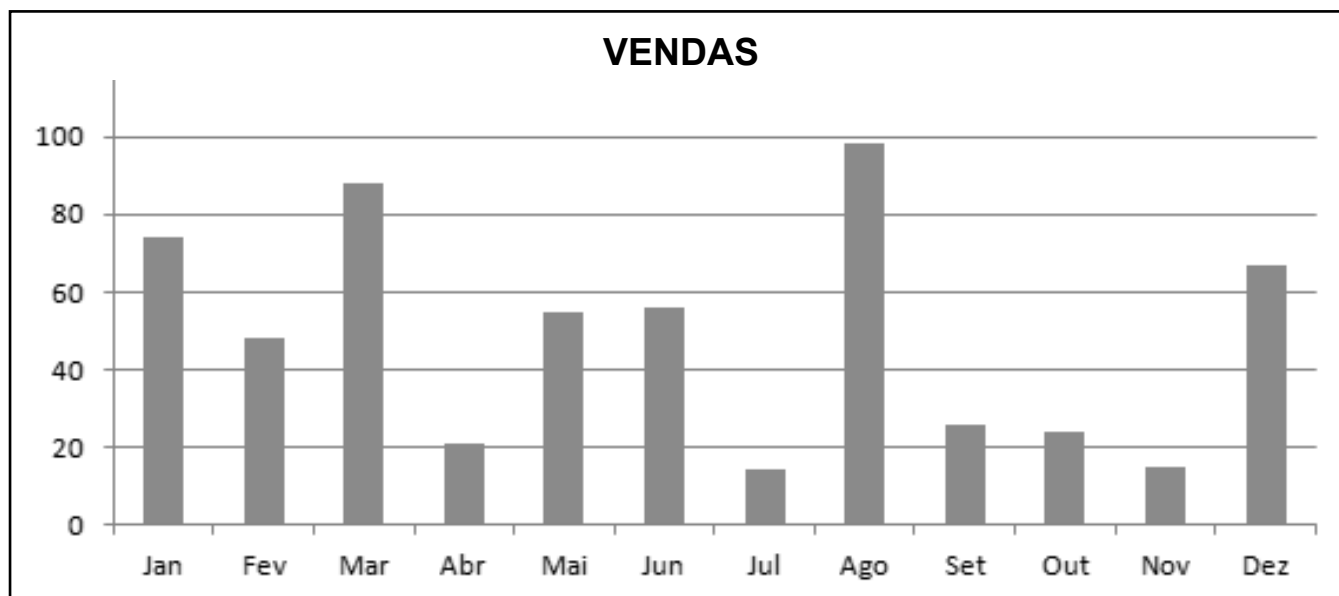
SEXTA

CÓDIGO BNCC

EF01MA08/EF01MA01/EF01MA21

123 MATEMÁTICA 123

1. ESTE GRÁFICO MOSTRA QUANTOS SORVETES UMA SORVETERIA VENDEU EM CADA MÊS DO ANO. EM ALGUNS MESES, FEZ MUITO CALOR, E AS PESSOAS COMPRARAM MAIS SORVETE. EM OUTROS MESES, ESTAVA MAIS FRIO E A VENDA FOI MENOR.



2. QUAL FOI O MÊS COM MAIOR VENDA DE SORVETES? _____

3. QUAL FOI O MÊS COM MENOR VENDA DE SORVETES? _____

4. EM QUAIS MESES A SORVETERIA VENDEU MAIS DE 60 SORVETES?

5. HOUVE MESES EM QUE A SORVETERIA VENDEU A MESMA QUANTIDADE DE SORVETES? QUAIS? _____

6. EM QUAIS MESES AS VENDAS FORAM MENORES QUE 30 SORVETES?

7. EM QUAL MÊS VENDEU MAIS SORVETES: JANEIRO OU DEZEMBRO? QUANTOS SORVETES A MAIS?

CALCULE DE ACORDO COM O GRÁFICO:

8. EM JANEIRO, FORAM VENDIDOS 75 SORVETES E EM FEVEREIRO, 50 SORVETES. QUANTOS SORVETES FORAM VENDIDOS NESSES DOIS MESES JUNTOS?

R.: _____

| D | U |
|---|---|
| | |
| | |
| | |

9. EM MARÇO, FORAM VENDIDOS 88 SORVETES E EM ABRIL, APENAS 20 SORVETES. QUANTOS SORVETES A MAIS FORAM VENDIDOS EM MARÇO DO QUE EM ABRIL?

R.: _____

| D | U |
|---|---|
| | |
| | |
| | |

10. EM AGOSTO, FORAM VENDIDOS 98 SORVETES. EM NOVEMBRO, APENAS 15 SORVETES. QUANTOS SORVETES A MAIS FORAM VENDIDOS EM AGOSTO?

R.: _____

| D | U |
|---|---|
| | |
| | |
| | |

11. SE EM DEZEMBRO FORAM VENDIDOS 68 SORVETES E EM JANEIRO, 75 SORVETES, QUANTOS SORVETES A SORVETERIA VENDEU NESSES DOIS MESES JUNTOS?

R.: _____

| D | U |
|---|---|
| | |
| | |
| | |



UNIDADE ESCOLAR:

PROFESSOR(A)

ANO DE ESCOLARIDADE
1º ANO

DATA

NOME:

HOJE É?

SEGUNDA TERÇA QUARTA QUINTA SEXTA

CÓDIGO BNCC

EF12LP01/EF15LP18/EF01LP05/EF15LP13

ABC LÍNGUA PORTUGUESA

1. RESPONDA A ADIVINHA:



O QUE É, O QUE É?
TEM UMA ASA, MAS NÃO VOA.
SERVE BEBIDA QUENTINHA
E MUITO BOA.



2. PINTE A IMAGEM QUE REPRESENTA A RESPOSTA DA ADIVINHA E ESCREVA ACIMA.



| | | | | | |
|--|--|--|--|--|--|
| | | | | | |
|--|--|--|--|--|--|




QUANTAS VOGAIS? _____

QUANTAS CONSOANTES? _____


PINTE UMA BOLINHA PARA CADA SÍLABA DA PALAVRA.





3. REESCREVA AS FRASES SUBSTITUINDO OS DESENHOS PELO NOME DE CADA UM DELES.

A) O  DA XÊNIA É UM LUXO.

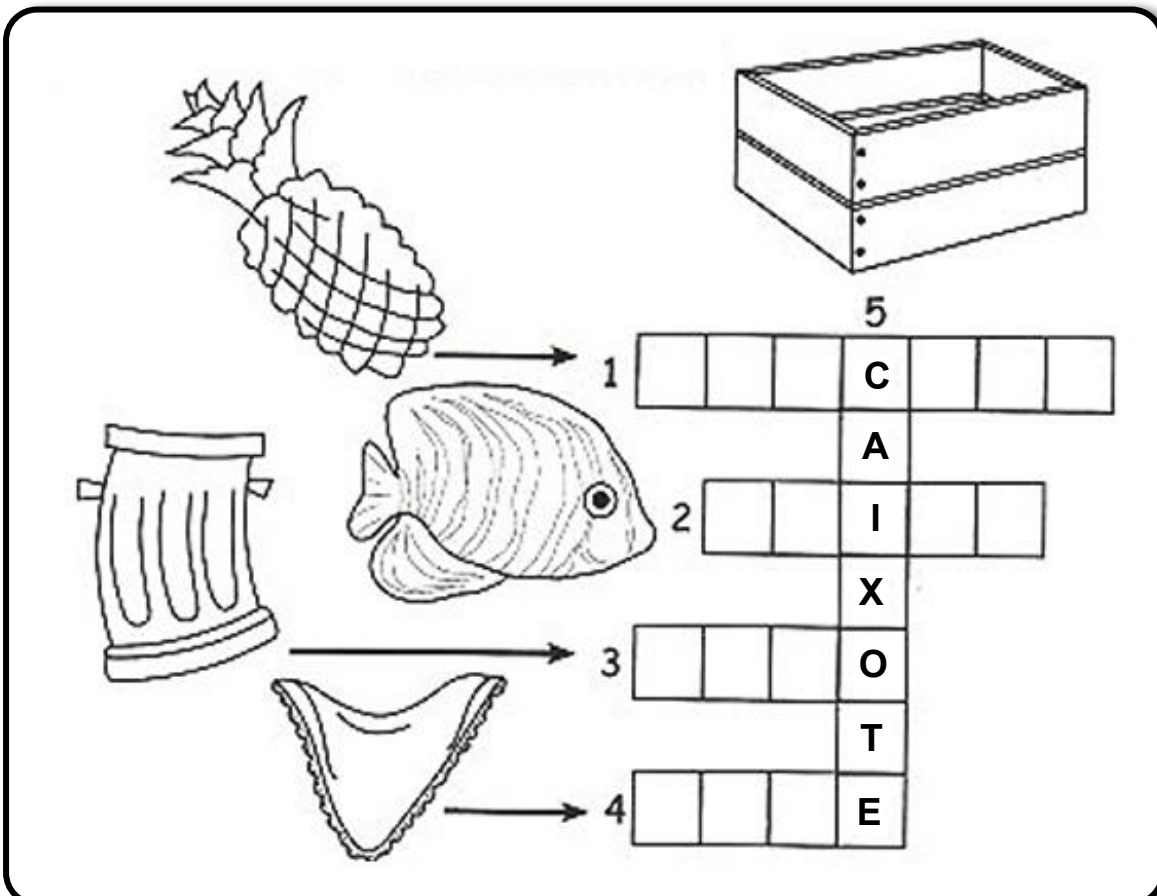
B) PIXOXÓ PEGOU O  DA .

C) A  CAXUXA ASSUSTOU AS CRIANÇAS.

D) O GATO PIXOXÓ ESTOUROU A .

E) A MAMÃE FRITOU  E FEZ SALADA DE MAXIXE.

4. COMPLETE A CRUZADINHA COM O NOME DAS IMAGENS.



5

1 C

2 I

3 O

4 T

E



UNIDADE ESCOLAR:

PROFESSOR(A)

ANO DE ESCOLARIDADE

1º ANO

DATA

NOME:

HOJE É?

SEGUNDA

TERÇA

QUARTA

QUINTA

SEXTA

CÓDIGO BNCC

EF01MA01/EF01MA10



123 MATEMÁTICA 123

1. COMPLETE A SEQUÊNCIA NUMÉRICA.

| | | | | | | | | | |
|----|----|----|----|----|----|----|----|----|----|
| 1 | | | | 5 | | | 8 | | 10 |
| | | 13 | | | 16 | | | 19 | |
| | | | 24 | | | | | | |
| 31 | | | | | | | | | 40 |
| | 42 | | | | | 47 | | | |
| 51 | | | | 55 | | | | 59 | |
| | | 63 | | | | | 68 | | |
| | 72 | | | | 76 | | | | 80 |
| | | | 84 | | | 87 | | | |
| 91 | | | | 95 | | | | | |

2. RECORTE E COLE NO INSTAGRAM DAS DEZENAS, OS NÚMEROS ANEXOS À PÁGINA SEGUINTE, CORRESPONDENTE AO MATERIAL DOURADO.

100



ANEXO – NÚMEROS

