



PREFEITURA MUNICIPAL
BOM JESUS
DO ITABAPOANA



SECRETARIA
MUNICIPAL DE
EDUCAÇÃO

Atividades Orientadoras



4º ANO
Ensino Fundamental 1



UNIDADE ESCOLAR:

PROFESSOR(A)

ANO DE ESCOLARIDADE DATA

4º ANO

NOME:

HOJE É?

SEGUNDA

TERÇA

QUARTA

QUINTA

SEXTA

CÓDIGO BNCC

EF35LP03/ EF35LP04/ EF35LP24

LÍNGUA PORTUGUESA

GÊNERO TEXTUAL: CENA DE TEATRO OU TEXTO DRAMÁTICO

O príncipe desencantado

O primeiro beijo foi dado por um príncipe numa princesa que estava dormindo, encantada, há cem anos. Assim que foi beijada, ela acordou e começou a falar:

Princesa - Muito obrigada, querido príncipe. Você por acaso é solteiro?

Príncipe - Sim, minha querida princesa.

Princesa - Então, temos que nos casar já! Você me beijou, e foi na boca, afinal de contas não fica bem, não é mesmo?

Príncipe - É ... querida princesa.

Princesa - Você tem um castelo, é claro.

Príncipe -Tenho... Princesa.

Princesa - E quantos quartos tem o seu castelo, posso saber?

Príncipe -Trinta e seis.

Princesa - Só? Pequeno, hein! Mas não faz mal, depois a gente faz umas reformas... Deixa eu pensar quantas amas eu vou ter que contratar... Umas quarenta, eu acho que dá!

Príncipe - Tantas assim?

Princesa - Ora, meu caro, você não espera que eu vá gastar as minhas unhas varrendo, lavando e passando, não é?

Príncipe - Mas quarenta amas!



Princesa - Ah, eu não quero nem saber. Eu não pedi para ninguém vir aqui me beijar e já vou avisando que quero umas roupas novas, as minhas devem estar fora de moda; afinal, passaram-se cem anos, não é mesmo? E quero uma carruagem de marfim, sapatinhos de cristal e... e... joias, é claro! Eu quero anéis, pulseiras, colares, tiaras, coroas, cetros, pedras preciosas e discos de platina.

Príncipe - Mas eu não sou o rei das Arábias, sou apenas um príncipe...

Princesa - Não me venha com desculpas esfarrapadas! Eu estava aqui dormindo e você veio e me beijou e agora vai querer que eu ande por aí como uma gata borralheira? Não, não e não, e outra vez não e mais uma vez não!

Tanto a princesa falou que o príncipe se arrependeu de ter ido até lá e a beijado. Então, teve uma ideia. Esperou a princesa ficar distraída, se jogou sobre ela e deu outro beijo, bem forte; a princesa caiu imediatamente em sono profundo e dizem que até hoje ela está lá, adormecida. Parece que a notícia se espalhou e os príncipes passam correndo pela frente do castelo onde ela dorme, assobiando e olhando para outro lado.

Flávio de Souza. Príncipe e princesas, sapos e lagartos: histórias modernas de tempos antigos. São Paulo: FTD, 1996. p. 33 e 34.

1. Quais são os personagens da história?

2. O que aconteceu com a princesa no começo da história?

- a) () Ela estava brincando no jardim.
- b) () Ela dormia encantada há cem anos.
- c) () Ela estava lendo um livro.
- d) () Ela fugiu do castelo.

3. O que aconteceu logo após o príncipe beijar a princesa?

- a) () Ela continuou a dormir.
- b) () Ela acordou, começou a falar e o agradeceu.
- c) () Ela o pediu em casamento.
- d) () Perguntou quais eram os seus bens.

4. Quais eram as intenções da princesa?

- a) () Casar-se com o príncipe e amá-lo pelo resto da vida.
- b) () Conhecer um pouco mais sobre o príncipe.
- c) () Saber quais eram os bens que o príncipe tinha para poder usufruir deles, após o casamento.
- d) () Ficar amiga do príncipe e saber se realmente ele é o homem certo para casar.

5. Qual foi a reação do príncipe diante das exigências da princesa?

- a) () Ficou animado com o casamento.
- b) () Chamou o rei.
- c) () Se arrependeu de ter beijado a princesa.
- d) () Pediu ajuda aos guardas.



6. Depois de toda a conversa com a princesa, o que o príncipe fez?

- a) () Aceitou casar-se com a princesa imediatamente.
- b) () Disse à princesa que, para casar-se, as coisas teriam que ser diferentes.
- c) () Explicou que não iria casar-se com a princesa.
- d) () Arrependeu-se de tê-la acordado e a beijou novamente, a fim de que caísse em sono profundo.

7. Após o final da história, o que os outros príncipes faziam quando passavam pelo castelo?

- a) () Tocavam a campainha.
- b) () Subiam a torre.
- c) () Entravam escondidos.
- d) () Passavam correndo e fingiam que não viam o castelo.

8. Mal a princesa acordou e já estava exigindo muitas coisas...

a) O que ela exigiu?

b) Das exigências que a princesa fez, qual delas você considera a mais absurda?

c) O que você diria a princesa se fosse o príncipe dessa história?

9. Procure algumas palavras relacionadas ao texto no diagrama e escreva nas linhas ao lado.

D	G	A	B	B	T	U	E	I	A
U	F	M	E	A	N	É	I	S	N
N	R	E	I	O	P	Q	N	B	O
H	W	T	J	R	O	U	P	A	S
S	I	S	O	L	T	E	I	R	O
B	S	X	N	Y	Ç	G	K	L	E
B	D	P	R	I	N	C	E	S	A

10. Algumas destas palavras estão escritas no **plural** e outras no **singular**. Escreva-as dentro do retângulo, conforme indicado abaixo.

✓ **SINGULAR:**

✓ **PLURAL:**



UNIDADE ESCOLAR:

PROFESSOR(A)

ANO DE ESCOLARIDADE

4º ANO

DATA

NOME:

HOJE É?

SEGUNDA

TERÇA

QUARTA

QUINTA

SEXTA

CÓDIGO BNCC

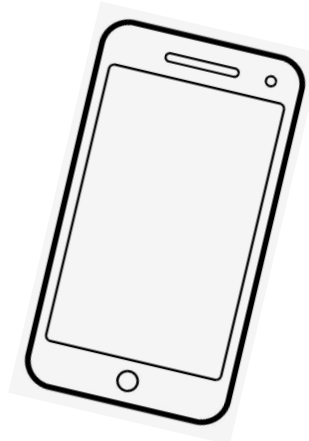
EF04MA06/ EF04MA07



ADIÇÃO E SUBTRAÇÃO COM NÚMEROS NATURAIS

1. Willian tem alguns acessórios de celular para vender e preparou a tabela a seguir.

ACESSÓRIOS	VALORES
Capa de celular	R\$ 20,00
Fone de ouvido	R\$ 35,00
Película 3D	R\$ 25,00
Protetor de câmera	R\$ 10,00
Protetor de carregador	R\$ 17,00



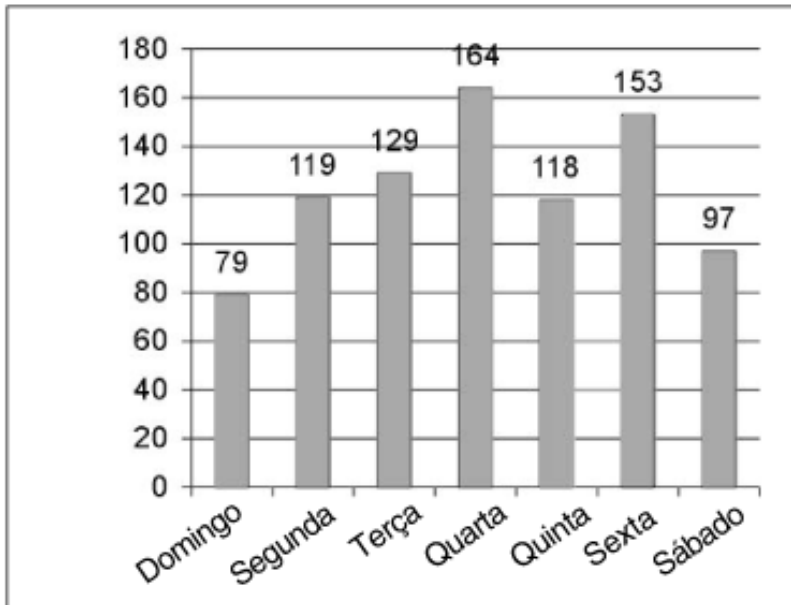
Um cliente comprou **1 capa de celular, 1 película 3D e 2 protetores de câmera**. Qual é o valor total dessa compra?

- a) R\$ 45,00.
- b) R\$ 50,00.
- c) R\$ 55,00.
- d) R\$ 65,00.

2. Na escola de Rebeca, estudam 488 alunos. Desses alunos, 387 vão participar de um evento esportivo. Quantos não participarão desse evento?

- a) 100.
- b) 101.
- c) 875.
- d) 181.

3. João é dono de uma fábrica de picolé. O gráfico a seguir indica a quantidade de picolés que ele vendeu em uma semana. Observe o gráfico para responder às questões:



a) Quantos picolés ele vendeu nos três primeiros dias da semana?

b) Em qual dia da semana ele vendeu mais picolés? _____

c) Em qual dia ele vendeu menos picolés? _____

d) Qual a diferença de picolés entre o dia que ele mais vendeu e o que ele menos vendeu?

e) Quantos picolés ele vendeu a mais na quarta do que na quinta?

CÁLCULO

RESPOSTA:

f) Qual a diferença de picolés vendidos na sexta e no sábado?

CÁLCULO

RESPOSTA:

2. Coloque as palavras abaixo em **ordem alfabética**, como aparecem no **dicionário**:

a) princesa – príncipe – platina – pedras – passar

b) cetro – castelo – carruagem – coroas – campanha

3. O título do texto é "O Príncipe **Desencantado**". O que essa expressão quer dizer?

- a) Que o príncipe perdeu o seu castelo.
- b) Que o príncipe deixou de ser um personagem de conto de fadas.
- c) Que o príncipe ficou triste porque a princesa dormiu de novo.
- d) Que o príncipe se decepcionou com a princesa e perdeu o encanto por ela.

4. No trecho "**quero uma carruagem de marfim**", a palavra "**marfim**" se refere a:

- a) Um tipo de tecido.
- b) Um metal brilhante.
- c) Um material branco tirado da presa de elefante.
- d) Uma roda de ouro.

5. A palavra "**amas**", no texto, quer dizer:

- a) Mulheres da realeza.
- b) Mulheres que cuidam da casa ou das crianças.
- c) Joias preciosas.
- d) Guardas do castelo.

6. Qual frase abaixo está corretamente pontuada?

- a) Você me beijou e foi na boca afinal de contas não fica bem não é mesmo.
- b) Você me beijou, e foi na boca. Afinal de contas, não fica bem, não é mesmo?
- c) Você me beijou e foi na boca afinal de contas não fica bem não é mesmo!
- d) Você, me beijou. E foi na boca afinal de contas, não fica bem não é mesmo?



7. Retire do texto "**O príncipe desencantado**":

a) Uma frase interrogativa:

b) Uma frase exclamativa:

c) Uma frase afirmativa:



UNIDADE ESCOLAR:

PROFESSOR(A)

ANO DE ESCOLARIDADE

DATA

NOME:

HOJE É?

SEGUNDA

TERÇA

QUARTA

QUINTA

SEXTA

CÓDIGO BNCC



RELAÇÃO INVERSA DA ADIÇÃO E DA SUBTRAÇÃO



A **adição** e a **subtração** são operações **inversas**. A adição aumenta o valor, enquanto a subtração diminui. Ou seja, o resultado de uma adição pode ser desfeito por uma subtração e vice-versa.

Ex. 1: Na operação $\underline{\quad} + 5 = 7$, o algarismo que está faltando pode ser encontrado através de uma subtração, sendo $7 - 5 = 2$, portanto, o algarismo faltante para completar a operação é o número **2**.

Ex. 2: Na operação $\underline{\quad} - 3 = 4$, o algarismo faltante pode ser encontrado através da adição: $4 + 3 = 7$. Assim, o algarismo faltante é o número **7**.

1. Com base na definição das operações inversas, indique os algarismos faltantes nas seguintes operações.

a) $\underline{\quad} + 5 = 9$

b) $6 + \underline{\quad} = 8$

c) $\underline{\quad} - 5 = 5$

d) $4 - \underline{\quad} = 2$

2. Ricardo foi ao shopping com sua esposa e gastou R\$ 150,00. Ao chegar em casa, ainda restavam R\$ 120,00 na carteira. Qual operação representa o inverso da adição desses valores para indicar quanto Ricardo tinha antes de ir ao shopping?

a) $150 - 120 = 30$

c) $150 + 120 = 270$

b) $150 - 30 = 120$

d) $270 - 150 = 120$




3. Considere a operação a seguir.

$$28 + \underline{\quad} = 50$$

CÁLCULO

RESPOSTA: _____



4. Subtraindo 12 de um número, obtemos como resultado 23. Que número é esse?

5. Adicionando 34 a um número, obtemos como resultado 56. Que número é esse?

6. Resolva o problema e confira o resultado aplicando a operação inversa.
Lucas tem 596 figurinhas e seu irmão tem 387. Quantas figurinhas têm os dois juntos?

Empty rounded rectangular box for the solution to question 6.

7. Resolva as operações a seguir e verifique o resultado fazendo a operação inversa.

OPERAÇÃO	OPERAÇÃO INVERSA
a) $346 + 38 =$	
b) $1\ 345 + 384 =$	
c) $845 - 345 =$	
d) $1\ 865 - 523 =$	

