



PREFEITURA MUNICIPAL
BOM JESUS
DO ITABAPOANA



SECRETARIA
MUNICIPAL DE
EDUCAÇÃO

Atividades Orientadoras

1º ANO
Ensino Fundamental 1





UNIDADE ESCOLAR:

PROFESSOR(A)

ANO DE ESCOLARIDADE
1º ANO

DATA

NOME:

HOJE É?

SEGUNDA TERÇA QUARTA QUINTA SEXTA

CÓDIGO BNCC



EF12LP18/EF15LP02/EF15LP03/EF01LP03/EF15LP13

ABC LÍNGUA PORTUGUESA

1. LEIA O TEXTO COM A PROFESSORA E RESPONDA:

A LUA

POR QUE SERÁ QUE
 NUMA NOITE A LUA É
 TÃO PEQUENA E FININHA
 E OUTRA NOITE ELA FICA
 TÃO REDONDA E GORDINHA
 PARA DEPOIS FICAR DE NOVO
 DAQUELE JEITO ESTREITINHA?
 DEPENDE DO QUÊ?
 DEPENDE DO DIA
 QUE A GENTE VÊ.

O JANDIRA MASUR. O FRIO PODE SER QUENTE? S.P., ÁTICA.


2. QUAL É O TÍTULO DO POEMA? _____

3. QUAL É O ASSUNTO DO POEMA? _____

4. QUEM ESCREVEU O POEMA? _____

5. RETIRE DO TEXTO AS CARACTERÍSTICAS DA LUA:

6. ESCREVA:

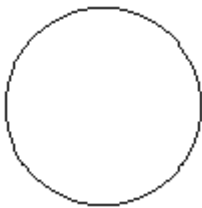


NÚMERO DE LETRAS: _____

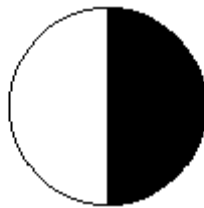
NÚMERO DE VOGAIS: _____

NÚMERO DE CONSOANTES: _____

7. DEPENDENDO DO DIA QUE A GENTE VÊ, A LUA PODE SER...




CHEIA



MINGUANTE




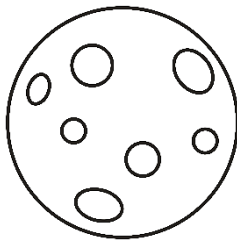
NOVA



CRESCENTE

ESCREVA O NOME DAS FASES DA LUA:

LUA CHEIA – LUA MINGUANTE – LUA CRESCENTE – LUA NOVA





UNIDADE ESCOLAR:

PROFESSOR(A)

ANO DE ESCOLARIDADE

DATA

NOME:

HOJE É?

CÓDIGO BNCC

SEGUNDA

TERÇA


QUARTA

QUINTA


SEXTA

123 MATEMÁTICA 123

1. COMPLETE A CESTA DE CADA CRIANÇA PARA QUE CADA UMA TENHA 10 OVOS.



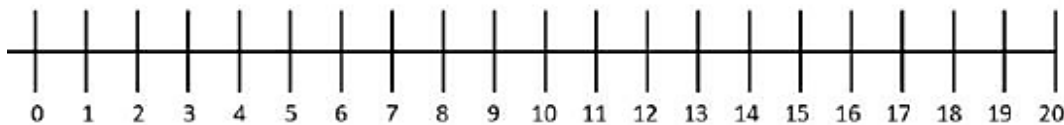
2 + ___ = 10 5 + ___ = 10 7 + ___ = 10 1 + ___ = 10 4 + ___ = 10




9 + ___ = 10 3 + ___ = 10 0 + ___ = 10 6 + ___ = 10 9 + ___ = 10

2. RESOLVA A SUBTRAÇÃO NA RETA NUMÉRICA:

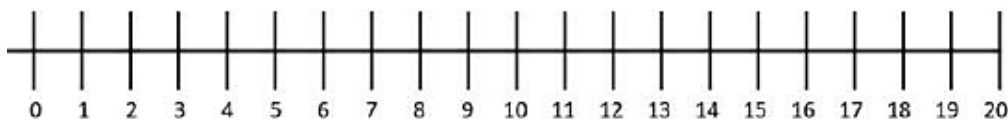
8 - 3 =



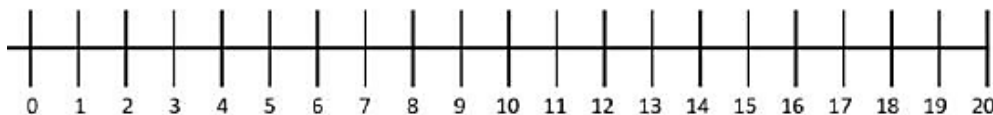
10 - 4 =



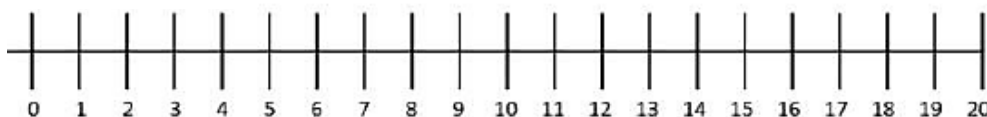
$6 - 2 =$









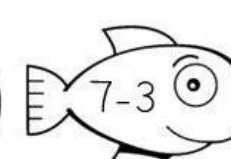













$19 - 3 =$



$14 - 4 =$



3. PINTE O PEIXINHO CORRESPONDENTE AO RESULTADO DO AQUÁRIO:



UNIDADE ESCOLAR:

PROFESSOR(A)

ANO DE ESCOLARIDADE
1º ANO

DATA

NOME:

HOJE É?













SEGUNDA TERÇA QUARTA QUINTA SEXTA

CÓDIGO BNCC

EF01LP07/EF01LP12/EF15LP13

ABC LÍNGUA PORTUGUESA

1. PINTE A BOLINHA CORRESPONDENTE À POSIÇÃO DA SÍLABA EM DESTAQUE.

<p>LÃO</p>  <p>○○○</p>	<p>LO</p>  <p>○○○</p>	<p>LU</p>  <p>○○</p>
<p>LÉ</p>  <p>○○○</p>	<p>LI</p>  <p>○○○</p>	<p>LÁ</p>  <p>○○</p>
<p>LI</p>  <p>○○○</p>	<p>LA</p>  <p>○○○</p>	<p>LU</p>  <p>○○</p>
<p>LE</p>  <p>○○</p>	<p>LO</p>  <p>○○</p>	<p>LÃO</p>  <p>○○</p>

2. SEPARE AS SÍLABAS DAS PALAVRAS:

VIOLINO

COLA

CAVALO

ALICATE

NOVELO

JILÓ


MULATA

LAMA

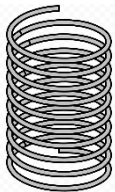

MALETA

JAVALI

MELÃO



3. ENCONTRE O NOME DAS FIGURAS NO CAÇA-PALAVRAS.



B	O	L	A	H	J	B	A
V	C	D	E	Q	E	A	R
L	U	V	A	K	P	L	Z
S	E	C	M	O	L	A	B
H	B	S	R	T	U	M	V
N	O	Z	B	U	L	E	X
P	L	G	R	T	F	C	V
T	O	X	S	M	L	U	A



UNIDADE ESCOLAR:

PROFESSOR(A)

ANO DE ESCOLARIDADE

DATA

NOME:

HOJE É?

SEGUNDA

TERÇA

QUARTA

QUINTA

SEXTA

CÓDIGO BNCC

EF01MA01/EF01MA06/EF01MA08

123 MATEMÁTICA 123

1. DESCUBRA O NÚMERO QUE SE FORMARÁ.

$+1 =$

$+2 =$

$+3 =$

$+4 =$

$+5 =$

$+6 =$


$+7 =$

$+8 =$

$+9 =$

2. LEIA E PINTE:

- AMARELO** → UM NÚMERO MENOR QUE 20.
- VERDE** → O NÚMERO QUE REPRESENTA UMA DEZENA.
- AZUL** → O NÚMERO QUE REPRESENTA 7 UNIDADES.
- ROSA** → O NÚMERO QUE ESTÁ ENTRE 33 E 35.
- LARANJA** → O MAIOR NÚMERO QUE VOCÊ ENCONTRAR.
- CINZA** → O MENOR NÚMERO QUE VOCÊ ENCONTRAR.
- LILÁS** → O NÚMERO QUE VEM LOGO APÓS O 39.
- VERMELHO** → O NÚMERO MAIOR QUE 47 E MENOR QUE 49.



3. CALCULE:

$$\begin{array}{r} 67 \\ - 14 \\ \hline \end{array}$$

$$\begin{array}{r} 49 \\ - 25 \\ \hline \end{array}$$

$$\begin{array}{r} 66 \\ - 43 \\ \hline \end{array}$$

$$\begin{array}{r} 85 \\ - 60 \\ \hline \end{array}$$

$$\begin{array}{r} 49 \\ - 17 \\ \hline \end{array}$$

$$\begin{array}{r} 72 \\ - 11 \\ \hline \end{array}$$

$$\begin{array}{r} 96 \\ - 82 \\ \hline \end{array}$$

$$\begin{array}{r} 37 \\ - 20 \\ \hline \end{array}$$



UNIDADE ESCOLAR:

PROFESSOR(A)

ANO DE ESCOLARIDADE
1º ANO

DATA

NOME:

HOJE É?

SEGUNDA

TERÇA

QUARTA

QUINTA

SEXTA

CÓDIGO BNCC

EF15LP07/EF01LP18/EF12LP06/EF15LP13

PRODUÇÃO DE TEXTO

1. Ficha de leitura.

leão

leão viu

leão viu a

leão viu a leoa

leão viu a leoa e se

leão viu a leoa e se apaixonou.



2. Crie outra ficha de leitura. Eu começo.

A lua

