



PREFEITURA MUNICIPAL  
**BOM JESUS**  
DO ITABAPOANA



SECRETARIA  
MUNICIPAL DE  
**EDUCAÇÃO**

# *Atividades Orientadoras*



**4º ANO**  
*Ensino Fundamental 1*



UNIDADE ESCOLAR:

PROFESSOR(A)

ANO DE ESCOLARIDADE

4º ANO

DATA

NOME:

HOJE É?

SEGUNDA

TERÇA

QUARTA

QUINTA

SEXTA

CÓDIGO BNCC

EF35LP01/ EF35LP26/ EF15LP03

## LÍNGUA PORTUGUESA

Leia o texto abaixo e resolva às questões:

### OS VIAJANTES E O URSO



Dois homens viajavam juntos quando, de repente, surgiu um urso de dentro da floresta e parou diante deles, urrando. Um dos homens tratou de subir na árvore mais próxima e agarrar-se aos ramos. O outro, vendo que não tinha tempo para esconder-se, deitou-se no chão, esticado, fingindo de morto, porque ouvira dizer que os ursos não tocam em homens mortos.

O urso aproximou-se, cheirou o homem deitado, e voltou de novo para a floresta.

Quando a fera desapareceu, o homem da árvore desceu apressadamente e disse ao companheiro:

\_\_ Vi o urso a dizer alguma coisa no teu ouvido. Que foi que ele disse?

\_\_ Disse que eu nunca viajasse com um medroso.

**Moral da História:** “Na hora do perigo é que se conhecem os amigos.”

1. O texto que você acabou de ler é uma fábula, pois ele é composto por expressões literárias curtas, escrito em prosa e apresenta uma moral. Desse modo, qual a finalidade do texto?

- a) Apresentar uma opinião sobre um determinado tema.
- b) Criticar as pessoas desatentas aos perigos da floresta
- c) Mostrar acontecimentos do dia a dia em uma narração curta.
- d) Mostrar um ensinamento, fazendo menção a comportamentos humanos.

2. Qual o fato que deu origem à narrativa?

---

---

3. Por que apenas um dos viajantes conseguiu subir na árvore?

---

---

4. Por que o homem resolveu se fingir de morto ao aparecer o urso?

---

---

5. Sobre o texto, assinale a alternativa **VERDADEIRA**.

- a) Os dois viajantes conseguiram sobreviver porque tomaram decisões.
- b) Os viajantes já estavam observando o urso antes que ele se aproximasse.
- c) O urso conversou com um dos viajantes e criticou aquele que subira na árvore.
- d) Um dos viajantes se deitou porque supôs que seria melhor que subir na árvore.

6. No trecho: “Dois homens viajavam juntos **quando**, de repente...” a palavra grifada indica ideia de:

- a) tempo.
- b) lugar.
- c) modo.
- d) intensidade.

7. É possível concluir, após a leitura do texto, que o urso não atacou o homem deitado porque:

- a) resolveu dar uma lição de vida.
- b) acreditou que ele estivesse morto.
- c) não gostou do cheiro do homem.
- d) precisava voltar logo para a floresta.

8. No trecho: “o homem da árvore desceu **apressadamente**...”, a palavra sublinhada é um advérbio que indica ideia de:

- a) lugar.
- b) tempo.
- c) modo.
- d) afirmação.

9. Qual a palavra abaixo substitui a grifada na expressão: “Disse que eu **nunca** viajasse com um medroso.”?

- a) certamente.
- b) talvez.
- c) jamais.
- d) decerto.

10. Para que serve a moral da fábula?

---

11. Qual moral abaixo substitui aquela apresentada pelo texto?

- a) Os preguiçosos colhem o que merecem.
- b) De médico e de louco todo mundo tem um pouco.
- c) Águas passadas não movem moinho.
- d) Os amigos se conhecem nos momentos difíceis.



UNIDADE ESCOLAR:

PROFESSOR(A)

ANO DE ESCOLARIDADE

4º ANO

DATA

NOME:

HOJE É?

SEGUNDA

TERÇA

QUARTA

QUINTA

SEXTA

CÓDIGO BNCC

EF04MA01/ EF04MA06/ EF04MA07

# 123 MATEMÁTICA 123

## Revisando...

1. De acordo com o número destacado na informação abaixo, faça o que se pede.

A População total do Município de Bom Jesus do Itabapoana era de **35.173** de habitantes, de acordo com o Censo Demográfico do **IBGE** (2022).

a) Quantos habitantes tem o município de **Bom Jesus do Itabapoana**?

\_\_\_\_\_

b) Qual o antecessor do número citado? \_\_\_\_\_ E o sucessor? \_\_\_\_\_

c) Qual o valor posicional do algarismo 5? \_\_\_\_\_

d) Escreva o número por extenso: \_\_\_\_\_

\_\_\_\_\_

e) Esse número é par ou ímpar? \_\_\_\_\_

f) Esse número tem \_\_\_\_\_ ordens e \_\_\_\_\_ classes.

g) O número \_\_\_\_\_ ocupa a ordem das dezenas de milhar.

2. Observe o número apresentado abaixo.

**61. 267**


A decomposição correta desse número é:

a)  $60.000 + 1.000 + 200 + 60 + 7$


b)  $6.000 + 100 + 20 + 6 + 7$

c)  $600 + 100 + 20 + 60 + 7$

d)  $60 + 10 + 20 + 6 + 7$



3. As paradas de ônibus de uma cidade são localizadas por números em uma reta numérica. A figura a seguir representa as paradas, o ponto **P** indica o número 960 e o ponto **V** o número 1020.



Qual o número que indica a parada no ponto **T**?

- (A) 961.            B) 990.            (C) 1000.            (D) 1020

4. A professora Maria pediu para seus alunos calcularem o resultado desta operação.

$$8\ 426 - 973$$

O resultado da operação é: \_\_\_\_\_

5. A escola de Natália está organizando uma gincana. Todos os alunos estão participando, para ganhar, eles precisam arrecadar 4500 latinhas de refrigerantes para reciclagem. Natália e seus amigos já arrecadaram 649 latinhas. Quantas latinhas faltam para eles ganharem a gincana?

- (A) 3800.  
(B) 3850.  
(C) 3851.  
(D) 3900.

6. Um restaurante serviu 2.889 pizzas no domingo, 1.256 pizzas na segunda-feira e 981 pizzas na terça-feira. Quantas pizzas serão servidas ao todo?

Resposta: \_\_\_\_\_  
\_\_\_\_\_

7. Débora quer economizar dinheiro. Ela vai depositar na poupança 195 reais por mês. Em 7 meses, quantos reais Débora terá depositado?

Resposta: \_\_\_\_\_  
\_\_\_\_\_

8. Resolva as seguintes divisões:



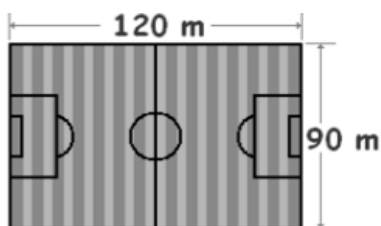
$$\begin{array}{r} 38 : 6 \\ \underline{38} \phantom{0} \\ 0 \phantom{0} \end{array}$$

$$\begin{array}{r} 73 : 5 \\ \underline{73} \phantom{0} \\ 0 \phantom{0} \end{array}$$

$$\begin{array}{r} 55 : 4 \\ \underline{55} \phantom{0} \\ 0 \phantom{0} \end{array}$$

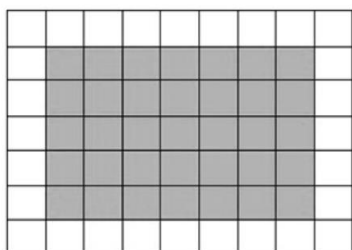


9. No clube que Alberto frequenta há um campo de futebol, em formato retangular, com as medidas indicadas na figura a seguir. Calcule o perímetro desse campo:



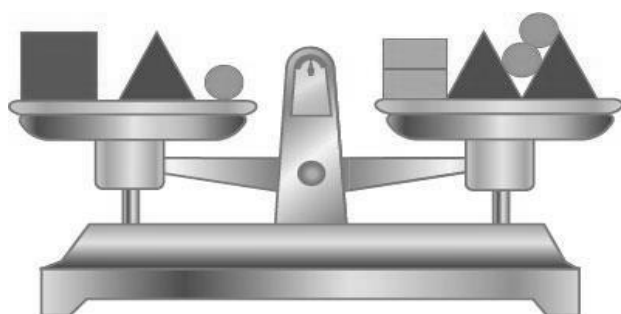
Resposta: \_\_\_\_\_

10. Rafael fez o desenho da quadra de vôlei do seu condomínio na malha quadriculada abaixo. Nessa malha, o lado de cada quadradinho corresponde a 1 m.



Qual é a área dessa quadra? \_\_\_\_\_

11. A balança está equilibrada. Veja o valor de cada uma das massas que estão no prato e resolva as situações:



- = 10 kg
- = 5 kg
- = 2 kg
- = 1 kg

a) Qual a medida de massa do primeiro prato? \_\_\_\_\_

b) Qual a medida de massa do segundo prato? \_\_\_\_\_

c) Qual o peso dos dois pratos juntos? \_\_\_\_\_



UNIDADE ESCOLAR:

PROFESSOR(A)  ANO DE ESCOLARIDADE  DATA

NOME:

HOJE É?

SEGUNDA  TERÇA  QUARTA  QUINTA  SEXTA

CÓDIGO BNCC

EF04LP01/ EF35LP05

# ABC LÍNGUA PORTUGUESA

## Revisando...

“O **substantivo** é uma palavra que nomeia **seres, coisas, sentimentos, características, entre outros.**”

1. Com base na explicação, faça o que se pede:

a) 2 Substantivos que dão nome a lugares.

\_\_\_\_\_

b) 2 substantivos que dão nome a coisas.

\_\_\_\_\_

c) 2 substantivos que nomeia seres humanos.

\_\_\_\_\_

d) 2 substantivos que nomeiam sentimentos.

\_\_\_\_\_

2. Encontre no texto “*Os viajantes e o urso*” e copie:

a) Um substantivo no **singular**: \_\_\_\_\_

b) Um substantivo no **plural**: \_\_\_\_\_

c) Um substantivo no **feminino**: \_\_\_\_\_

d) Um substantivo **no masculino**: \_\_\_\_\_


e) Um substantivo **primitivo**: \_\_\_\_\_

f) Um substantivo **derivado**: \_\_\_\_\_



3. Classifique os substantivos quanto ao gênero **masculino** ou **feminino**, acrescentando o artigo definido "O" ou "A".

- a) \_\_\_\_\_ homem
- b) \_\_\_\_\_ árvore
- c) \_\_\_\_\_ urso
- d) \_\_\_\_\_ floresta
- e) \_\_\_\_\_ companheiro
- f) \_\_\_\_\_ moral



4. Reescreva as frases abaixo no plural.

a) O homem viu o urso na floresta.

\_\_\_\_\_

b) A árvore balançava com o vento.

\_\_\_\_\_

c) O companheiro era um amigo fiel.

\_\_\_\_\_

d) O menino ouviu um barulho estranho.

\_\_\_\_\_

5. Complete com o grau adequado do substantivo entre parênteses.

- a) O \_\_\_\_\_ (*homem – aumentativo*) subiu rapidamente na árvore.
- b) O \_\_\_\_\_ (*urso – diminutivo*) foi embora sem atacar.
- c) O urso estava era tão bravo que o \_\_\_\_\_ (*companheiro – aumentativo*) ficou tremendo.

6. Classifique os substantivos abaixo como primitivos **(P)** ou derivados **(D)**:

- a) ( ) homem
- b) ( ) medo
- c) ( ) floresta
- d) ( ) medroso
- e) ( ) companheiro
- f) ( ) amizade
- g) ( ) viajante
- h) ( ) amigo

7. Encontre no texto "Os viajantes e o urso" uma palavra que significa:

- a) bosque. \_\_\_\_\_
- b) galhos. \_\_\_\_\_
- c) ameaça. \_\_\_\_\_
- d) parceiro. \_\_\_\_\_

